



naam: _____

groep: _____

1 Reken uit.



5	8		3	9		5	3		6	4		4	2	
1	2	x	1	3	x	1	4	x	1	5	x	1	7	x

2 Kleur de korting in de strook en schrijf de korting op.



a Het kost € 80,-. Je krijgt 50% korting.

De korting is €

b Het kost € 80,-. Je krijgt 25% korting.

De korting is €

c Het kost € 100,-. Je krijgt 20% korting.

De korting is €

d Het kost € 120,-. Je krijgt 25% korting.

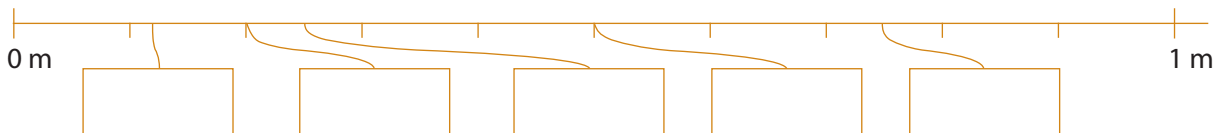
De korting is €

e Het kost € 200,-. Je krijgt 20% korting.


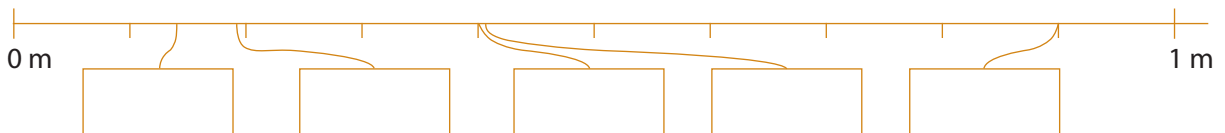
De korting is €

3 Schrijf de getallen in de kaartjes.

a Kies uit: 0,25 m 0,5 m 0,12 m 0,2 m 0,75 m



b Kies uit: 0,14 m 0,41 m 0,4 m 0,19 m 0,9 m





naam: _____

groep: _____

4 Kies de juiste maat.

Zet een rondje om de juiste maat.



500 g
0,05 kg
50 mg

250 mg
250 ml
2,5 cl

800 cm
0,8 m
80 dl

75 cm
75 g
75 cl

1,5 l
1,5 g
1,5 dm

5 Zet in de andere maat.

1 m = cm

1 l = cl

1 g = cg

1 m = mm

1 l = ml

2 m = dm

5 l = dl

2 g = dg

7 m = cm

7 l = cl

**6 Welke oppervlaktemaat kies je?**Kies uit: **b** Vul in:**a** De oppervlakte van een klaslokaal is ongeveer 50300 cm² = dm²

De oppervlakte van twee voetbalvelden is ongeveer een 1

6000 dm² = m²


De provincie Limburg heeft een oppervlakte van ongeveer 2 200

50 m² = dm²

De oppervlakte van een beeldscherm is ongeveer 8

80 dm² = cm²

Een papieren zakdoek heeft een oppervlakte van ongeveer 400

25 cm² = mm²



naam: _____

groep: _____

7 Reken uit.

	€ 3 0 8,2 5	€ 2 6 5,7 5	€ 1 4 6,3 9
€ 1 6 6,7 8	€ 1 5 3,0 9	€ 8,1 7	€ 2 1 5,4 0
€ 7,4 5	€ 1 8,3 7	€ 3 4,5 6	€ 7 8,6 7
€ 2 5 3,9 5 +	€ 7,4 8 +	€ 3 8 7,0 9 +	€ 5,3 5 +

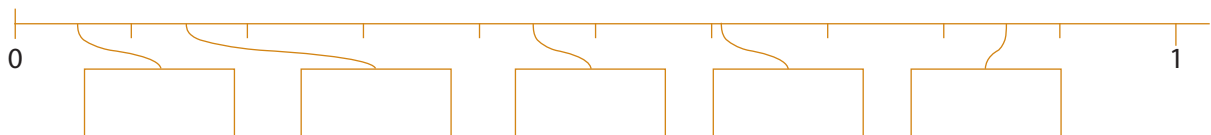
€ 2 3 3,6 5	
€ 1 8 7,5 3	
€ 5 9,8 7 +	

8 Reken de nieuwe prijs uit.

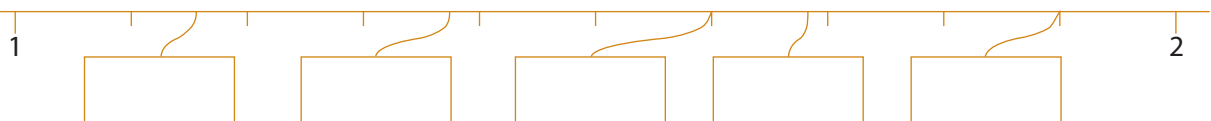
prijs:	korting:	nieuwe prijs:	prijs:	korting:	nieuwe prijs:
€ 160	50%	€ 160 - € = €	€ 200	25%	€ 200 - € = €
€ 400	20%	€ 400 - € = €	€ 800	10%	€ 800 - € = €
€ 1000	20%	€ 1000 - € = €	€ 350	10%	€ 350 - € = €
€ 300	10%	€ 300 - € = €	€ 600	5%	€ 600 - € = €
€ 60	10%	€ 60 - € = €	€ 40	5%	€ 40 - € = €

9 Zet de kommagetallen op de goede plaats.

a Kies uit:



b Kies uit:



c Kies uit:

