



naam:

antwoorden

1 Reken uit. Vul in.



5 7	3 8	5 7	6 3	4 3
1 3 x	1 4 x	1 6 x	1 5 x	1 8 x
7 4 1	5 3 2	9 1 2	9 4 5	7 7 4

2 Geef de korting in de strook aan en vul de korting in.



a Het kost € 90,-. Je krijgt 50% korting.

De korting is € 45,-

b Het kost € 120,-. Je krijgt 25% korting.

De korting is € 30,-

c Het kost € 150,-. Je krijgt 20% korting.

De korting is € 30,-

d Het kost € 100,-. Je krijgt 25% korting.

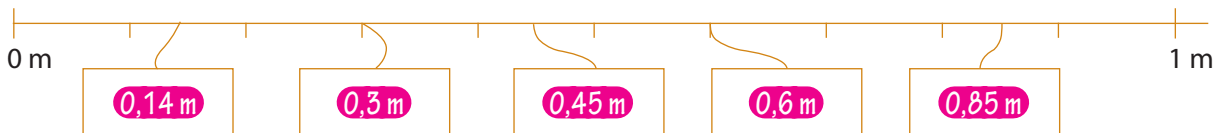
De korting is € 25,-

e Het kost € 250,-. Je krijgt 20% korting.


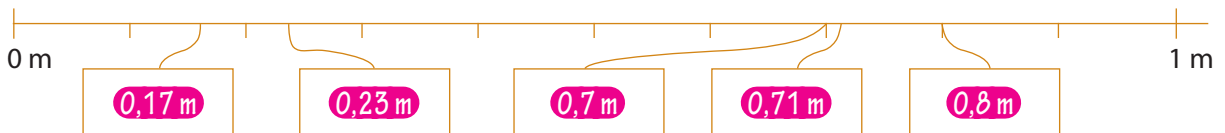
De korting is € 50,-

3 Welke getallen horen op de kaartjes? Zet de juiste getallen in de kaartjes.

a Kies uit: 0,3 m 0,45 m 0,14 m 0,6 m 0,85 m



b Kies uit: 0,17 m 0,71 m 0,7 m 0,23 m 0,8 m





naam:

antwoorden

4 Kies de juiste maat.

Klik het juiste vakje aan.



450 g
0,045 kg
45 mg



175 mg
175 ml
1,75 cl



700 cm
0,7 m
70 dl



65 cm
65 g
65 cl



1,7 l
1,7 g
1,7 dm

5 Zet in de andere maat. Vul in.

2 m = 200 cm

2 l = 200 cl

2 g = 200 cg

2 m = 2000 mm

2 l = 2000 ml

4 m = 40 dm

6 l = 60 dl

4 g = 40 dg

8 m = 800 cm

9 l = 900 cl



6 Welke oppervlaktemaat kies je?

Kies uit: km² hm²/ha dam² m² dm² cm² mm²

b Vul in:

a De oppervlakte van een gymnastieklokaal is ongeveer 250 m²

400 cm² = 4 dm²

De oppervlakte van een tennisbaan is ongeveer 2 dam²

7000 dm² = 70 m²

De provincie Groningen heeft een oppervlakte van ongeveer 3000 km²


80 m² = 8000 dm²

De oppervlakte van een eettafel is ongeveer 250 dm²

30 dm² = 3000 cm²

Een handdoek heeft een oppervlakte van ongeveer 500 cm²

55 cm² = 5500 mm²





naam: _____

antwoorden

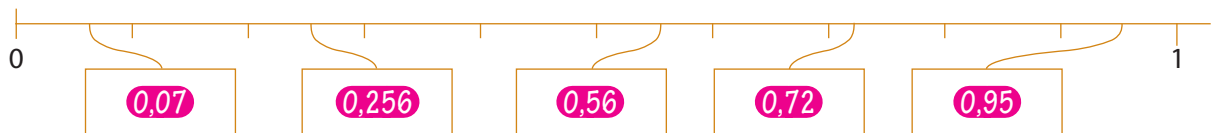

7 Reken uit. Vul in.

€ 2 1 7,3 5	€ 3 7 6,8 6		€ 2 5 6,4 8
€ 2 5 7,8 3	€ 2 2 8,0 4	€ 7,2 5	€ 5 2 1,0 4
€ 9,1 7	€ 2 9,5 6	€ 4 3,6 5	€ 8 7,7 6
€ 3 6 1,5 5 +	€ 5,8 4 +	€ 2 9 6,1 7 +	€ 6,2 5 +
€ 8 4 5,9 0	€ 6 4 0,3 0	€ 3 4 7,0 7	€ 8 7 1,5 3
€ 3 4 4,8 5			
€ 2 9 8,4 3			
€ 3 7,7 8 +			
€ 6 8 1,0 6			

8 Reken de nieuwe prijs uit. Vul in.

prijs:	korting:	nieuwe prijs:	prijs:	korting:	nieuwe prijs:
€ 240	50%	€ 240 - € 120 = € 120	€ 300	25%	€ 300 - € 75 = € 225
€ 500	20%	€ 500 - € 100 = € 400	€ 900	10%	€ 900 - € 90 = € 810
€ 2000	20%	€ 2000 - € 400 = € 1600	€ 450	10%	€ 450 - € 45 = € 405
€ 400	10%	€ 400 - € 40 = € 360	€ 800	5%	€ 800 - € 40 = € 760
€ 70	10%	€ 70 - € 7 = € 63	€ 60	5%	€ 60 - € 3 = € 57

9 Zet de kommagetallen op de goede plaats.

a Kies uit: b Kies uit: c Kies uit: 