



De Romeinen gebruikten de volgende letters voor deze cijfers:

I = 1

X = 10

C = 100

M = 1000

V = 5

L = 50


D = 500

De regels:

1. Je mag maximaal drie dezelfde cijfers achter elkaar zetten!
2. Je schrijft de cijfers van hoog naar laag!
3. Als je een lager cijfer links van een hoger cijfer zet, trek je het lagere cijfer van het hogere af! (dus IV = 4, XL = 40, VC = 95). LET OP: Er mag maar één lager cijfer links van een hoger cijfer staan! (Dus 8 = VIII en niet IIX)
4. Als je een hoger cijfer rechts van een lager cijfer zet, tel je de cijfers bij elkaar op! (dus VII = 7, XXV = 25, DCL = 650)
5. Probeer de cijfers in zo weinig mogelijk letters op te schrijven!!!

Opdracht 1.

Vul de Romeinse cijfers in de klok in!



Opdracht 2.

Welke cijfers staan hier?

XXIX =

CCCIV =

DXLI =

LXVII =

MCML =

MDCLXVI =

Opdracht 3.

Schrijf in Romeinse cijfers!

57 =

79 =

121 =

491 =

2016 =

1111 =





















Opdracht 4.

Vul de Romeinse cijfers in.

1. Ik ben jaar oud.
2. Mijn huisnummer is
3. In mijn klas zitten jongens en meisjes.
4. Mijn vader en moeder zijn SAMEN jaar oud.
5. Op mijn school zitten ongeveer kinderen.

Opdracht 5.

Hier zie je het alfabet in het Latijn. Het lijkt behoorlijk op ons alfabet. Maar wat valt je op???
Probeer zo netjes mogelijk met de Latijnse letters aan te geven wat je van het rekenen met Romeinse cijfers vindt.

				
A	B	C	D	E	
				
F	G	H	I	L	
				
M	N	O	P	Q	
				
R	S	T	V	X	

.....