


Meten

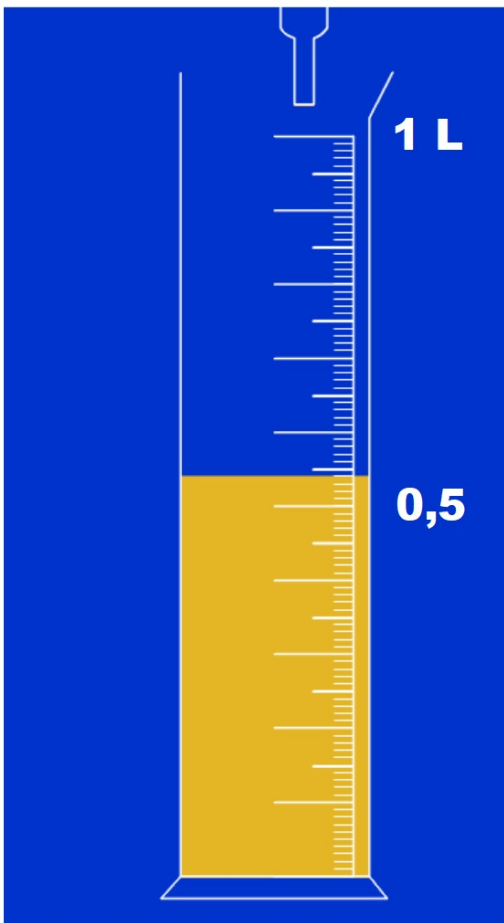


Groep 7



Je naam

1



Hoeveel liter water zit er in de kan?

- A 0,8 liter**
- B 0,5 liter**
- C 0,54 liter**
- D 0,45 liter**

2



In een pak zit 0,75 liter melk.

Thijs haalt er 0,30 liter uit.

Hoeveel liter melk zit er dan nog in het pak? liter.

3



In een glas past 0,25 liter sap.

Hoeveel glazen kun je vullen met de inhoud van dit pak? Dat zijn glazen.

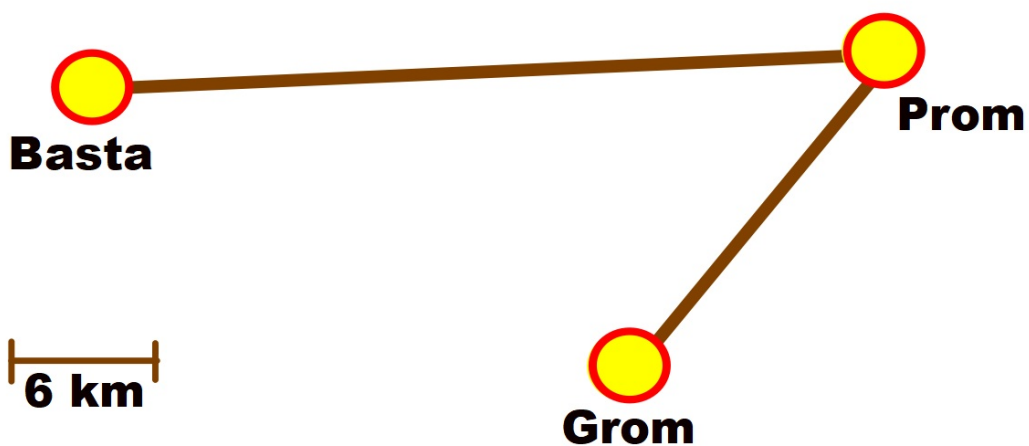
4



Dropveter
Lengte 64 centimeter

**Verdeel de dropveter in vier stukken
die even lang zijn.
Ieder stuk is dan centimeter
lang.**

5



Hoeveel km is het ongeveer van Basta naar Grom? km

6



Meester Peter meet de lengte en de breedte van de tent.

De lengte is 8 grote stappen en de breedte 5 grote stappen.

Hoe groot zal dan de oppervlakte ongeveer zijn?

A 15 m²

B 20 m²

C 35 m²

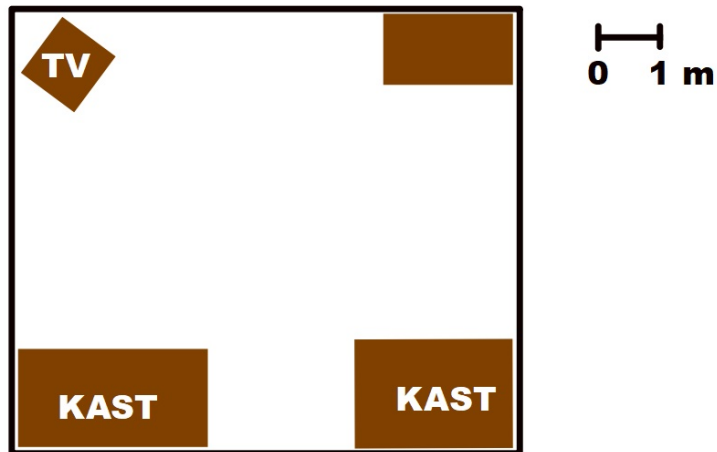
7



Hoeveel meter is het vanaf hier naar BEST?

Dat is meter.

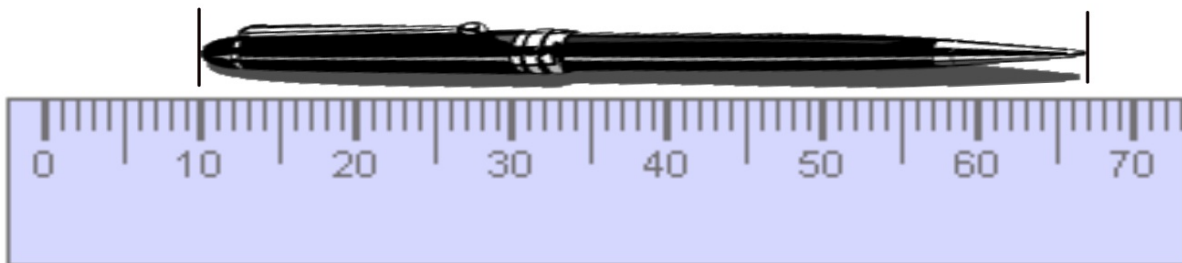
8



Hoeveel m^2 is de oppervlakte van de kamer?

Dat is m^2


9



Hoe lang is de pen?

De pen is cm en mm

10



Meester Fred verft de schutting aan de voorkant. De schutting is 15 m lang en 2 m hoog.

Hoeveel m^2 is dat in totaal? m^2

Afstandstabel

	Võru	Viljandi	Valga	Tartu	Tallinn	Rapla	Rakvere	Pärnu	Põlva	Petseri	Paide	Otepää	Narva	Kärdla	Kuressaare	Jõhvi	Jõgeva
Haapsalu	308	193	255	268	102	99	200	111	312	343	164	269	314	36	157	266	222
Jõgeva	124	77	142	53	153	132	76	156	101	159	74	95	159	258	299	110	
Jõhvi	201	189	219	133	164	220	69	253	178	236	154	173	49	301	385		
Kuressaare	355	253	301	331	220	194	316	163	359	390	244	316	433	192			
Kärdla	344	229	281	305	137	134	235	146	349	379	199	305	349				
Narva	251	238	268	180	212	268	117	300	235	285	202	221					
Otepää	48	81	50	42	220	189	167	159	43	83	134						
Paide	173	77	160	102	92	65	82	99	151	208							
Petseri	35	164	107	104	291	271	231	233	60								
Põlva	25	124	86	48	234	231	173	201									
Pärnu	198	98	139	183	129	91	184										
Rakvere	196	143	214	126	98	150											
Rapla	236	116	198	170	56												
Tallinn	257	163	245	188													
Tartu	71	76	86														
Valga	72	82															
Viljandi	129																

Hoeveel km is de afstand tussen Narva en Rapla? Dat is km

12

**1 mm pijlbreedte is
20000 koolmeesjes.**

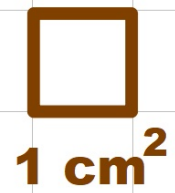



**De pijl geeft aan hoeveel koolmeesjes er in
Nederland leven.**

Hoeveel koolmeesjes waren dat?

..... koolmeesjes.

13



Hoeveel cm² is de oppervlakte van de driehoek? cm²

14



De inhoud van een literpak melk is

- A 10 ml**
- B 100 ml**
- C 1000 ml**
- D 10000 ml**

De inhoud van een blikje cola is

- A 0,33 l**
- B 0,73 l**
- C 0,18 l**
- D 0,19 l**



15



Container

Lengte 10 m


Breedte 2 m

Hoogte 3 m

Wat is de inhoud van deze container?

Dat is m³

16



Drie appels wegen iets minder dan ...

A 0,04 kg

B 1 kg

C 4 kg

D 0,4 kg

17



**Kies uit:
kilogram of gram**

**De zak hondenvoer
weegt 4**

**De zak caviavoer
weegt
350**

18



In het verfblik zit ...

- A 1200 liter**
- B 12 liter**
- C 0,12 liter**
- D 1,2 liter**



In het verfblik zit ...

- A 10 liter**
- B 2 liter**
- C 0,5 liter**
- D dat weet je niet**

19



A



B



C



D


Nico heeft een poster van 40 cm bij 60 cm.

Welke poster kan dat zijn?

A - B - C - D (Omcirkel het goede antwoord)

20

**Oude Kaas
€ 12,- per kg**



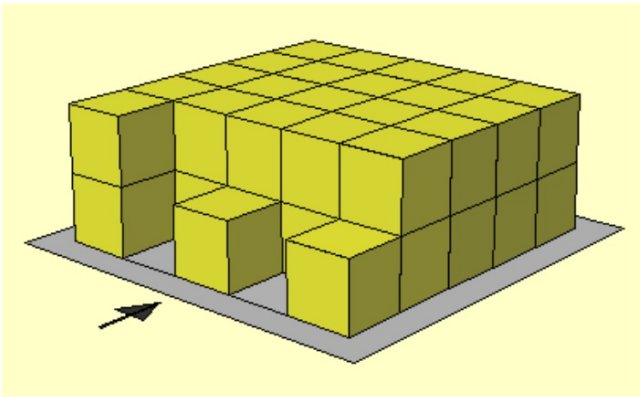
0512 gram

Nynke koopt 512 gram oude kaas.

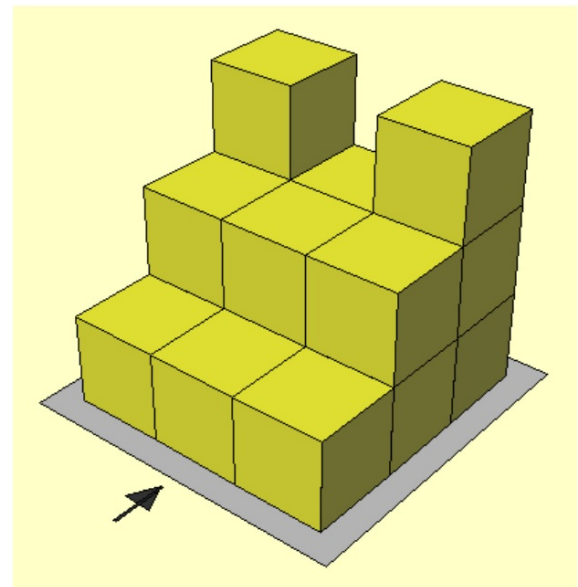
Hoeveel moet zij ongeveer betalen?

- A € 2,-**
- B € 4,-**
- C € 24,-**
- D € 6,-**

21



A.
Hoeveel blokken
zijn er?
..... blokken



B.
Hoeveel blokken
zijn er?
..... blokken

22

6 cm



8 cm



24 cm

?

De maten van de kleine foto zijn 6 cm bij 8 cm.

De maten van de vergroting zijn 24 cm bij cm.

23



Huzarensalade

**Bakje van $\frac{1}{5}$ kg
voor € 0,65**

Jason bestelt 15 bakjes huzarensalade.

Hoeveel kg is dat in totaal? kg

24

Waspoeder



A

8 kg

€ 24,-



B

2 kg

€ 2,50



C

4 kg

€ 8,-

Welk wasmiddel is per kg het goedkoopst?


Wasmiddel

25

2,3 km = m
10,1 km = m
5,4 km = m



De pompoen weegt 6000 gram. Hoeveel kilogram is dat? kg.



Het kaasje weegt anderhalve kilogram. Dat is gram.

200 m = km
500 m = km
800 m = km

26

Antwoorden

1 - C (0,54 liter)

2 - 0,45 liter

3 - 4 glazen

4 - 16 centimeter

5 - Ongeveerantwoord: tussen 45 - 52

6 - C (35 m²)

7 - 3100 meter

8 - 56 m²

9 - 5 cm en 7 mm

10 - 30 m²

11 - 268 km

12 - 380000 koolmeesjes

13 - 10 cm²

- 14 - C (1000 ml) en A (0,33 l)**
- 15 - 60 m³**
- 16 - C (4 kg)**
- 17 - Hondenvoer - 4 kilogram**
Caviavoer - 350 gram
- 18 - D (1,2 liter) en D (dat weet je niet)**
- 19 - B**
- 20 - D (€ 6,-)**
- 21 - A = 44 blokken - B = 17 blokken**
- 22 - 32 cm**
- 23 - 3 kg**
- 24 - B (€ 1,25 per kg)**
- 25 - 2300 m - 10100 m - 5400 m**
Pompoen - 6 kg
1500 gram
0,2 km - 0,5 km - 0,8 km