

Klusopdracht: de slaapkamer

De slaapkamer moet behangen worden. Hiervoor heb ik behang en behangplaksel nodig. Met **1 pakje behangplaksel** kan ik **3 rollen** behang opplakken.

Ik gebruik 2 kleuren behang, blauw en beige.



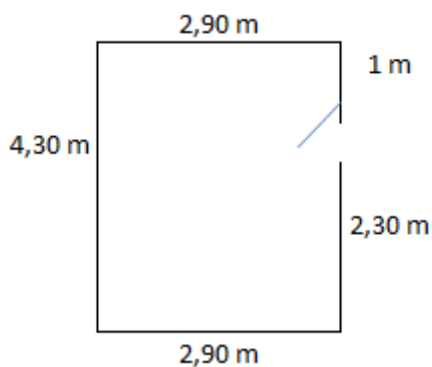
De eerste muur doe ik blauw. Deze muur is **4,30 m lang** en **2,30 m hoog**.

De tweede muur doe ik beige. Deze muur is **2,90 m lang** en **2,30 m hoog**.

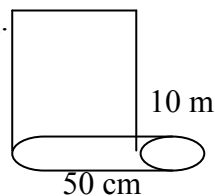
De derde muur doe ik blauw. **2,90 m lang** en **2,30 m hoog**.

De vierde muur doe ik beige. In deze muur zit een deur. De deur neemt **1 m** in beslag. De muur is **4,30 m lang** en **2,30 m hoog**.

Een plattegrond:



Een rol behang is **50 cm breed** en **10 m lang**.



1 rol blauw behang kost € **21,50**. 1 rol beige behang kost € **23,50**.

1 pakje behangplaksel kost € **5,50**

Ik wil graag weten hoeveel blauw behang ik nodig heb en hoeveel beige behang ik nodig heb.

Ik wil graag weten hoeveel pakjes behangplaksel ik nodig heb.

Wat moet ik betalen bij de bouwmarkt?

Werkblad: de slaapkamer

Hoeveel rollen blauw behang heb ik nodig?

.....

Hoeveel kost het blauwe behang samen?

.....

Hoeveel rollen beige behang heb ik nodig?

.....

Hoeveel kost het beige behang samen?

.....

Hoeveel euro ben ik kwijt voor al het behang?


.....

Hoeveel pakjes behangplaksel heb ik nodig?

.....

Wat kost dat samen?

.....

Wat moet ik betalen bij de bouwmarkt?  ? (controle)

.....

Schrijf het laatste antwoord op het bord!

Ben je klaar? Probeer dan eens een tekening te maken van deze kamer? Maak gebruik van je liniaal.

Antwoorden: de slaapkamer

Hoeveel rollen blauw behang heb ik nodig?

4.....

Hoeveel kost het blauwe behang samen?

€ 86,-.....

Hoeveel rollen beige behang heb ik nodig?

4.....

Hoeveel kost het beige behang samen?

€ 94,-.....

Hoeveel euro ben ik kwijt voor al het behang?

€ 180,-.....

Hoeveel pakjes behangplaksel heb ik nodig?

3.....

Wat kost dat samen?

€ 16,50.....

Wat moet ik betalen bij de bouwmarkt?

€ 196,50.....