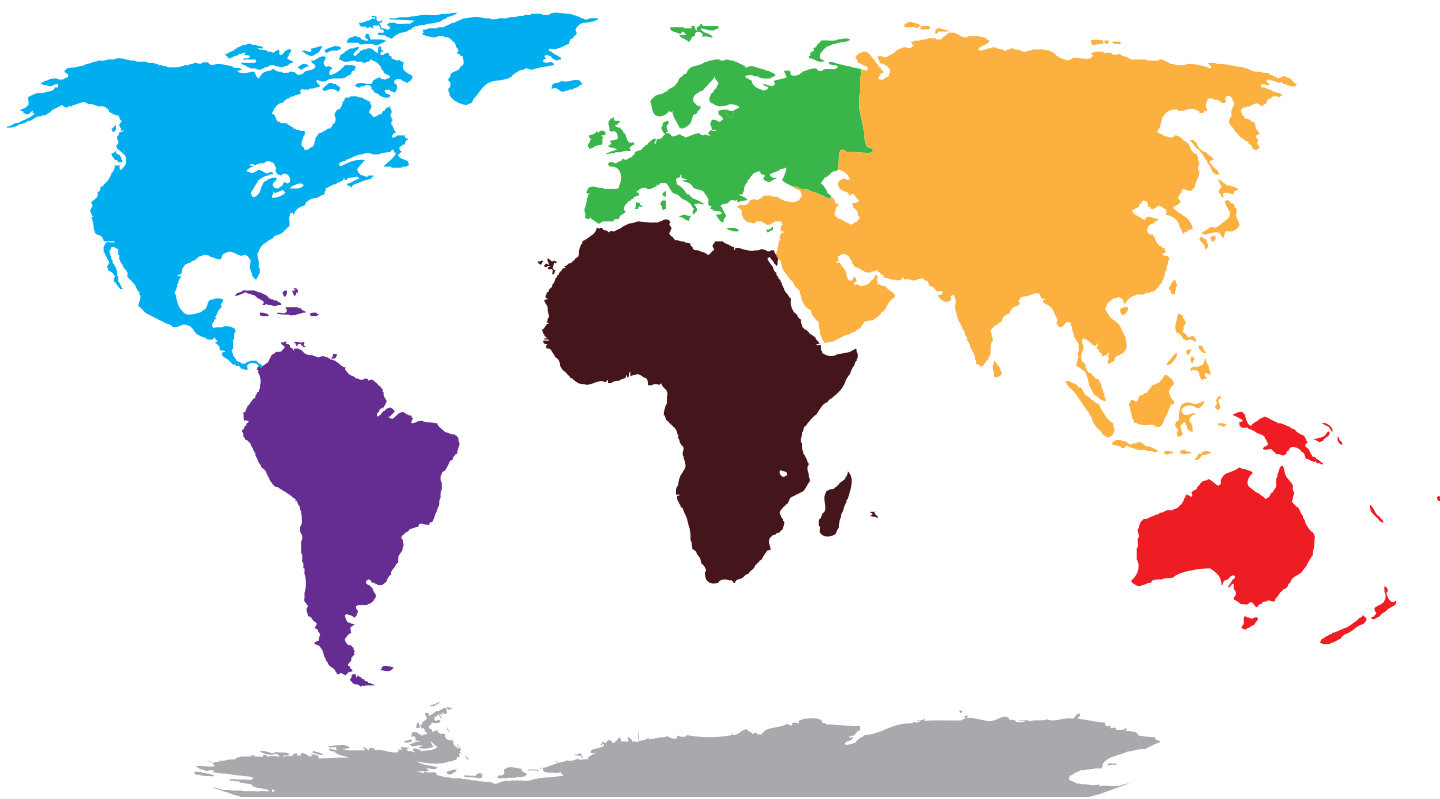


# Geografie

## DE ZEVEN CONTINENTEN



Ken je alle zeven continenten en de drie oceanen?


Vul de namen van de continenten en oceanen in de afbeelding in.

Als hulpmiddel kun je een atlas gebruiken.






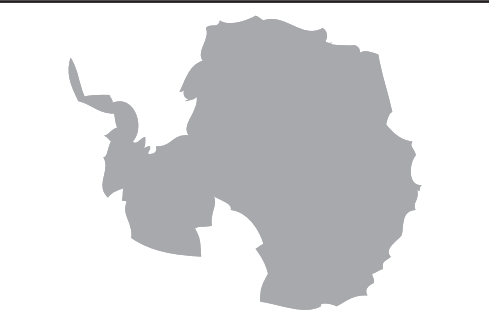
*Afrika, Antarctica, Azië, Atlantische Oceaan, Australië, Europa, Indische Oceaan, Noord-Amerika, de Stille Oceaan, Zuid-Amerika*



In de volgende tabel vindt je informatie over de grootte en de bevolking van de continenten. Zoek in de Atlas de landen en steden, en vul ze in de onderstaande tabel in.

	<b>Europa</b>	<b>Land</b>	<b>Stad</b>
	10 miljoen km <sup>2</sup>	Nederland	
	740 miljoen inwoners		
Vul de onderstaande begrippen op de juiste plaats in: Wenen, Frankrijk, Oostenrijk, Amsterdam			

# Geografie

	<b>Noord-Amerika</b>	<b>Land</b>	<b>Stad</b>
	24 miljoen km <sup>2</sup>	Verenigde Staten	
	530 miljoen inwoners		
	Vul de onderstaande begrippen op de juiste plaats in: Canada, Los Angeles, Mexico		
	<b>Zuid-Amerika</b>	<b>Land</b>	<b>Stad</b>
	18 miljoen km <sup>2</sup>		
	390 miljoen inwoners	Brazilië	
	Vul de onderstaande begrippen op de juiste plaats in: Columbia, Chili, Brasilia		
	<b>Azië</b>	<b>Land</b>	<b>Stad</b>
	44 miljoen km <sup>2</sup>		
	4210 miljoen inwoners		Tokyo
	Vul de onderstaande begrippen op de juiste plaats in: Rusland, Japan, China, Peking		
	<b>Afrika</b>	<b>Land</b>	<b>Stad</b>
	30 miljoen km <sup>2</sup>		
	1050 miljoen inwoners		
	Vul de onderstaande begrippen op de juiste plaats in: Senegal, Caïro, Egypte		
	<b>Australië</b>	<b>Land</b>	<b>Stad</b>
	9 miljoen km <sup>2</sup>		
	37 miljoen inwoners		
	Vul de onderstaande begrippen op de juiste plaats in: Sydney, Nieuw-Zeeland, Australië		
	<b>Antarctica</b>		
	14 miljoen km <sup>2</sup>		
	op enkele onderzoekers na, zijn hier geen inwoners		

