



Bellen met een mobiel kost 6 cent per minuut. Moniek belt 8 minuten. Wat kost dat?

Een schilder rekent €40  
arbeidsloon per uur. De  
schilder is 2,5 uur bezig.  
Hoeveel arbeidsloon  
moet je de schilder  
betalen?



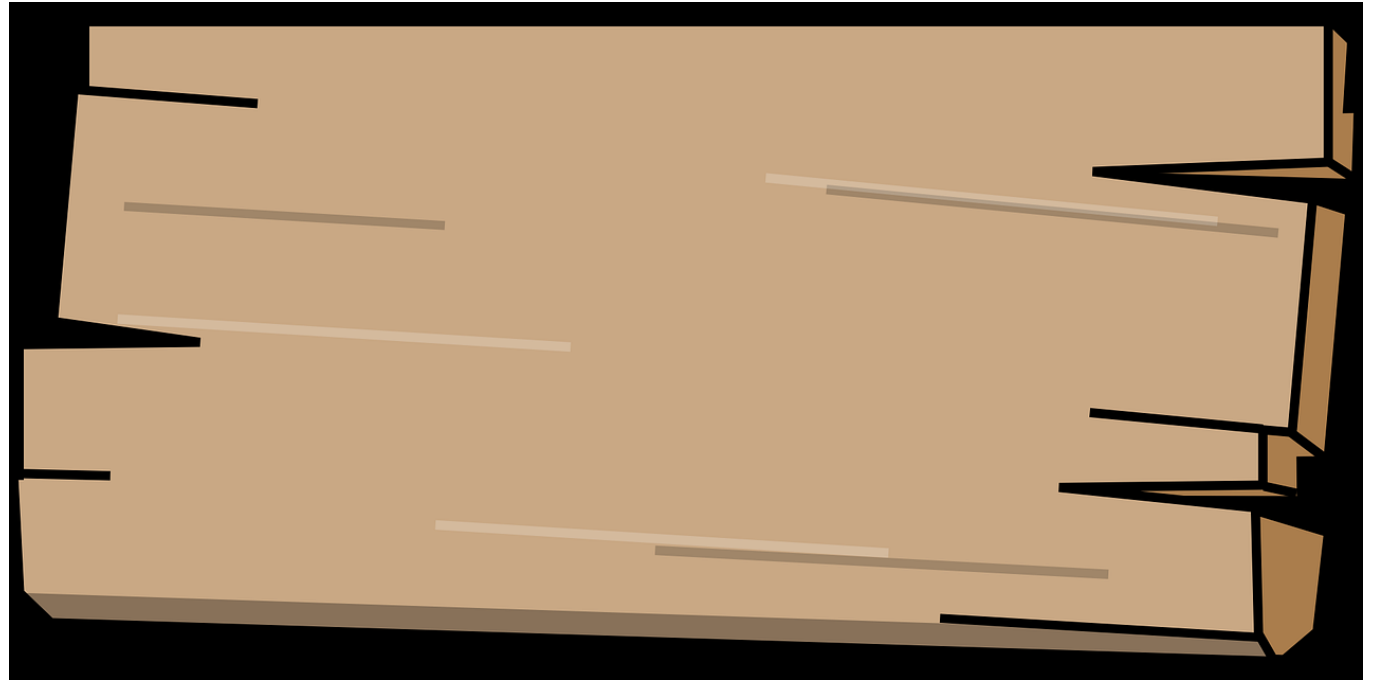


Een dansschool  
koopt 5 grote  
spiegels van  
€138 per stuk.  
Wat moet de  
dansschool  
betalen?



De supermarkt heeft 253 flessen cola op voorraad. Aan het eind van de dag hebben ze 165 flessen verkocht. Hoeveel flessen hebben ze nog over?

Een plank is 240 cm lang. Hoeveel cm is  $\frac{3}{4}$  deel?

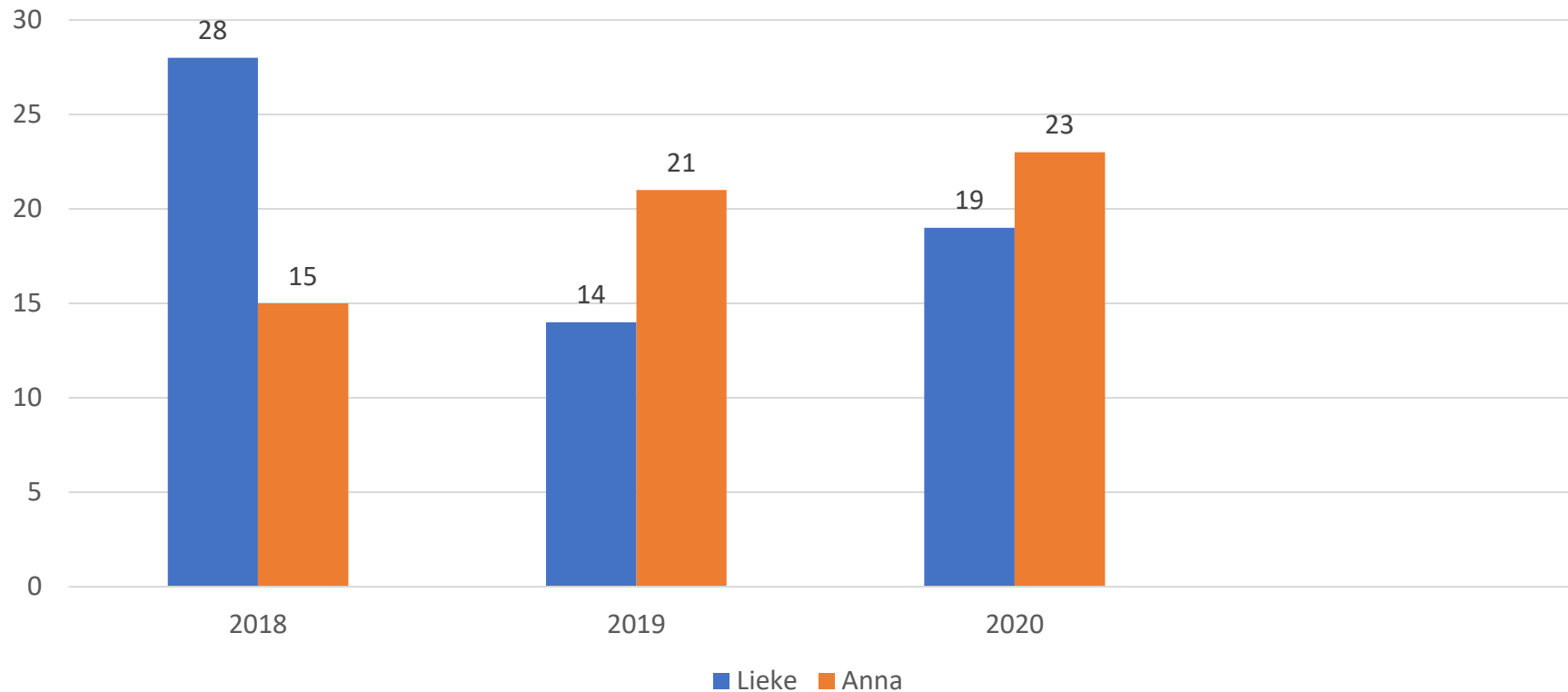





Pieter koopt een taart van €6.

Boas koopt  $\frac{1}{4}$  deel van de taart. Wat moet Boas aan Pieter betalen?

Lieke en Anna doen elk jaar mee aan een sponsorloop. Wie heeft in totaal de meeste rondjes gerend?






Voor haar nieuwe woning heeft Iris 9 meter tapijt nodig. Per meter kost het tapijt €23. Wat moet Iris uiteindelijk betalen?






Het vliegtuig van Nienke stijgt om 19:50 op.  
Om 07:15 landt ze weer. Hoelang duurde  
deze vlucht?

Op 10 januari vertelt de juf aan de kinderen dat er op 31 januari een voorstelling is. Hoeveel woensdagen kunnen ze nog oefenen?





Britt en Mees gaan samen pizza eten. Britt heeft  $\frac{7}{12}$  pizza.

Mees heeft  $\frac{3}{4}$  pizza.

Wie heeft het grootste stuk pizza?

Piet helpt zijn moeder 5 dagen lang elke dag 2 uur in de winkel. Hij krijgt daarvoor in totaal €20. Hoeveel euro krijgt Pieter per uur?



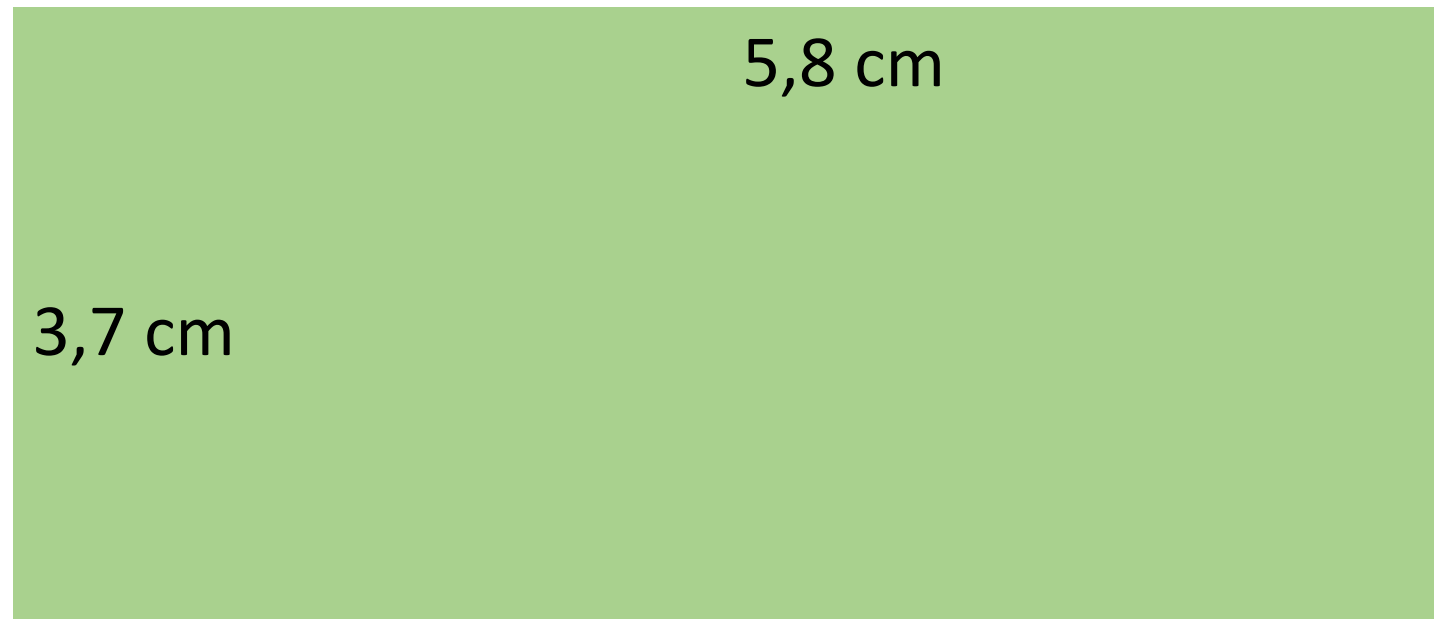
Boas wordt wakker  
om 07:53 uur. Over  
drie kwartier moet  
hij naar voetbal.  
Hoe laat moet Boas  
weg?





Vandaag is het 5 april.  
Over 3 weken is Sander  
jarig. Op welke datum is  
Sander jarig?


Wat is de omtrek van het groene vlak?



Mark rijdt op een weg waar je 80 mag.  
Hoeveel km/h rijdt Mark te hard?







Eén etmaal is 24  
uur. Hoeveel uur is  
7 etmalen?

Deze auto rijdt 1 op 13 (1 liter benzine voor 13 km). In de tank zit 56 liter. Hoe ver kan de auto rijden?



Liv, Roos en Sandra willen samen een trampoline kopen. De trampoline kost €120.


Liv heeft al  $\frac{1}{3}$  deel.

Roos heeft al  $\frac{1}{4}$  deel.

Sandra heeft al  $\frac{3}{10}$  deel.

Hoeveel geld hebben ze samen al gespaard?





9 kinderen hebben samen 540 Pokémon kaarten. Ze hebben allemaal evenveel. Hoeveel kaarten heeft ieder kind?

## Antwoorden verhaalsommen

Bellen met een mobiel kost 6 cent per minuut. Moniek belt 8 minuten. Wat kost dat?	€0,48
Een schilder rekent €40 arbeidsloon per uur. De schilder is 2,5 uur bezig. Hoeveel arbeidsloon moet je de schilder betalen?	€100
Een dansschool koopt 5 grote spiegels van €138 per stuk. Wat moet de dansschool betalen?	€690
De supermarkt heeft 253 flessen cola op voorraad. Aan het eind van de dag hebben ze 165 flessen verkocht. Hoeveel flessen hebben ze nog over?	88 flessen
Een plank is 240 cm lang. Hoeveel cm is $\frac{3}{4}$ deel?	180 cm
Pieter koopt een taart van €6. Boas koopt $\frac{1}{4}$ deel van de taart. Wat moet Boas aan Pieter betalen?	€1,50
Lieke en Anna doen elk jaar mee aan een sponsorloop. Wie heeft in totaal de meeste rondjes gerend?	Lieke = 61 rondjes Anna = 59 rondjes  Lieke heeft de meeste rondjes gerend.
Voor haar nieuwe woning heeft Iris 9 meter tapijt nodig. Per meter kost het tapijt €23. Wat moet Iris uiteindelijk betalen?	€207
Het vliegtuig van Nienke stijgt om 19:50 op. Om 07:15 landt ze weer. Hoelang duurde deze vlucht?	11 uur en 25 minuten
Op 10 januari vertelt de juf aan de kinderen dat er op 31 januari een voorstelling is. Hoeveel woensdagen kunnen ze nog oefenen?	3 woensdagen
Britt en Mees gaan samen pizza eten. Britt heeft $\frac{7}{12}$ pizza. Mees heeft $\frac{3}{4}$ pizza. Wie heeft het grootste stuk pizza?	Mees
Piet helpt zijn moeder 5 dagen lang elke dag twee uur in de winkel. Hij krijgt daarvoor in totaal €20. Hoeveel euro krijgt Pieter per uur?	€2
Boas wordt wakker om 07:53 uur. Over drie kwartier moet hij naar voetbal. Hoe laat moet Boas weg?	08:38

Vandaag is het 5 april. Over 3 weken is Sander jarig. Op welke datum is Sander jarig?	24 april
Wat is de omtrek van het groene vlak?	19 cm
Mark rijdt op een weg waar je 80 km/h mag. Hoeveel km/h rijdt Mark te hard?	60 km/h
Eén etmaal is 24 uur. Hoeveel uur is 7 etmalen?	168 uur
Deze auto rijdt 1 op 13 (1 liter benzine voor 13 km). In de tank zit 56 liter. Hoe ver kan de auto rijden?	728 km
<p>Liv, Roos en Sandra willen samen een trampoline kopen. De trampoline kost €120.</p> <p>Liv heeft al <math>\frac{1}{3}</math> deel.</p> <p>Roos heeft al <math>\frac{1}{4}</math> deel.</p> <p>Sandra heeft al <math>\frac{3}{10}</math> deel.</p> <p>Hoeveel geld hebben ze samen al gespaard?</p>	<p>Liv = €40  Roos = €30  Sandra = €36</p> <p>Samen = €106</p>
9 kinderen hebben samen 540 Pokémon kaarten. Ze hebben allemaal evenveel. Hoeveel kaarten heeft ieder kind?	60 kaarten

## Bedoeling

Met deze kaarten oefenen de kinderen het rekenen met redactiesommen. Ze oefenen verschillende onderdelen van rekenen: delen, vermenigvuldigen, optellen, aftrekken, breuken en meten.

### Nodig:

- o De redactiesommen
- o Het antwoordenblad
- o Eventueel een wisbordje of ander schrijfmateriaal

### Vorbereiding:

Print dit bestand uit en lamineer eventueel de redactiesommen. Zorg dat de leerlingen materiaal hebben om de sommen op uit te rekenen.

### Uitvoering:

Manieren om deze kaarten in te zetten:

#### 1) Loop en ruil

De kinderen pakken een kaart en lossen de som op. Daarna zoeken ze een maatje en ruilen ze van som. Door steeds te ruilen krijgen ze verschillende kaarten.

#### 2) Wisbordje

De sommen komen op het bord. De kinderen rekenen de som uit en schrijven het antwoord op het wisbordje. Vervolgens houden ze het wisbordje omhoog.

#### 3) Groepjes

De kinderen krijgen in een groepje een stapel kaarten. Wie lost de som als eerst op? Dit kind mag de kaart houden.

Natuurlijk zijn er nog veel meer leuke manieren om met deze kaarten aan de slag te gaan 🗨️