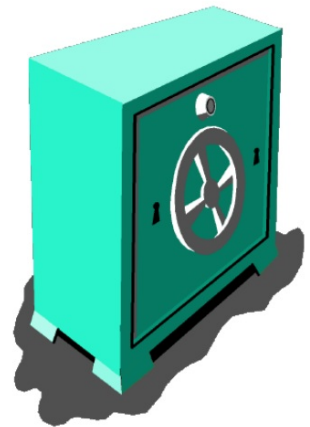


Grote Getallen

Geldsommen

Groep 8

Je naam



1



Voor de bouw van een flat moest men € 14955000,- betalen.

Dat is ongeveer ...

- A 14 miljoen euro**
- B 15 miljoen euro**
- C 150 miljoen euro**
- D 140 miljoen euro**

2

Het digitale schoolbord kost € 3998,-



Welk getal ligt er het dichtste bij?

A € 3900,-

C € 4000,-

B € 3950,-

D € 3988,-

3

De hoofdprijs in de Postcodeloterij is € 25,1 miljoen!



Hoe schrijf je dat in cijfers?

- A € 25000,-**
- B € 251000,-**
- C € 25100000,-**
- D € 2510000,-**

4

In 2007 rijden er 7,2 miljoen auto's in Nederland.



Hoe schrijf je dat in cijfers?

- A 72000**
- B 7020000**
- C 720000**
- D 7200000**

5

Voor de voetbalwedstrijd zijn 26000 kaarten beschikbaar.

In de voorverkoop zijn er al 8700 kaarten verkocht.



Er zijn nog kaarten te koop.

6

LEGO-TENTOONSTELLING



Voor het weekend

**122025
bezoekers**

Na het weekend

**200050
bezoekers**

**Hoeveel bezoekers trok de
lego-tentoonstelling in het weekend?
..... bezoekers**

7

**In 1998 vond ik deze munt.
De munt is gemaakt in 1965.**



**Hoe oud was de munt toen ik hem vond?
..... jaar**

8



**In 1970 had Nederland
10 026 773 inwoners.**

**In 2007 wonen er
16 357 999 mensen.**

**Nederland is in 37 jaar gegroeid met
ongeveer inwoners.**

9

Judith kocht onderstaande toiletartikelen.



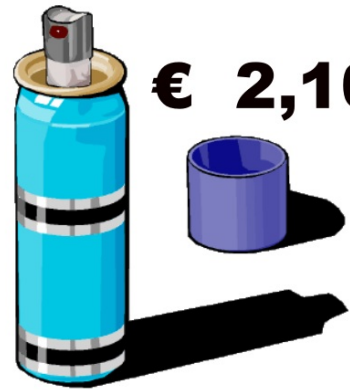
€ 2,50



€ 1,50



€ 0,90




€ 2,10

Voor hoeveel is dat in totaal?

€

10



9 briefjes van 5 euro.
Hoeveel euro is dat in totaal?
..... euro

11



19 briefjes van 50 euro.

Hoeveel euro is dat totaal?

..... euro

12



**Op deze weg komen
per jaar ongeveer
60000 vrachtauto's
voorbij.**

**Hoeveel zijn dat er gemiddeld per
maand? vrachtauto's**

13



De Bank		
1 november	VORIG TEGOED	€ 5403,10
10 november	NIEUW TEGOED	€ 2401,45

Op 10 november staat er minder op de rekening dan op 1 november.

Hoeveel minder? €

14



6 DVD's voor € 7,25 per stuk.

Hoeveel kost het totaal? €

15



**Toegangskkaartje Dierentuin Artis.
Er werden 435 kaartjes verkocht.**

Hoeveel brengt dat op? €

16



gulden



cent

Een cent was vroeger $\frac{1}{5}$ stuiver waard.

Een gulden was 20 stuivers waard.

**Hoeveel centen kon je dan krijgen
voor 1 gulden? centen**

17

**Jari mag voor € 45,-
stripboeken uitzoeken.
De boeken kosten € 2,25
per stuk.**



**Hoeveel boeken kan hij kopen?
..... stripboeken.**