



naam:

groep:

1 Reken uit.

€ 3 8,3 7	€ 6 4,7 5	€ 5 3,1 8
€ 1 9,2 9 -	€ 4 8,5 8 -	€ 3 5,7 3 -
€ 4 5,5 0	€ 8 7,8 6	
€ 2 6,1 7 -	€ 2 9,7 7 -	



2 Hoeveel is elk cijfer waard?

813760

902835

de 8 is waard

de 9 is waard

de 1 is waard

de 2 is waard

de 3 is waard

de 8 is waard

de 7 is waard

de 3 is waard

de 6 is waard

de 5 is waard

3 Kleur de procenten.



Kleur 46%.



Kleur 32%.



Kleur 58%.



Kleur 19%.



Kleur 73%.



naam:


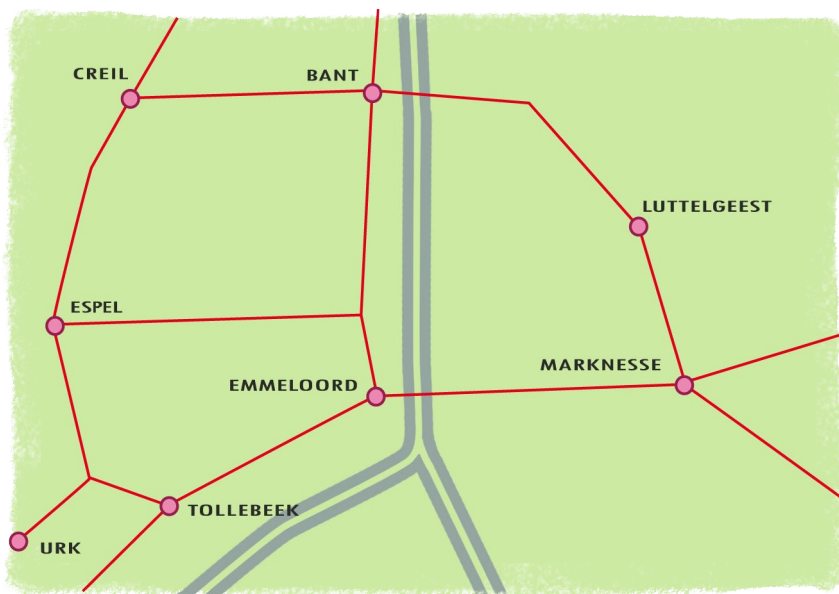
groep:

4 Hoelang duurt het?

snelheid:	afstand:	tijdsduur:
	Den Haag 40	
	Arnhem 20	
	Zwolle 60	
	Breda 10	
	Groningen 240	



5 Hoe ver is het? Meet de afstanden en reken uit.



schaal 1: 200 000

route over de weg:	aantal cm:	aantal km:
Tollebeek - Emmeloord		
Creil - Emmeloord		
Urk - Creil		
Bant - Marknesse		
Tollebeek - Urk		



naam:

groep:

6 Reken uit.




	2	6			5	9			7	2			8	9			9	7	
	1	8	x		1	6	x		1	7	x		1	4	x		1	5	x

7 Reken uit.

- 200 000 + 6 000 + 90 = 730 000 - 18 000 =
- 600 000 + 9 000 + 200 = 540 000 - 27 000 =
- 500 000 + 500 + 90 000 = 190 600 - 80 000 =
- 800 000 + 80 + 3 000 = 260 000 - 180 000 =
- 700 000 + 6 + 50 000 = 505 500 - 5 000 =

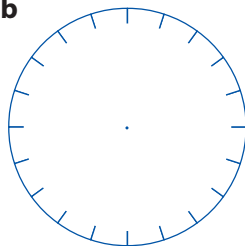
8 Maak de diagrammen af.

a



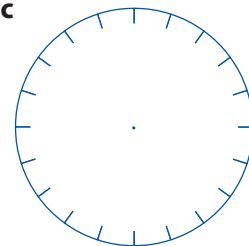
- zakjes bloemenzaad
- 20% stokroos
 - 10% papierbloem
 - 50% kattenstaart
 - rest dille

b




- zakjes bloemenzaad
- 15% aster
 - 35% leeuwenbekje
 - 30% begonia
 - rest sierkool

c



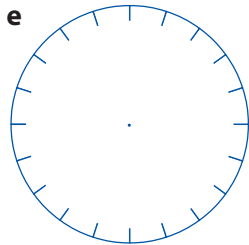
- zakjes bloemenzaad
- 30% viooltjes
 - 20% goudsbloem
 - 5% anjer
 - rest korenbloem

d



- 200 artikelen in de voordeelbak
- 5% tuinschepjes =
 - 25% tuinharkjes =
 - 20% snoeischaren =
 - 10% tuinhandschoenen =
 - rest tuinfakkels =

e



- € 600,- euro om een nieuw terras te maken
- 20% bodembedekkers = €
 - 10% klimplanten = €
 - 30% siertegels = €
 - 15% vaste planten = €
 - rest verlichting = €