



naam: _____

groep: _____

1 Breuken, kommagetallen en procenten.

Schrijf het steeds op 3 manieren op. Vul in.

a	 $\frac{1}{10}$ en 0,1 en 10%
b	 en en
c	 en en
d	 en en
e	 en en
f	 en en

2 Maak de deelsommen. Vul in.

$688 : 8 =$	$523 : 7 =$	$599 : 12 =$
$944 : 16 =$	$623 : 13 =$	

3 Zet een rondje om het goede antwoord.**a** 'De Grossglockner is 3798 m

hoog. Dat is ongeveer:

- 40 km
- 38 km
- 3,8 km

**c** In Londen wonen 7,5 miljoen mensen. 7,5 miljoen is:

- 7500000
- 75000000
- 75000

**b** 1 bagel kost € 0,93.

6 bagels kosten:

- ongeveer € 5,60
- ongeveer € 6,00
- ongeveer € 6,50

**d** Van de 300 campinggasten zijn 30% Nederlanders. Dat zijn:

- 70 Nederlanders
- 90 Nederlanders
- 80 Nederlanders

**e** Wandeltochten: maandag 27 km, dinsdag 21 km, woensdag 24 km en donderdag 32 km. Hoeveel kilometer wandelt Jos gemiddeld?

- 24 km per dag
- 25 km per dag
- 26 km per dag






naam:

groep:

4 Wat is de prijs van de grastapjten? Vul in.

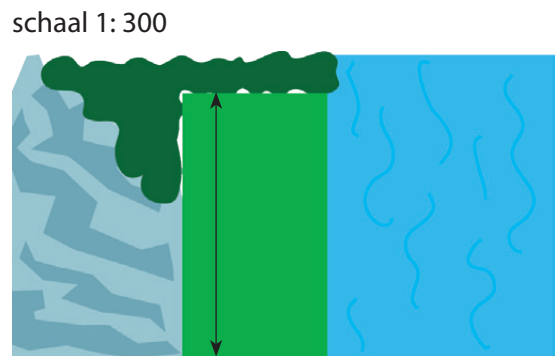
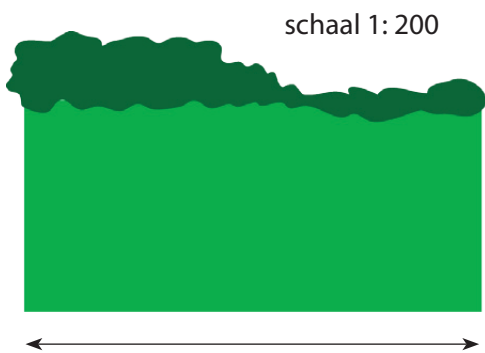
- a $3\text{ m} \times 5\text{ m}$ kost € 4,85 b $8\text{ m} \times 2\text{ m}$ kost € 5,95 c $2\text{ m} \times 5\text{ m}$ kost € 6,80
 $3\text{ m} \times 10\text{ m}$ kost € $8\text{ m} \times 4\text{ m}$ kost € $4\text{ m} \times 10\text{ m}$ kost €



- d $16\text{ m} \times 20\text{ m}$ kost € 36,- e $8\text{ m} \times 4\text{ m}$ kost € 9,90
 $16\text{ m} \times 10\text{ m}$ kost € $4\text{ m} \times 4\text{ m}$ kost €

5 Hoe groot is het? Vul in.

- a De breedte van het kampeerveld is m b De lengte van het kampeerveld is m



	in het echt:	schaalmodel:	schaal:
c partytent	8 m	8 cm	1:.....
d speeltent	200 cm	40 cm	1:.....
e koepeltent	6 m	30 cm	1:.....



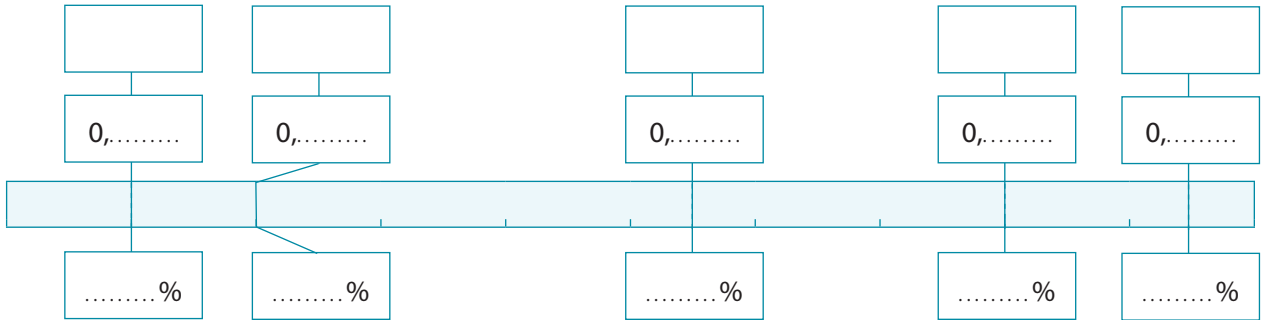


naam:

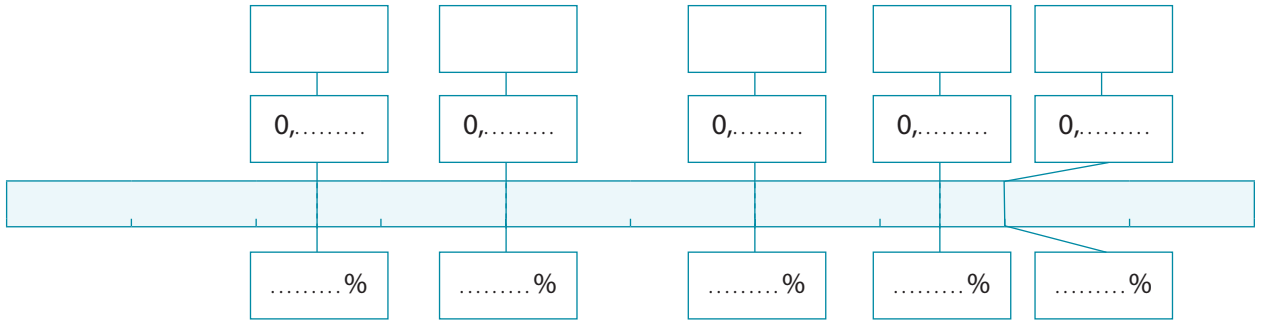
groep:

6 Vul de kaartjes in: breuken, kommagetallen en procenten.

a



b



7 Maak de deelsommen.

$992 : 16 =$ $\begin{array}{r} 992 \\ \underline{16} \\ 16 \\ \underline{16} \\ 0 \end{array}$	$961 : 18 =$ $\begin{array}{r} 961 \\ \underline{18} \\ 18 \\ \underline{18} \\ 1 \end{array}$	$794 : 14 =$ $\begin{array}{r} 794 \\ \underline{14} \\ 14 \\ \underline{14} \\ 4 \end{array}$
$1868 : 40 =$ $\begin{array}{r} 1868 \\ \underline{40} \\ 80 \\ \underline{80} \\ 0 \end{array}$	$4735 : 25 =$ $\begin{array}{r} 4735 \\ \underline{25} \\ 50 \\ \underline{50} \\ 35 \\ \underline{35} \\ 0 \end{array}$	

8 Zet een rondje om het goede antwoord.

- a De omtrek van het rechthoekige speelterreintje is 22 m. Wat kan de oppervlakte zijn?
 • 100 m² • 10 m² • 11 m²
- b Snorkelset € 24,95. Vandaag 10% korting. De snorkelset kost vandaag ongeveer:
 • € 22,50 • € 29,50 • € 23,50
- c De opbrengst voor 'World Child' is € 1.487.390,-. Rond het af op een honderdduizendtal.
 • 1 400 000 • 1 500 000 • 1 490 000
- d 9 van de 15 campinggasten maken gebruik van aansluiting elektriciteit. Hoeveel procent is dat?
 • 60% • 50% • 80%
- e De rivier Le Loue steeg na veel regen van 0,95 m naar 2,91 m. Het verschil is:
 • 3,84 m • 2,16 m • 1,96 m