

Procenten

Tijd

Groep 8



Je naam

1




In Nederland bezitten 3 van de 5 mensen een auto.

Hoeveel procent is dat? %

2

**De huur van ons
huis stijgt dit jaar
met 6%.**

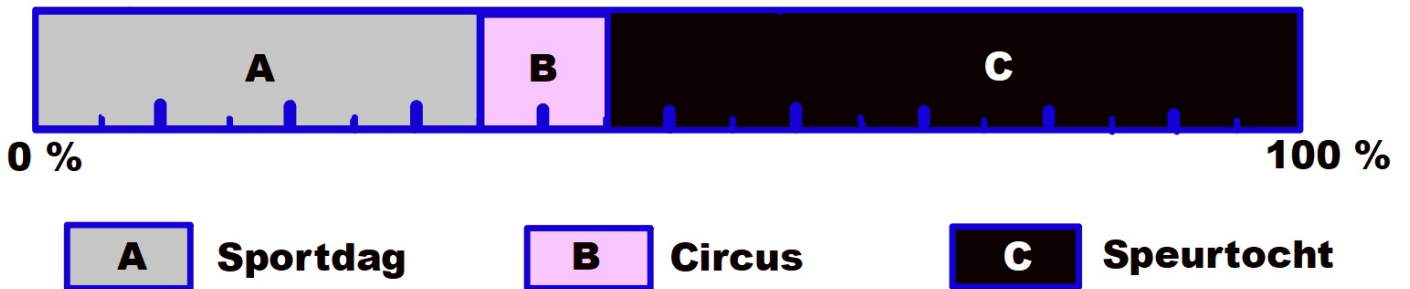


We betalen nu € 500,-

Wat zal de nieuwe huurprijs zijn? €

3 De kinderen van De Bolder konden kiezen uit drie soorten feestdagen.

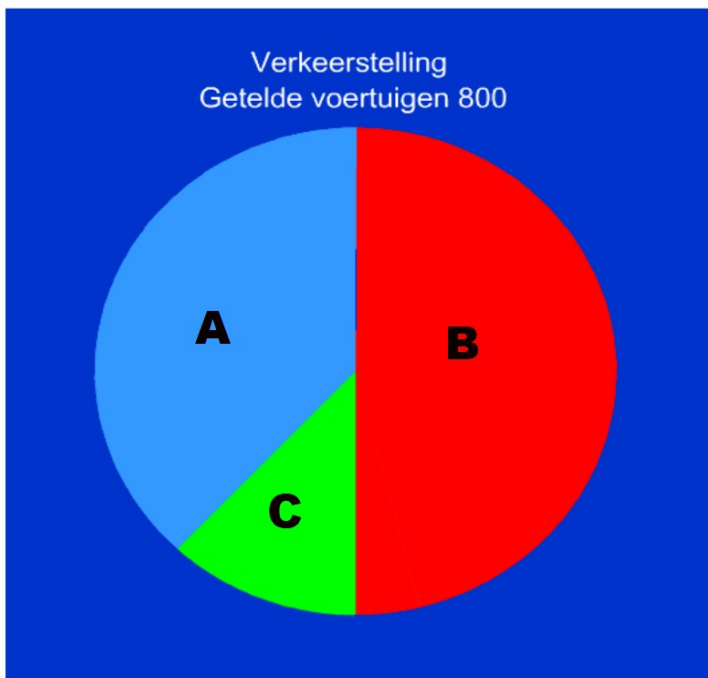
Dit is het resultaat:



Hoeveel procent van de kinderen koos voor een sportdag? %

Hoeveel procent van de kinderen koos voor een speurtocht? %

4



A - Fietsen
B - Auto's
C - Bromfietsen

Hoeveel procent van de getelde voertuigen waren bromfietsen? %

5



Zwembad



In groep 1A heeft 25% van de kinderen zwemdiploma A. Er zijn drie groepen 1: 1A, 1B en 1C.

Hoeveel kinderen met zwemdiploma A zijn er dan in de hele groep 1 met 80 kinderen?

Dat zijn kinderen.

6



Van een schoolklas is 20% ziek.

Je kunt ook zeggen: 1 op de kinderen is ziek.

7



**Liefdorp heeft 1600 inwoners.
Een half procent van de inwoners is jonger dan 1 jaar.**

Hoeveel inwoners zijn dat? inwoners.

8



**Lars koopt twee zonnebrillen.
Op de tweede bril krijgt hij 50% korting.**

Hoeveel moet hij in totaal betalen?

Dat is €

9




Mobiel € 150,-

**Bij inlevering van een
kortingsbon krijgt u maar liefst
40% korting!**

**Hoeveel korting krijg je op de telefoon als je de
kortingsbon inlevert? €**

10



**Aanbieding
Alle soorten taarten**

**Nu
€ 24,-
per taart**

**Chantal koopt een kwart van een aardbeientaart
en een derde deel van een kersentaart.**

Hoeveel moet ze betalen? €

11



**Bij het type-examen haalde Inge
1800 aanslagen in 15 minuten.**

Hoeveel aanslagen zijn dat gemiddeld per minuut?

..... aanslagen.

12

M	D	W	D	V	Z	Z
Juni					<u>1</u>	<u>2</u>
<u>3</u>	<u>4</u>	<u>5</u>	<u>6</u>	<u>7</u>	<u>8</u>	<u>9</u>
<u>10</u>	<u>11</u>	<u>12</u>	<u>13</u>	<u>14</u>	<u>15</u>	<u>16</u>
<u>17</u>	<u>18</u>	<u>19</u>	<u>20</u>	<u>21</u>	<u>22</u>	<u>23</u>
<u>24</u>	<u>25</u>	<u>26</u>	<u>27</u>	<u>28</u>	<u>29</u>	<u>30</u>
<u>31</u>						

Sjoukje heeft in juni iedere zaterdag bij een supermarkt gewerkt.

Ze verdiende 25 euro per zaterdag.

Hoeveel heeft zij in juni bij de supermarkt verdiend?

Dat is €

13



**Roelof werkt in de bouw.
Elke werkdag werkt hij van
's morgens 7.30 uur tot 12.00
uur en 's middags van 12.30 uur
tot 16.00 uur.**

Hoeveel uur werkt hij dan op een werkdag? uur.

14

Iedere eerste maandag van de maand - Ophalen van oud papier.

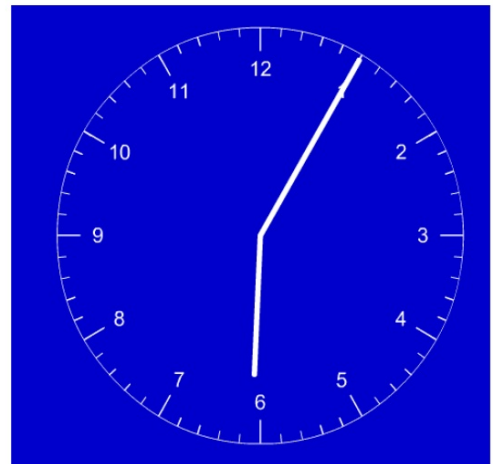
januari m d w d v z z 1 2 3 4 5 6 7 8 9 10 11 12 13 14 15 16 17 18 19 20 21 22 23 24 25 26 27 28 29 30 31	februari m d w d v z z 1 2 3 4 5 6 7 8 9 10 11 12 13 14 15 16 17 18 19 20 21 22 23 24 25 26 27 28 29	maart m d w d v z z 1 2 3 4 5 6 7 8 9 10 11 12 13 14 15 16 17 18 19 20 21 22 23 24 25 26 27 28 29 30 31	april m d w d v z z 1 2 3 4 5 6 7 8 9 10 11 12 13 14 15 16 17 18 19 20 21 22 23 24 25 26 27 28 29 30
mei m d w d v z z 1 2 3 4 5 6 7 8 9 10 11 12 13 14 15 16 17 18 19 20 21 22 23 24 25 26 27 28 29 30 31	juni m d w d v z z 1 2 3 4 5 6 7 8 9 10 11 12 13 14 15 16 17 18 19 20 21 22 23 24 25 26 27 28 29 30	juli m d w d v z z 1 2 3 4 5 6 7 8 9 10 11 12 13 14 15 16 17 18 19 20 21 22 23 24 25 26 27 28 29 30 31	augustus m d w d v z z 1 2 3 4 5 6 7 8 9 10 11 12 13 14 15 16 17 18 19 20 21 22 23 24 25 26 27 28 29 30 31

Het is vandaag 10 januari.

Wanneer wordt het oud papier weer opgehaald?

Op maandag

15




Baktijd pizza ongeveer 35 minuten.

Daphne zet de pizza in de oven om vijf over zes.

Hoe laat moet de pizza uit de oven?

Om

16



CDROM
Opnametijd:
80 min.

Robin neemt een muziekcd op van 1 uur.

Hoeveel speeltijd houdt hij nog over op de cdrom?

Nog minuten.

17



De juf hield bij hoeveel uur per week zij werk nakeek.

Maandag	-	15 minuten
Dinsdag	-	1 uur
Woensdag	-	45 minuten
Donderdag	-	-
Vrijdag	-	30 minuten

Hoeveel tijd heeft zij deze week werk nagekeken?

..... uur en minuten.

18

Welke klok geeft ongeveer dezelfde tijd aan als de wekker?



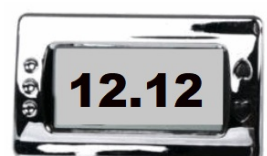
A



B




C



D

Dat is klok

19



We gaan met het vliegtuig naar Egypte.

Het vliegtuig vertrekt om 22.30 uur.

De vliegreis duurt 5 uur.

Hoe laat komen we aan?

Om uur.

20

Antwoorden

01. 60%

02. € 530,-

03. Sportdag - 35% / Speurtocht 55 %

04. 12,5 %

05. 20 kinderen

06. 1 op de 5

16. 20 minuten

07. 8 inwoners

17. 2 uur en 30 minuten

08. € 60,-

18. B (10:12)

09. € 60,-

19. 03.30 of half vier 's nachts

10. € 14,-

11. 120

12. € 125,-

13. 8 uur

14. 4 februari

15. 06.40 of 18.40 of 20 minuten voor 7