



naam:


groep:

1 Reken uit.

2 5 4 8	8 1 6 3	4 8 4 2	1 6 5 5	3 9 2 7
3 2 7 1 +	1 2 9 4 +	4 6 3 7 +	8 2 9 2 +	5 0 3 8 +
7 4 8 2	5 6 3 4	3 9 6 4	7 4 3 1	4 9 2 6
3 9 2 1 -	3 4 1 7 -	2 4 8 3 -	2 2 1 8 -	3 7 9 3 -

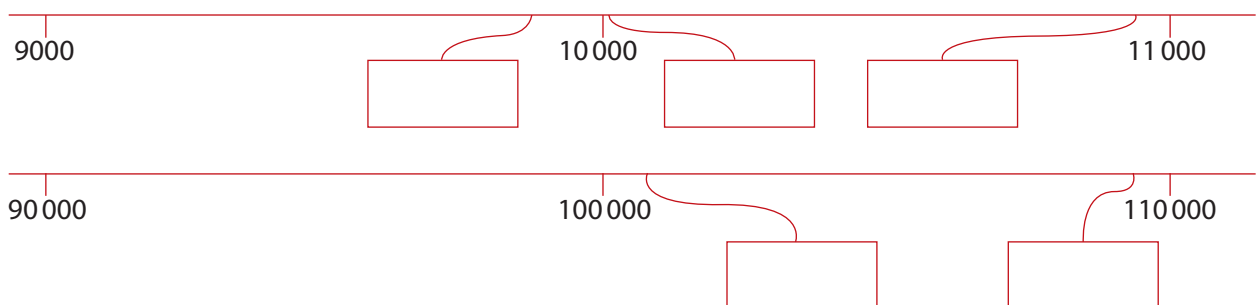
2 Zet een rondje om het grootste getal.

3,4 of 3,04	1,8 of 1,18	4,2 of 4,12	7,3 of 7,03	2,13 of 2,2
0,36 of 0,63	50,1 of 51,0	0,9 of 0,89	0,56 of 0,6	3,01 of 3

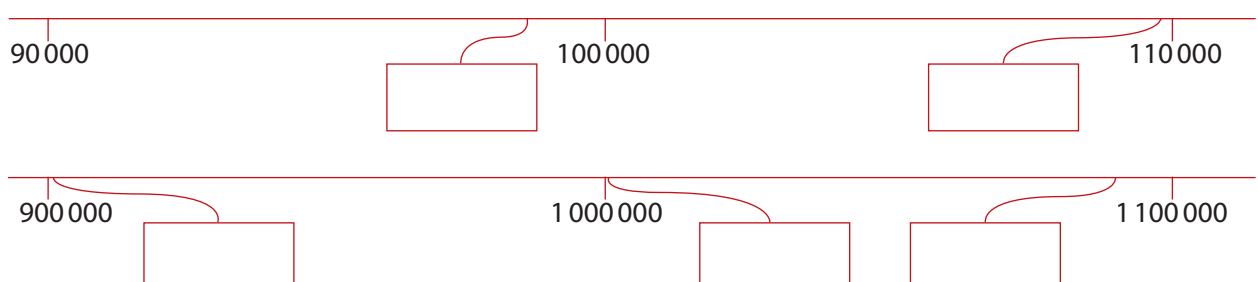


3 Schrijf de getallen op de kaartjes

a Kies uit: 10 050, 101 500, 108 000, 10 950, 9600.



b Kies uit: 1 000 050, 92 000, 901 000, 1 099 000, 108 900.






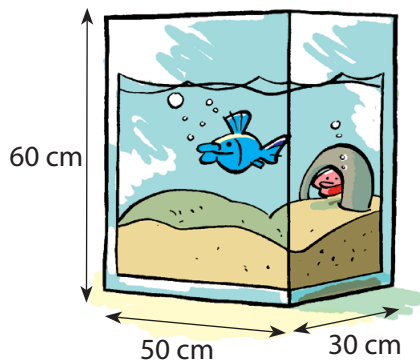
naam:

groep:

4 Reken uit.




a Hoeveel blokken van 1 dm^3 passen in dit aquarium? blokken

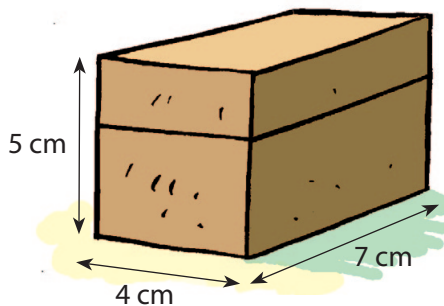


b Hoeveel blokken van 1 dm^3 passen in het aquarium? blokken

c De inhoud is dm^3 .



d Een judozaal is 8 m lang, 6 m breed en 3 m hoog. De inhoud van de zaal is m^3 .



e Een doosje is 4 cm lang, 7 cm breed en 5 cm hoog. De inhoud van het doosje is cm^3 .

5 Hoe groot zijn de campingvelden?

receptie					
	recreatie veld		tentenveld		
trekkers veld					
			zomerhuisje veld		
caravanterrein					
			bos		



1 hm

Het bos is ha.

Het caravanterrein is ha.

Het tentenveld is ha.

Het trekkersveld is ha.

Het recreatieveld is ha.

3 dam = m

2 hm = m

4 km = m

1 km = hm

5 hm = dam



naam:

groep:

6 Reken uit.

5 6	7 5	7 4	4 8	8 9
<u> </u> 7 x	<u> </u> 9 x	<u> </u> 8 x	<u> </u> 6 x	<u> </u> 9 x

7 Welk getal?

a Omcirkel het grootste getal.

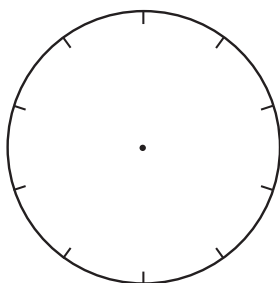
- 3,09 of 3,1
- 4,6 of 4,06
- 0,9 of 0,09
- 0,54 of 0,5
- 2,02 of 2,2



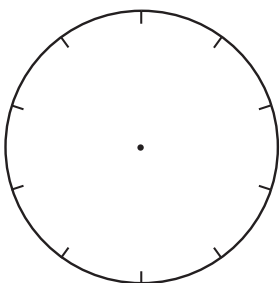
b Welk kommagetal ligt er precies tussenin?

0,3		0,9
2,8		3
0,6		0,7
5,8		6,2
46,5		47

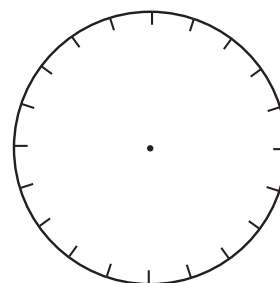
8 Maak de diagrammen af.



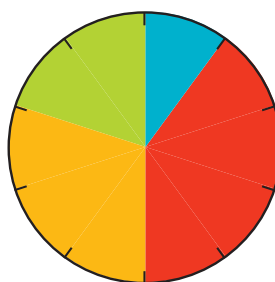
- 100 zwemmers
- 45 recreatiezwemmers
 - 20 schoonspringers
 - 25 waterpoloërs
 - 10 duikers



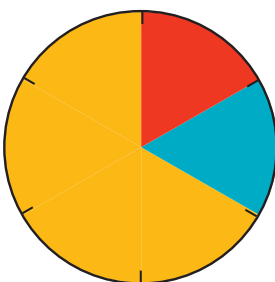
- 150 fietsers
- 60 wielrenners
 - 30 mountainbikers
 - 15 stunt bikers
 - 45 crossfietsers



- 800 balsporters
- 320 voetballers
 - 240 volleyballers
 - 160 honkballers
 - 80 basketballers



- 15 000 sporters
- 6 - 8 jaar: sporters
 - 9 - 12 jaar: sporters
 - 13 - 16 jaar: sporters
 - 17 - 20 jaar: sporters



- 24 000 supporters
- volleybal: supporters
 - voetbal: supporters
 - schaatsen: supporters