

# blokboek

# redactiesommen C

Wouter de Vlugt



**Kinheim**





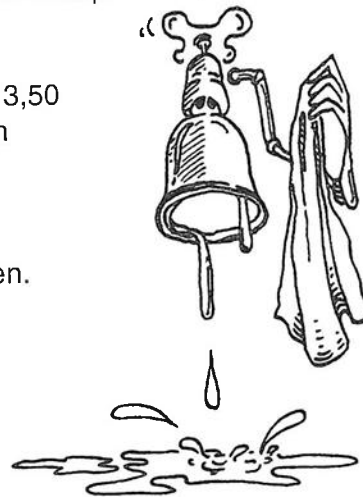








1. Een koopman heeft 800 sinaasappels in de aanbieding. Hij verkoopt er 300 voor 30 eurocent per stuk en de rest voor 25 eurocent per stuk. Hoeveel ontvangt hij hiervoor?
  - € 205,50 d op 1
  - € 21,50 b op 9
  - € 215,00 c op 6
2. Elke week sparen 22 kinderen € 1,50, 18 kinderen € 3,50 en 2 kinderen € 3,00. Na een jaar hebben de kinderen samen € ..... gespaard.
  - € 1285,- a op 8
  - € 5304,- i op 2
  - € 1020,- u op 7
3. Een lekke kraan druppelt steeds door. In een uur verdwijnt er een halve liter door de gootsteen. Hoeveel liter water gaat er in 12 uur verloren?
  - 18 v op 10
  - 24 t op 11
  - 6 h op 7
4. Klaas verdient in 1 jaar € 13296,00. Hij verdient dan gemiddeld per maand € .....
  - € 1108 n op 12
  - € 1180 s op 2
  - € 118 a op 3



5. In een uur loopt iemand 6 km. Hij moet 24 km lopen. Hij rust twee keer een kwartier. Hoe lang is hij onderweg?
  - 3½ uur g op 12
  - 4½ uur v op 1
  - 5 uur a op 4
6. Drie en een half dozijn zakdoeken is ..... zakdoeken.
  - 38 m op 6
  - 36 g op 5
  - 42 t op 8
7. Een toeristische route is 40 km. Jan loopt in een uur 5 km. Jan moet ..... uur lopen om de route af te leggen.
  - 6 k op 3
  - 9 h op 11
  - 8 a op 5
8. Wim en Marie hebben samen € 12,00. Wim heeft € 5,75. Marie heeft € .....
  - € 5,75 g op 4
  - € 6,25 e op 11
  - € 6,75 h op 12
9. Van kwart voor 9 tot half 11 duurt ..... minuten.
  - 145 min. f op 8
  - 135 min. v op 9
  - 105 min. g op 10



10. In een leslokaal zijn vijf rijen tafeltjes en stoeltjes geplaatst. In de tweede rij zitten 8 kinderen. In de andere rijen 1 meer. Hoeveel kinderen zitten in dat lokaal?
  - 44 k op 4
  - 36 g op 5
  - 45 j op 6
11. Jan is 1 m 24. Piet is 1 m 38. Johan is 1 m 56. Hoeveel cm zijn Jan en Piet samen groter dan Johan?
  - 106 i op 9
  - 262 ij op 4
  - 162 u op 7
12. Welke datum is het 26 dagen na 15 mei?
  - juni 11 w op 1
  - mei 10 a op 2
  - juni 10 n op 3

1	2	3	4	5	6	7	8	9	10	11	12	vraag
<input type="radio"/>	<input type="radio"/>	<input type="radio"/>	<input type="radio"/>	<input type="radio"/>	<input type="radio"/>	<input type="radio"/>	<input type="radio"/>	<input type="radio"/>	<input type="radio"/>	<input type="radio"/>	<input type="radio"/>	antwoord

Ben je klaar?  
Vraag dan toets 1 van deel C






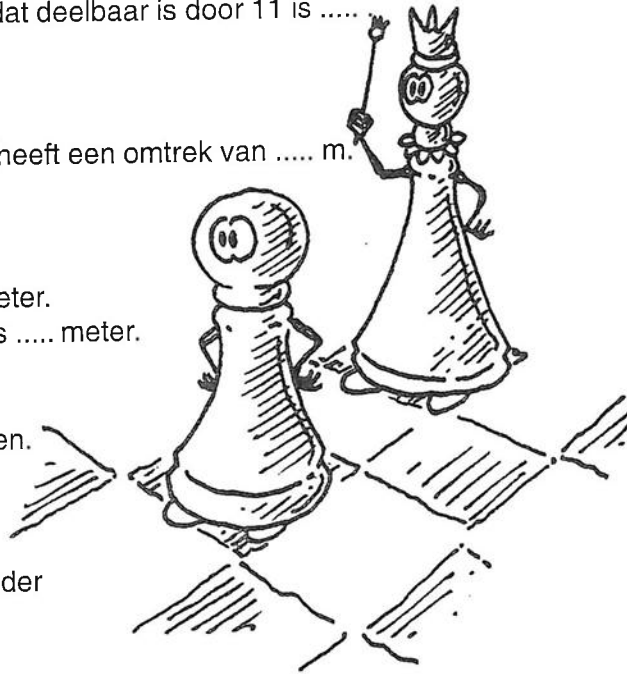








1. Twee getallen zijn samen 100. Het kleinste is 35.  
Het grootste is ..... .  65 *t op 2*  
 75 *l op 8*  
 135 *k op 11*
2. Twee getallen zijn samen 678. Het kleinste getal is 275.  
Het grootste getal is ..... .  413 *h op 6*  
 803 *c op 4*  
 403 *f op 5*
3. Het eerste getal beneden de 100 dat deelbaar is door 11 is .....  99 *e op 10*  
 91 *v op 1*  
 111 *m op 9*
4. Een weiland van 135 bij 45 meter heeft een omtrek van ..... m.  240 *f op 6*  
 180 *u op 7*  
 360 *r op 11*
5. De omtrek van een kamer is 19 meter.  
De lengte is 5 meter. De breedte is ..... meter.  4½ *s op 1*  
 14 *g op 2*  
 24½ *h op 3*
6. Een schaakbord heeft 8 bij 8 velden.  
Hoeveel velden zijn wit?  64 *u op 10*  
 50 *i op 7*  
 32 *ij op 12*
7. Hoeveel is een kwart van 100 minder  
dan de helft van 100?  50 *f op 12*  
 25 *e op 6*  
 75 *s op 8*
8. € 200,- moet verdeeld worden onder A, B en C.  
A krijgt de helft, B krijgt een vijfde deel en C krijgt € ..... .  € 40,- *d op 2*  
 € 60,- *r op 8*  
 € 50,- *n op 10*
9. Onze klok loopt per uur 2 minuten voor. Om 8 uur is de klok gelijk  
gezet met de radio. Om 10 uur loopt de klok ..... minuten voor.  4 *f op 4*  
 2 *a op 11*  
 18 *u op 7*
10. Onze ouderwetse staartklok loopt per uur 3 minuten te snel.  
Om 8 uur is de klok precies gelijk gezet.  
Hoe laat wijst de klok aan als het in werkelijkheid precies 11 uur is?  9 over 11 *d op 9*  
 12 voor 11 *o op 12*  
 3 over 11 *a op 3*
11. De som van drie getallen is 100.  
Het eerste is 16. Het tweede is 10 meer.  
Het derde is ..... .  68 *t op 1*  
 58 *e op 7*  
 48 *s op 4*
12. In een kist zit 120 kg noten.  
Ze is voor een derde deel vol.  
Er kan nog ..... kg bij.  80 *w op 5*  
 120 *u op 9*  
 240 *o op 3*



1 2 3 4 5 6 7 8 9 10 11 12 vraag

antwoord

Ben je klaar?  
Vraag dan toets 2  
van deel C





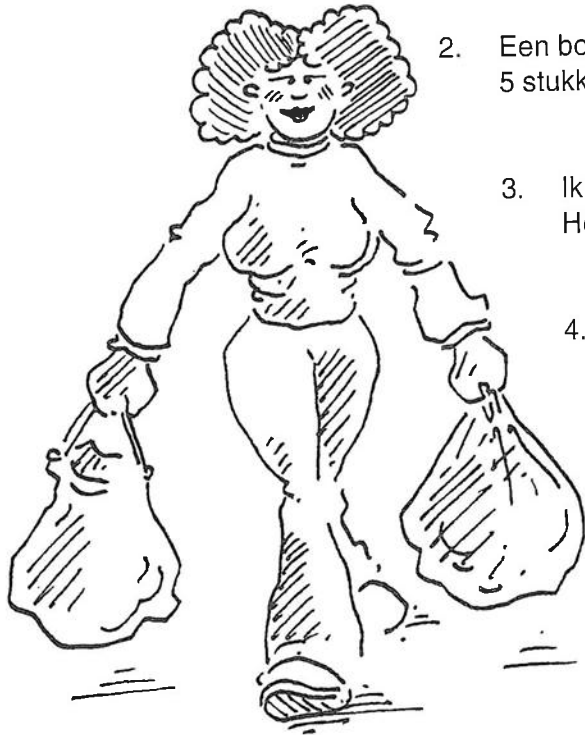








1. Bij iedere € 25,- aan boodschappen kan moeder een pak suiker krijgen voor de helft van de prijs. Moeder koopt voor € 135,- aan boodschappen. Hoeveel pakken suiker voor de goedkope prijs kan ze krijgen?
- 5 a op 2  
 4 d op 9  
 3 b op 12



2. Een bos van 80 ha en 25 are wordt in 5 stukken verdeeld. Ieder stuk is ..... ha en ..... are.
- 16 ha + 5 are c op 3  
 1 ha + 64 are h op 8  
 2 ha + 4 are u op 1

3. Ik deel een getal door 12. Het quotiënt is 8. Het getal was .....
- 4 s op 11  
 96 u op 5  
 20 p op 2

4. In een klas zitten 50 kinderen. Op een dag is een tiende deel afwezig. Er zijn ..... kinderen aanwezig.
- 45 n op 12  
 15 l op 1  
 55 g op 10

5. Een kamer is 4,5 bij 3,5 m. Het vloerkleed is 2,5 bij 3 meter. Hoeveel m<sup>2</sup> blijft onbedekt?
- 15,75 w op 3  
 8,25 u op 4  
 7,5 h op 5

6. In de stoep voor ons huis liggen 100 tegels van 30 bij 30 cm. Hoeveel m<sup>2</sup> is de stoep?
- 900 v op 7  
 90 o op 2  
 9 m op 6

7. Jaap, Johan en Cornelis verdelen € 100,00. Jaap krijgt 1/5 deel. Johan 1/4 deel en Cornelis de rest. Hoeveel krijgt Cornelis meer dan Jaap?
- 55 s op 3  
 25 o op 4  
 35 v op 1

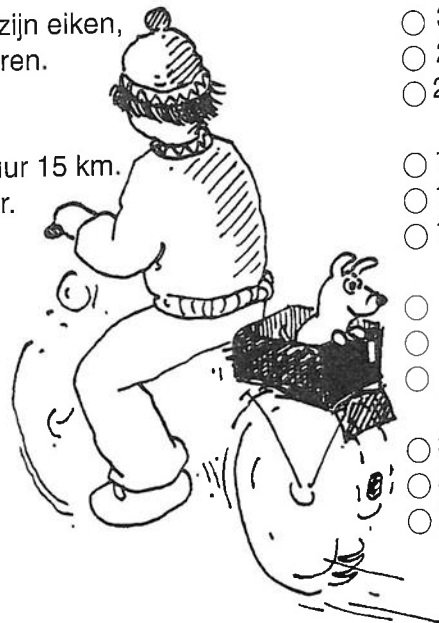
8. Een handelaar koopt antiek voor € 887,50. Hij verkoopt de handel voor € 1.110,00. Zijn winst is € .....
- € 222,50 o op 8  
 € 887,50 h op 5  
 € 313,50 s op 10

9. In een bos staan 6000 bomen. Het derde deel ervan zijn eiken, het vierde deel ervan zijn dennen en de rest zijn sparren. Hoeveel sparren staan er?
- 3500 g op 3  
 2500 e op 11  
 25000 b op 7

10. Sam fietst van A naar B, dat is 100 km. Hij fietst per uur 15 km. Hij rust drie keer een kwartier. Hij gaat weg om 10 uur. Hoe laat is hij in B?
- 17.25 uur m op 9  
 17.15 uur b op 8  
 18 uur l op 12

11. Hoeveel is het derde deel van 1/8 deel van 48?
- 6 d op 9  
 2 p op 10  
 1 n op 4

12. Een jurk moet 115 cm lang zijn. De jurk is 138 cm. Hoe breed kan nu de zoom worden?
- 32 cm s op 11  
 53 cm t op 6  
 23 cm p op 7



1 2 3 4 5 6 7 8 9 10 11 12 vraag  
            antwoord

Ben je klaar?  
 Vraag dan toets 3 van deel C













1. Karel heeft € 2,50. Johan heeft 3 x zoveel.  
Johan heeft € ..... meer dan Karel.

- € 5,00 d op 7
- € 7,50 g op 12
- € 2,50 m op 1

2. Annie heeft € 1,70. Willy heeft 5 x zoveel.  
Samen hebben ze € .....

- € 8,50 w op 3
- € 9,40 k op 1
- € 10,20 e op 4

3. Een boer heeft 800 eieren uit het hok gehaald.  
Hij breekt er per ongeluk 1%. Nu zijn er nog ..... hele eieren.

- 720 s op 11
- 786 t op 8
- 792 l op 5

4. In een flesje kan 0,6 liter olie. In 15 flesjes samen ..... liter.



- 9 e op 11
- 19 u op 7
- 90 z op 2

5. Willem koopt een tweedehands bromfiets voor € 1300,-.  
Hij knapt hem wat op en verkoopt hem met 8% winst.  
De brommer werd verkocht voor € .....

- € 1340,- a op 4
- € 1040,- z op 10
- € 1404,- i op 8

6. Twee getallen zijn samen 400. Het grootste getal is 150 groter dan het  
het kleinste getal. Het kleinste getal is .....

- 125 n op 12
- 175 ij op 2
- 250 g op 5



7. Van 500 sinaasappels wordt 10% op de markt verkocht.  
De groenteman houdt ..... over.

- 450 p op 6
- 495 l op 9
- 350 d op 3

8. Van € 320,- moet vader 8% aan de buurman betalen.  
Vader houdt nog € ..... over.

- € 249,40 s op 7
- € 194,40 d op 10
- € 294,40 c op 2

9. Hoeveel is de helft van 80 minder dan 100?

- 10 b op 12
- 20 u op 11
- 60 r op 10

10. Hoeveel is 5% van 600 euro meer dan 3% van 800 euro?

- € 54,- a op 7
- € 60,- u op 8
- € 6,- e op 9

11. In een bos staan 200 bomen. Er zijn 30% dennen en 15% beuken.  
De rest zijn eiken. Er zijn ..... eiken.

- 180 s op 5
- 240 t op 4
- 110 h op 3

12. In een hok ligt 15 ton stenen. Het hok is nu voor 3/5 deel vol.  
Er kan nog ..... ton bij.

- 12 m op 6
- 9 k op 3
- 10 s op 1

1	2	3	4	5	6	7	8	9	10	11	12	vraag
<input type="radio"/>	<input type="radio"/>	<input type="radio"/>	<input type="radio"/>	<input type="radio"/>	<input type="radio"/>	<input type="radio"/>	<input type="radio"/>	<input type="radio"/>	<input type="radio"/>	<input type="radio"/>	<input type="radio"/>	antwoord

Ben je klaar?  
Vraag van d.