

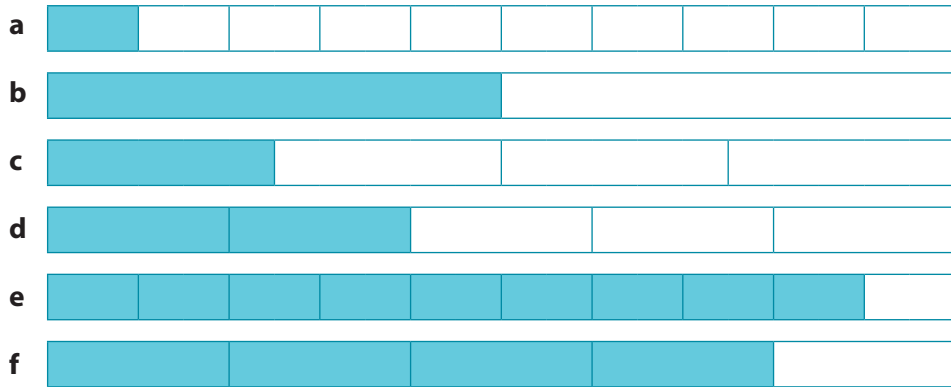


naam: \_\_\_\_\_

antwoorden

**1 Breuken, kommagetallen en procenten.**

Schrijf het steeds op 3 manieren op. Vul in.

 $\frac{1}{10}$  en 0,1 en 10% $\frac{1}{2}$  en 0,5 en 50 $\frac{1}{4}$  en 0,25 en 25 $\frac{2}{5}$  en 0,4 en 40 $\frac{9}{10}$  en 0,9 en 90 $\frac{4}{5}$  en 0,8 en 80**2 Maak de deelsommen. Vul in.**

688 : 8 = 86	523 : 7 = 74 r. 5	599 : 12 = 49 r. 11
944 : 16 = 59	623 : 13 = 47 r. 12	

**3 Zet een rondje om het goede antwoord.**

a 'De Grossglockner is 3798 m

hoog. Dat is ongeveer:

- 40 km
- 38 km
- 3,8 km



c In Londen wonen 7,5 miljoen mensen. 7,5 miljoen is:

- 7500000
- 75000000
- 75000



b 1 bagel kost € 0,93.

6 bagels kosten:

- ongeveer € 5,60
- ongeveer € 6,00
- ongeveer € 6,50



d Van de 300 campinggasten zijn 30% Nederlanders. Dat zijn:

- 70 Nederlanders
- 90 Nederlanders
- 80 Nederlanders



e Wandeltochten: maandag 27 km, dinsdag 21 km, woensdag 24 km en donderdag 32 km. Hoeveel kilometer wandelt Jos gemiddeld?

- 24 km per dag
- 25 km per dag
- 26 km per dag






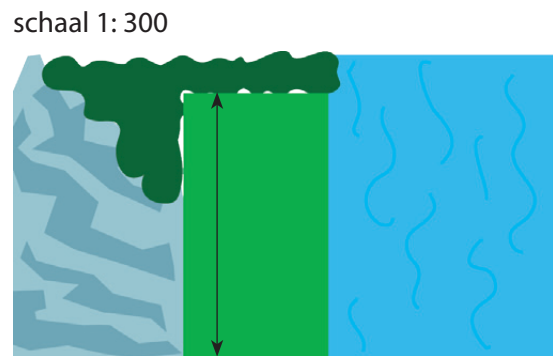
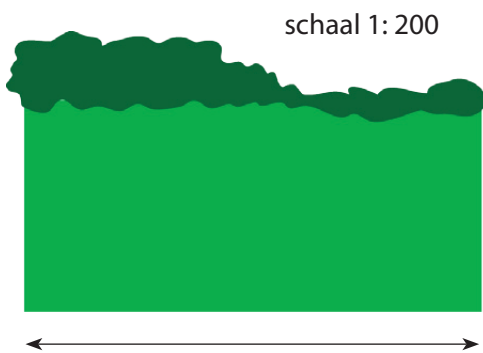
naam:

antwoorden

## 4 Wat is de prijs van de grastapjten? Vul in.

a  $3\text{ m} \times 5\text{ m}$  kost € 4,85b  $8\text{ m} \times 2\text{ m}$  kost € 5,95c  $2\text{ m} \times 5\text{ m}$  kost € 6,80 $3\text{ m} \times 10\text{ m}$  kost € **9,70** $8\text{ m} \times 4\text{ m}$  kost € **11,90** $4\text{ m} \times 10\text{ m}$  kost € **27,20**d  $16\text{ m} \times 20\text{ m}$  kost € 36,-e  $8\text{ m} \times 4\text{ m}$  kost € 9,90 $16\text{ m} \times 10\text{ m}$  kost € **18,-** $4\text{ m} \times 4\text{ m}$  kost € **4,95**

## 5 Hoe groot is het? Vul in.

a De breedte van het kampeerveld is **13** mb De lengte van het kampeerveld is **10,5** m

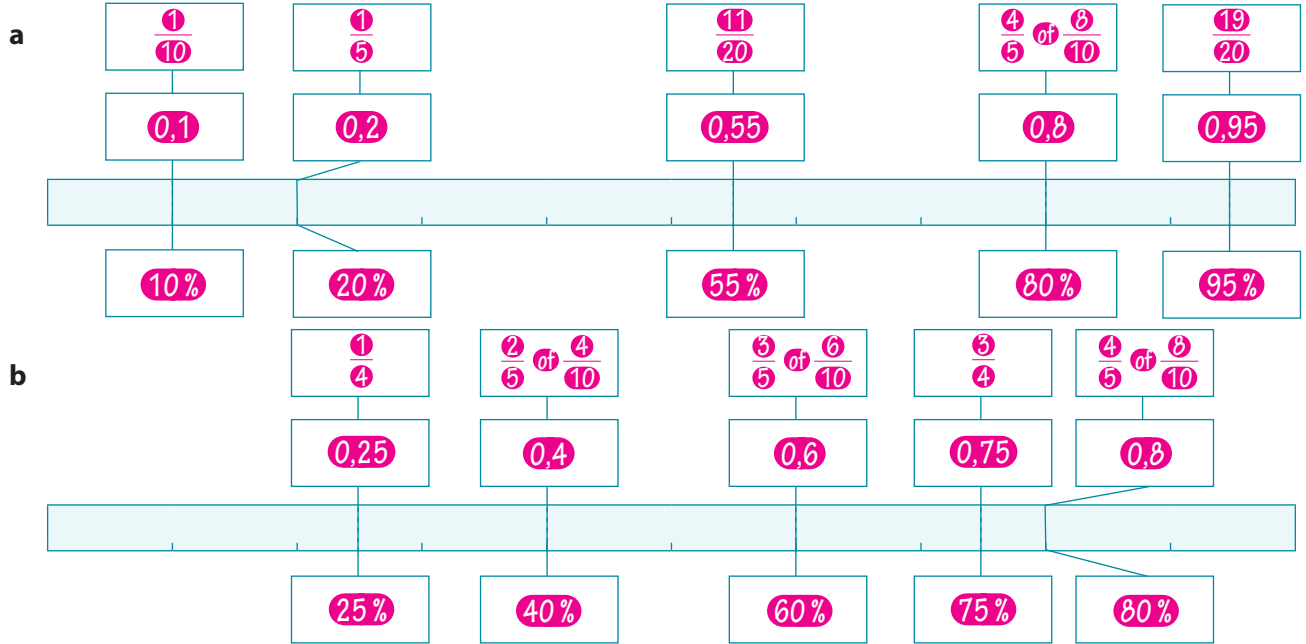
	in het echt:	schaalmodel:	schaal:
c partytent	8 m	8 cm	1: <b>100</b>
d speeltent	200 cm	40 cm	1: <b>5</b>
e koepeltent	6 m	30 cm	1: <b>20</b>





naam:

antwoorden

**6 Vul de kaartjes in: breuken, kommagetallen en procenten.**

**7 Maak de deelsommen.**

$992 : 16 = 62$ $\begin{array}{r} 992 \\ 16 \overline{) 992} \\ \underline{960} \phantom{0} \\ 32 \phantom{0} \\ \underline{32} \phantom{0} \\ 0 \end{array}$	$961 : 18 = 53 \text{ r. } 7$ $\begin{array}{r} 961 \\ 18 \overline{) 961} \\ \underline{900} \phantom{0} \\ 61 \phantom{0} \\ \underline{54} \phantom{0} \\ 7 \end{array}$	$794 : 14 = 56 \text{ r. } 10$ $\begin{array}{r} 794 \\ 14 \overline{) 794} \\ \underline{700} \phantom{0} \\ 94 \phantom{0} \\ \underline{84} \phantom{0} \\ 10 \end{array}$
$1868 : 40 = 46 \text{ r. } 28$ $\begin{array}{r} 1868 \\ 40 \overline{) 1868} \\ \underline{1600} \phantom{0} \\ 268 \phantom{0} \\ \underline{240} \phantom{0} \\ 28 \end{array}$	$4735 : 25 = 189 \text{ r. } 10$ $\begin{array}{r} 4735 \\ 25 \overline{) 4735} \\ \underline{2500} \phantom{0} \\ 2235 \phantom{0} \\ \underline{2000} \phantom{0} \\ 235 \phantom{0} \\ \underline{225} \phantom{0} \\ 10 \end{array}$	

**8 Zet een rondje om het goede antwoord.**

- a** De omtrek van het rechthoekige speelterreintje is 22 m. Wat kan de oppervlakte zijn?  
 • 100 m<sup>2</sup> • **10 m<sup>2</sup>** • 11 m<sup>2</sup>
- b** Snorkelset € 24,95. Vandaag 10% korting. De snorkelset kost vandaag ongeveer:  
 • **€ 22,50** • € 29,50 • € 23,50
- c** De opbrengst voor 'World Child' is € 1.487.390,-. Rond het af op een honderdduizendtal.  
 • 1 400 000 • **1 500 000** • 1 490 000
- d** 9 van de 15 campinggasten maken gebruik van aansluiting elektriciteit. Hoeveel procent is dat?  
 • **60%** • 50% • 80%
- e** De rivier Le Loue steeg na veel regen van 0,95 m naar 2,91 m. Het verschil is:  
 • 3,84 m • 2,16 m • **1,96 m**