

*precenten*  
Zweeds renspel

M8



# Antwoordenblad

Namen:

<b>1.</b>	<b>8.</b>	<b>15.</b>
<b>2.</b>	<b>9.</b>	<b>16.</b>
<b>3.</b>	<b>10.</b>	<b>17.</b>
<b>4.</b>	<b>11.</b>	<b>18.</b>
<b>5.</b>	<b>12.</b>	<b>19.</b>
<b>6.</b>	<b>13.</b>	<b>20.</b>
<b>7.</b>	<b>14.</b>	<b>21.</b>

# vraag 1

De Apple store heeft een mooie aanbieding.

Je betaalt voor een Iphone nu €160,-

De oude prijs is € 200,-

Hoeveel procent korting krijg je?

\_\_\_\_\_ %



# vraag 2

Anne koopt een nieuwe laptop.

De laptop die ze koopt kost €450 euro.

Anne krijgt €135 korting.

Hoeveel procent korting krijgt Anne?

\_\_\_\_\_ %



# vraag 3

Het prijskaartje is beschadigd. Je ziet niet wat de oude prijs is. Wel zie je op een sticker staan dat de gitaar 25% korting heeft. Bij de kassa zegt de caissière dat je €45 euro moet betalen.

Wat is de oude prijs?

€ \_\_\_\_\_



# vraag 4

$$25\% \text{ van } \text{€}360 = \text{€}$$

# vraag 5

In de reisgids staat een mooie vakantieaanbieding.  
10 dagen New York met 25% korting.  
Nu slechts €1800 euro!

Wat is de oude prijs?

€ \_\_\_\_\_




# vraag 6

In de folder van de Intertoys is de lego in de aanbieding met 80%. Je betaalt nu €10.

Wat is de oude prijs?

€ \_\_\_\_\_






# vraag 7

Het prijskaartje is beschadigd. Je ziet niet wat de oude prijs is. Wel zie je op een sticker staan dat de trommel 30% korting heeft. Bij de kassa zegt de caissière dat je €56 euro moet betalen.

Wat is de oude prijs?

€ \_\_\_\_\_



# vraag 8

$$12,5\% \text{ van } \text{€}900 = \text{€}$$

# vraag 9

De nieuwe bank kost €1000 euro.

Je krijgt 15% korting op het gehele assortiment.

Wat is de nieuwe prijs?

€ \_\_\_\_\_

# vraag 10

In de schoenenwinkel zijn alle sneakers in de aanbieding.  
Je betaalt €76,50.

De sneakers kosten zonder korting €90,-

Hoeveel procent korting krijg je?

\_\_\_\_\_ %



# vraag 11

Met 30% van de batterij doe je 60 minuten.

Hoeveel minuten doe je ongeveer met de volle batterij?

\_\_\_\_\_ minuten



# vraag 12

45% van het water in het zwembad is 540 liter.

Wat is de inhoud van een vol zwembad?

\_\_\_\_\_ liter

# vraag 13

4 kaartjes voor de Efteling kosten normaal €160,-  
Bij de Albert Heijn krijg je nu 12,5% korting op het totaal  
bedrag.

Wat is de nieuwe prijs?

€ \_\_\_\_\_

# vraag 14

Voor een nieuwe game betaal je €60,-

Je krijgt €12,- korting.

Hoeveel procent is dat?

\_\_\_\_\_ %



# vraag 15

$$75\% \text{ van } \text{€}200 = \text{€}$$

# vraag 16

In de reisgids staat een mooie vakantieaanbieding.  
8 dagen Ibiza met 10% korting.  
Nu slechts €450 euro!

Wat is de oude prijs?


€ \_\_\_\_\_

# vraag 17

5% van de inhoud van een olievat is 8 liter.

Wat is de totale inhoud van het vat?

\_\_\_\_\_ liter



# vraag 18

Er is stapelkorting bij de Hema.

Voor 5 nieuwe shirtjes betaal je €32,-

In totaal heb je 60% korting gekregen.

Wat is de oude prijs?


€ \_\_\_\_\_

# vraag 19

Bij de MediaMarkt krijg je nu korting op camera's.  
De camera die je wil kopen is van €300,-  
afgeprijsd naar €180,-

Hoeveel procent korting krijg je?

\_\_\_\_\_ %



# vraag 20

$$40\% \text{ van } \text{€}50 = \text{€}$$

# vraag 21

In de folder van de Intertoys is de elektrische step in de aanbieding met 40%. Je betaalt nu €72.

Wat is de oude prijs?

€ \_\_\_\_\_



# Antwoordenblad

<b>1.</b> 20%	<b>8.</b> €112,50	<b>15.</b> €150
<b>2.</b> 30%	<b>9.</b> €850	<b>16.</b> €500
<b>3.</b> €60	<b>10.</b> 15%	<b>17.</b> 160 liter
<b>4.</b> €90	<b>11.</b> 200 minuten	<b>18.</b> €80
<b>5.</b> €2400	<b>12.</b> 1200 liter	<b>19.</b> 40%
<b>6.</b> €50	<b>13.</b> €140	<b>20.</b> €20
<b>7.</b> €80	<b>14.</b> 20%	<b>21.</b> €120



# Bedankt voor het downloaden!

VEEL PLEZIER MET HET DOCUMENT!

IK ZOU HET LEUK VINDEN ALS JE MIJN INSTAGRAM EN/OF WEBSITE  
BIJ ANDEREN AANRAADT!

