



De H.O.C



E *De Grosse Zehy vanuit de zeylandt by de rivier 12*




Werkboek

Naam:

Werkblad 1

(Bij bladzijde 2 en 3 van het lesboek)

Op het plaatje hieronder zie je de beurs nog een keer.
Dit keer zie je ook vier tekstballonnetjes. De mannen die een tekstballon boven hun hoofden hebben voeren twee aan twee een gesprek met elkaar.
Vul jij eens in waar de mannen het hier over hebben. En kun je ook invullen wat de voorste man denkt?



Kijk eens goed naar het plaatje. In welke bevolkingslaag zouden deze mensen thuishoren?

Waarom denk je dat?



Op het schilderij hierboven is het maar een drukke bedoening. Beschrijf eens wat je ziet?

Waarom denk je dat?

Welke van de volgende vier beroepen hoort niet thuis bij nijverheid?

- * weven
- * spinnen
- * handel
- * kantklossen

Werkblad 2

(Bij bladzijde 4 en 5 van het lesboek)

Leg eens in je eigen woorden uit wat welvaart betekent.



Hier boven zie je twee schilderijen. De linker is gemaakt door Pieter Breugel en de rechter door Rembrandt. Beide schilderijen laten een bruiloftsdiner zien. Toch is er een heel groot verschil tussen de beide schilderijen. Wat zijn de verschillen?

Nederland is in deze tijd een zeer welvarend land. We staan ergens in de top op de wereldranglijst. Het gaat dus goed in Nederland, vergeleken met vele andere landen. Maar is iedereen hier even welvarend? Of zijn er nog verschillen? Leg je antwoord uit.



Werkblad 3

(Bij bladzijde 6 en 7 van het lesboek)



De huizen op het plaatje hiernaast staan in het water? De steiger op de voorgrond is er later bijgebouwd. Waarom staan de huizen in het water?

Noem 3 dingen waaraan je kunt zien dat op de foto hiernaast een pakhuis staat.



Hiernaast zie je hoe de grote vracht containers van of op een schip worden geladen. Klaar om verder getransporteerd te worden. Dit is niet de Amsterdamse haven. En de stapelmarkt functie is eigenlijk door deze stad overgenomen.

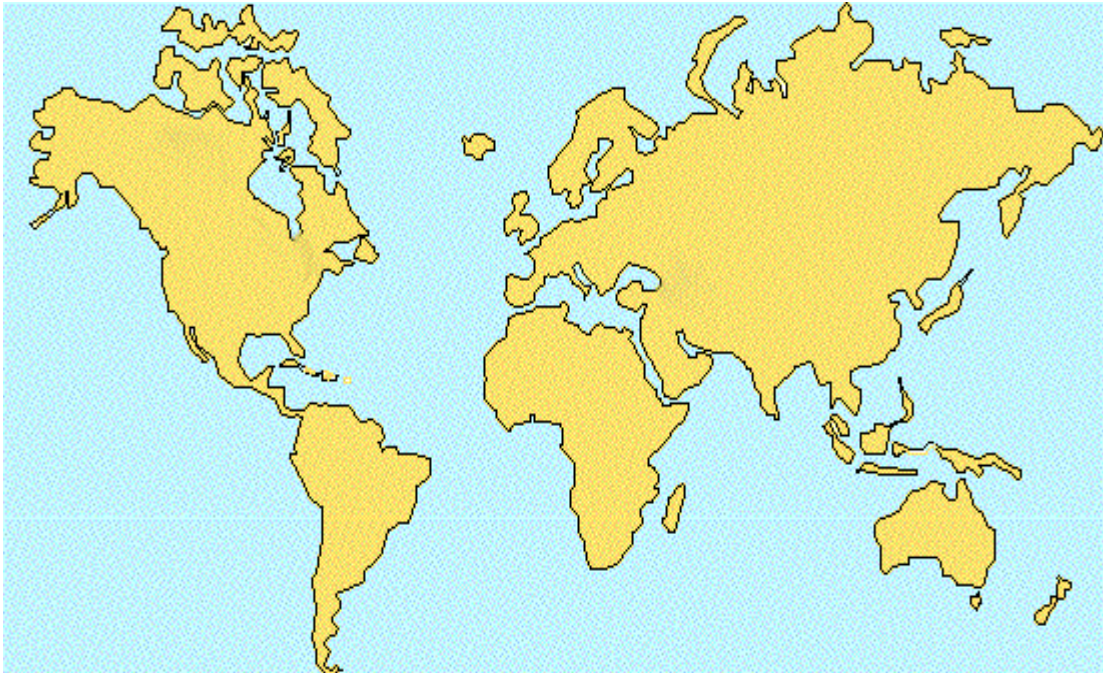


Weet jij welke wereldberoemde Nederlandse stad vandaag de dag de grote aan- en afvoer afhandelt?

Deze haven ligt in _____

Werkblad 4

(Bij bladzijde 7 t/m 10 van het lesboek)



Hierboven zie je een wereldkaart.

Teken de noordelijke route in de kaart. Gebruik hiervoor een rood potlood.

Teken nu de zuidelijke route in de kaart. Gebruik hiervoor je groene potlood.

Geef aan waar op de kaart de volgende plekken liggen:

- Amsterdam
- Portugal
- Spanje
- Engeland
- Kaap de Goede Hoop
- Batavia (nu Jakarta)



Wat zie je op het plaatje hierboven gebeuren? Waarom gebeurde dat?



Hiernaast zie je nootmuskaat. Een specerij waar de Nederlanders erg dol op waren en nu nog zijn. Waarom daalde de prijs van specerijen opeens zo plotseling toen er veel van kwam.



Van welke 3 kamers zie je hier de vlaggen?

- 1 -
- 2 -
- 3 -

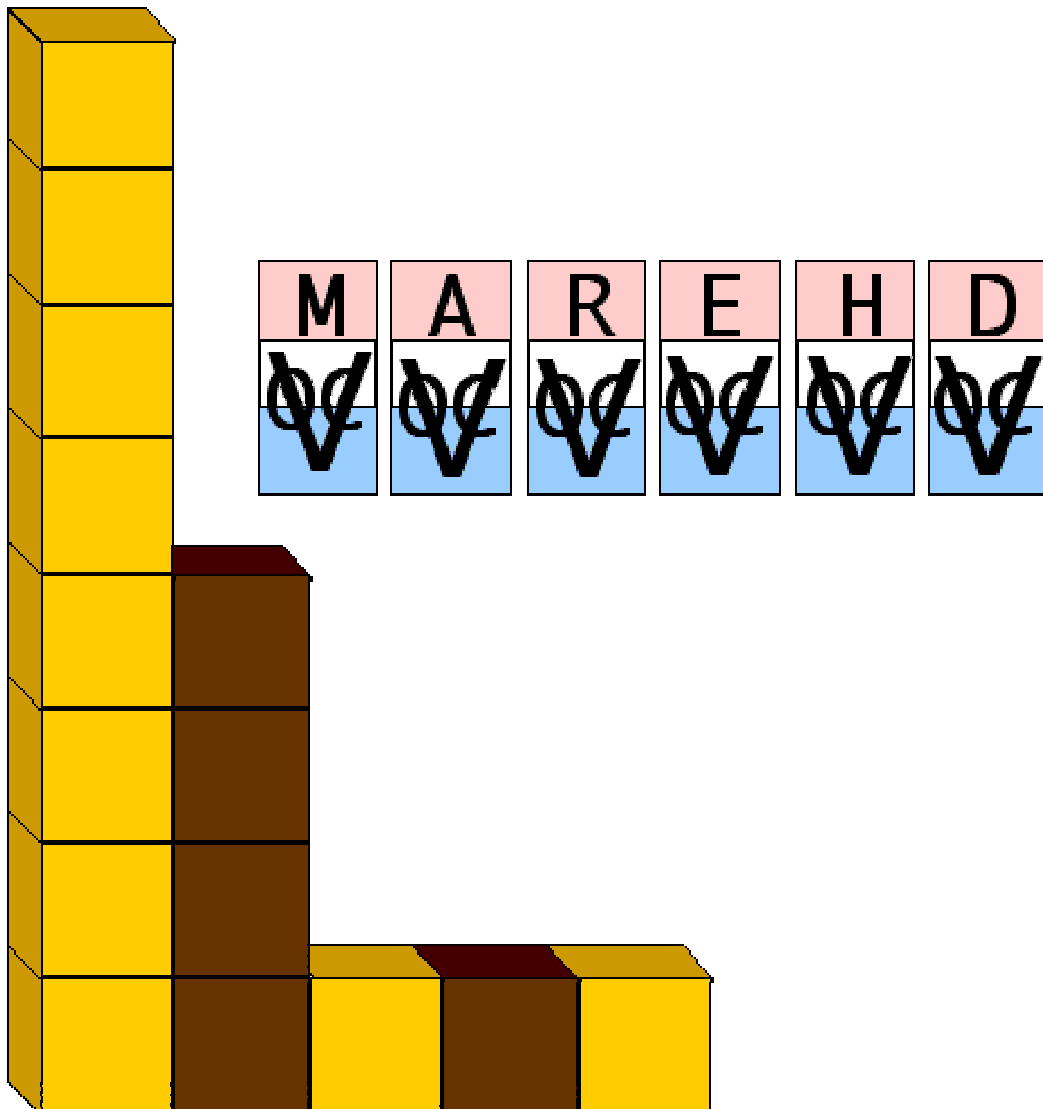
Werkblad 5

(Bij bladzijde 11 en 12 van het lesboek)

Waarom spreken we eigenlijk van de Heren XVII? Er zijn toch maar 16 mannen in totaal? Leg dat eens uit.

Wat was eigenlijk de taak van de Heren XVII





Hierboven zie je een grafiekje. De staven van de gele en bruine blokken in het grafiekje stellen kamers voor.
 Wat stelt elk blok voor?

Knip de vlaggen uit. Elke vlag hoort bij een bepaalde kamer. Plak de juiste vlag bij de juiste staaf.

Schrijf in het onderste blok van elke staaf steeds welke kamer het is.

Werkblad 6

(Bij bladzijde 13 t/m 21 van het lesboek)

Leg eens in je eigen woorden uit wat dit betekent:


"De VOC had een aantal privileges"



Waarom voerde de VOC eigenlijk oorlog tegen de Portugezen?



Wat deed de VOC als de vorsten geen contract met hen wilden sluiten?



Je zou verwachten dat de tekening hierboven is gemaakt door Nederlanders die daarmee de opstandige Indiërs wilde waarschuwen, zo van: "Je kunt maar beter doen wat wij, Nederlanders willen, want anders..."
Maar deze tekening is juist gemaakt door een Indiër. Probeer jij eens te bedenken waarom juist een Indiër zo'n afbeelding maakt.

Werkblad 7


(Bij bladzijde 21 t/m 25 van het lesboek)

Waarom was het nodig dat er in Indië Nederlandse handelsposten werden gesticht?



Noem eens zo'n belangrijke handelspost.

Een belangrijke handelspost was: _____



Een fort werd niet alleen gebouwd om van daaruit handel te drijven. Kijk eens naar het plaatje hierboven. Het is een deel van Fort Batavia. Wat gebeurt er op dit plaatje?

Wat is jouw mening over J.P Coen?

Werkblad 8

(Bij bladzijde 25 t/m 28 van het lesboek)

De Nederlanders werden verbannen naar het eiland Deshima dat speciaal voor hen gebouwd was. Het leven op het veel te kleine eilandje werd hen niet makkelijk gemaakt. Waarom gingen de VOC dienaren niet gewoon naar huis?



Waarom moesten de Nederlanders van het vasteland af?

Wat is de belangrijkste produkt dat de VOC uit Japan haalde om in Nederland te verkopen?

Wat haalde de VOC ook al weer uit Japan om in Indië te verhandelen

Op de tekening hieronder zie je een Nederlandse koopman met zijn Indische bediende. De tekening is gemaakt door een Japanner. Wat kun je hieruit opmaken?



Werkblad 9

(Bij bladzijde 28 t/m 30 van het lesboek)

Waarom was het zo belangrijk dat de schippers precies wisten hoe diep het op een bepaald punt was.

Waarom werden de kaarten van de VOC handgemaakt?

De schippers van een VOC schip kregen ook *lege* kaarten mee, kun jij bedenken waarom dat was?

Dat was omdat:




Petrus Plancius. Plancius was een geograaf en gaf regelmatig advies aan de VOC

Werkblad 10

(Bij bladzijde 31 t/m 35 van het lesboek)

Zoals je wel hebt gelezen zijn er niet zoveel plaatjes bij de tekst over straffen te vinden. Het is jouw taak om in dit vak een tekening te maken van één van de genoemde straffen.



Werkblad 11

(Bij bladzijde 35 t/m 38 van het lesboek)

Je zult toch maar een zeeman geweest zijn aan boord van een VOC schip! Brr, bij een verkeerde behandeling van een klein wondje kon meteen je been eraf!! Hoe kwam dat eigenlijk? Waarom lieten de chirurgijns dit zover komen? Vertel eens...

Waarom werden de mensen aan boord zo snel ziek?



Hospitaal te Batavia



Aan boord waren ook passagiers en officieren. Denk je dat zij net zo snel ziek werden? Leg uit waarom je ja of nee hebt geantwoord. (Kijk eens hierboven. Het eten vliegt over de tafel als het schip plotseling erg schommelt. Kijk eens goed naar het voedsel en de mensen!)
