

Getallenlijn Kommagetallen

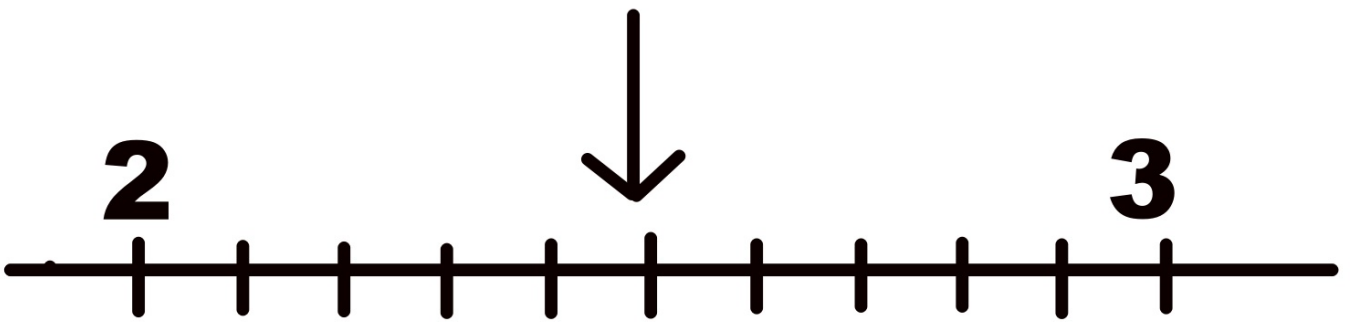
Groep 8

Je naam



1

Welk getal hoort bij de pijl?



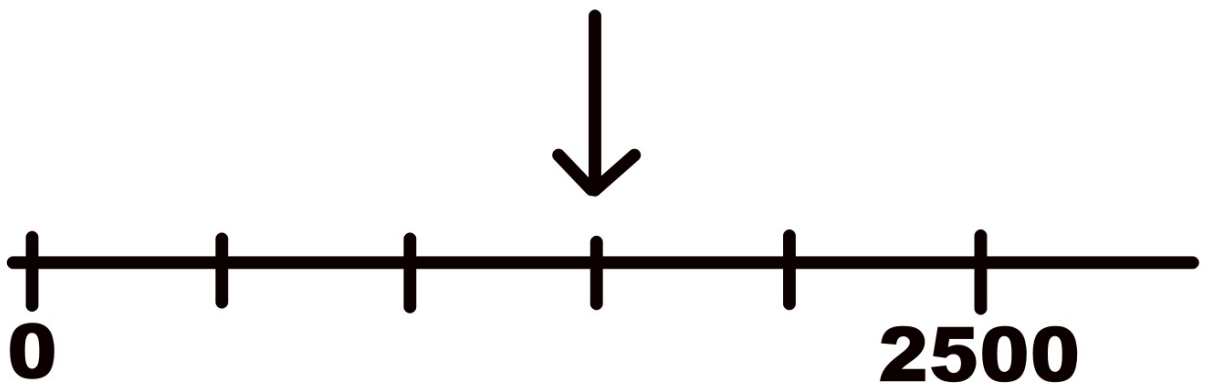
A 2,32

B 2,90

C 2,48

2

Welk getal hoort bij de pijl?



Dat is

3

Tel terug!

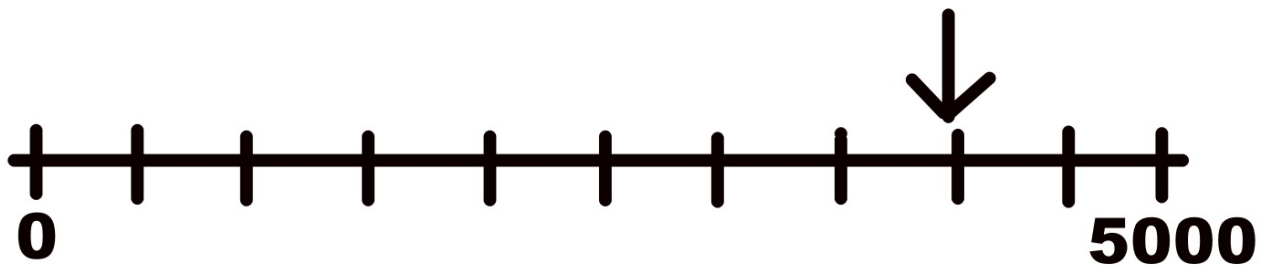
13000 - 12500 - 12000 - -

15750 - 15000 - 14250 - -

11000 - 10600 - 10200 - -

4

Welk getal hoort bij de plaats die de pijl aanwijst?



- A 499**
- B 1099**
- C 3999**
- D 4050**

5

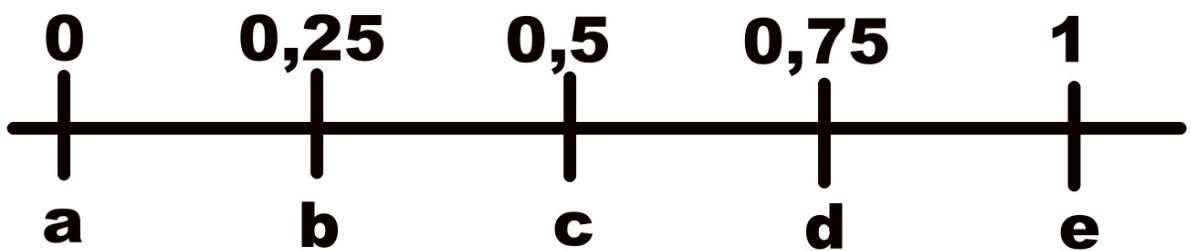
Langs de weg staat het bordje met daarop 10,2 km.



Na hoeveel kilometer komt het bordje 10,8 ? Na kilometer.

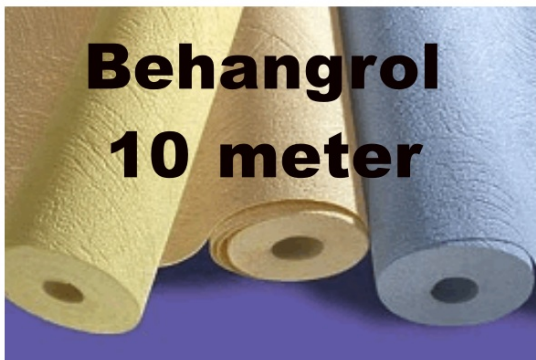
6

Waar ligt $\frac{6}{10}$ op de getallenlijn?



- A** tussen a en b
- B** tussen b en c
- C** tussen c en d
- D** tussen d en e

7




**Behangrol
10 meter**

**De muur van de kamer is 2,10 m
hoog.**

**Hoeveel hele banen kan ik uit
zo'n rol halen?**

..... banen.

8



Elke knikker is steeds 3 mm breder.


Hoe breed is de knikker met het vraagteken? mm

9



Mijn potlood is 15,6 cm lang.

**Na het slijpen is het
potlood nog maar
11,9 cm.**



**Hoeveel mm is het potlood
korter geworden? mm**

10



**Hoeveel geeft
de weegschaal
ongeveer aan?**

..... kg

Antwoorden

- | | |
|-----------------------------|-------------------|
| 1. C - 2,48 | 7. 4 banen |
| 2. 1500 | 8. 25 mm |
| 3. 11500 - 11000 | 9. 37 mm |
| 13500 - 12750 | 10. 45 kg |
| 9800 - 9400 | |
| 4. C - 3999 | |
| 5. 0,6 km | |
| 6. C - tussen c en d | |

