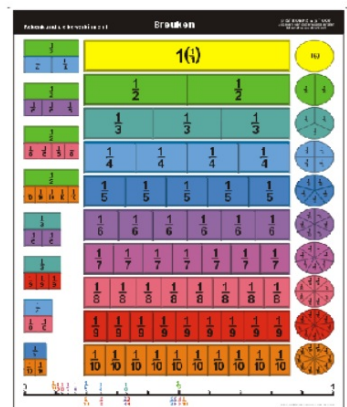


Breuken

Groep 8

Je naam



1

**De zeerovers
verdelen de ton
met goud.**



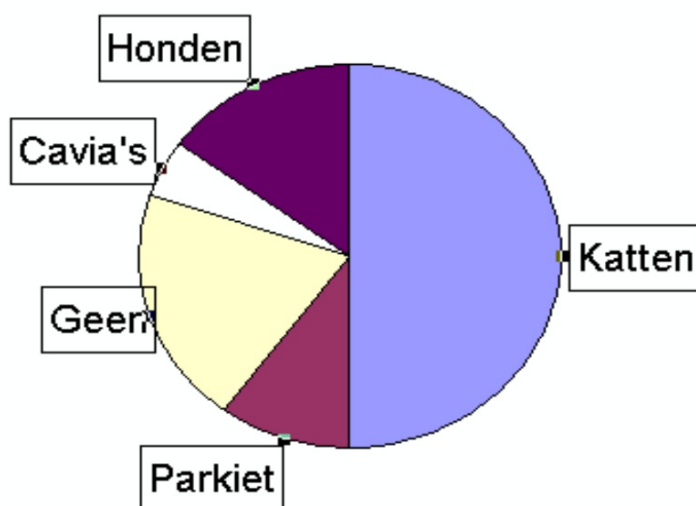
De kapitein krijgt $\frac{1}{4}$ deel.

Welk deel gaat naar de matrozen?

Dat is $\frac{3}{4}$ deel.

2

Huisdieren in de Groep



Welk deel van de groep heeft thuis katten ? Dat is $\frac{45}{100}$ deel.

3

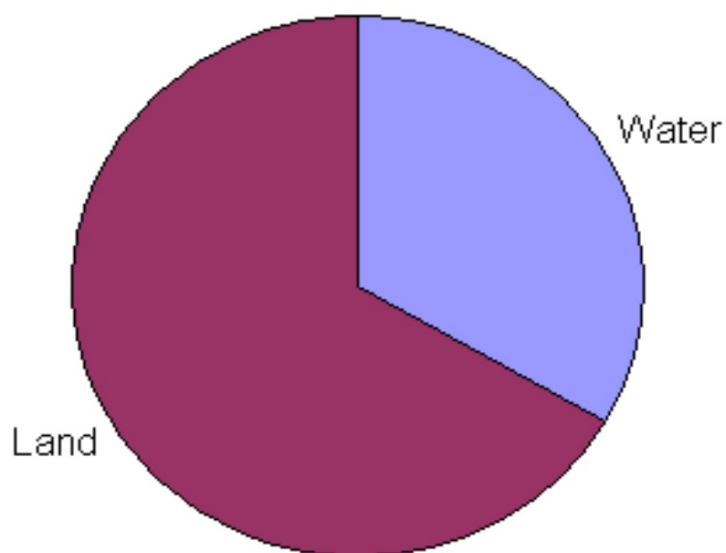


Bij Supermarkt "Bolderkolder" werden 14 van de 60 mensen ontslagen.

Dat is ongeveer $\frac{1}{4}$ deel van de mensen.

4

Friesland



$\frac{4}{10}$ deel van Friesland bestaat uit water.

Hoeveel procent is dat? %

5

$$\frac{4}{5}$$

$$\frac{2}{3}$$

$$\frac{1}{4}$$


$$\frac{1}{3}$$

$$\frac{4}{6}$$

**Welke van deze breuken zijn
groter dan $\frac{1}{2}$?**

Dat zijn en en

6



Appelsap bestaat voor $\frac{1}{4}$ deel uit echte sap.

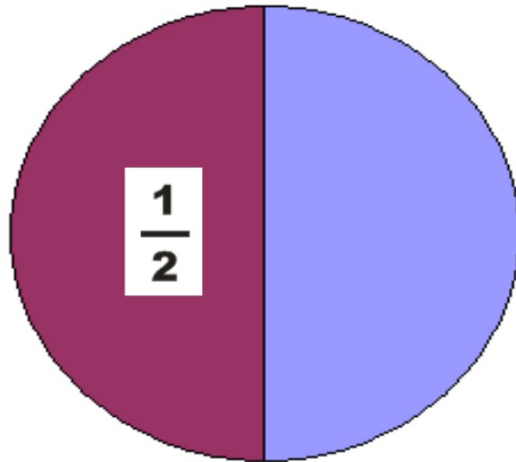


Perensap bestaat voor $\frac{3}{6}$ deel uit echte sap.

Welke drank bevat het meeste echte sap?

7

$\frac{1}{2}$ deel van de kinderen in onze klas heeft een huisdier.



Hoeveel procent is dat? %

8



Inge maakt limonade van sap en kraanwater.

Zij gebruikt $\frac{3}{4}$ liter limonade en $1\frac{1}{2}$ liter water.

Hoeveel liter limonade maakt Inge?

Dat is ... $\frac{\dots}{\dots}$ liter limonade.

9

**In het kookboek staat:
gebruik $\frac{2}{3}$ lepel vanillesuiker per
persoon.**



**Hoeveel lepels vanillesuiker heb ik
nodig voor 6 personen?**

Dat zijn lepels vanillesuiker.

Antwoorden

1. $\frac{3}{4}$

2. $\frac{1}{2}$

3. $\frac{1}{4}$

4. 40 %

5. $\frac{4}{5}$ $\frac{2}{3}$ $\frac{4}{6}$

6. perensap

7. 50 %

8. $2\frac{1}{4}$

9. 4

