

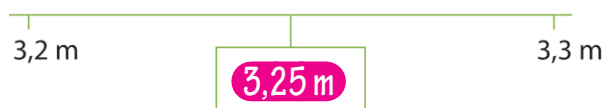




naam:

antwoorden

1 Welk getal ligt er precies tussenin?

€ 5,50	€ 5,60	€ 5,70
€ 18,96	€ 18,98	€ 19,00
€ 13,42	€ 13,43	€ 13,44
€ 48,40	€ 48,45	€ 48,50
€ 25,00	€ 25,05	€ 25,10



2 Reken uit.

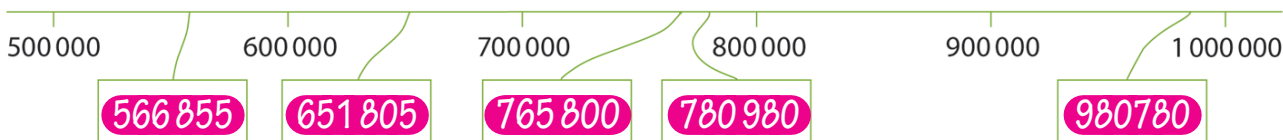
$\begin{array}{r} 63 \\ 7 \times \\ \hline 21 \\ 420 + \\ \hline 441 \end{array}$	$\begin{array}{r} 84 \\ 6 \times \\ \hline 24 \\ 480 + \\ \hline 504 \end{array}$	$\begin{array}{r} 128 \\ 5 \times \\ \hline 40 \\ 100 \\ 500 + \\ \hline 640 \end{array}$	$\begin{array}{r} 124 \\ 8 \times \\ \hline 32 \\ 160 \\ 800 + \\ \hline 992 \end{array}$	$\begin{array}{r} 239 \\ 4 \times \\ \hline 36 \\ 120 \\ 800 + \\ \hline 956 \end{array}$
---	---	---	---	---

3 Schrijf de getallen op de kaartjes.

a Kies uit: 945 300, 495 700, 801 800, 810 900, 845 600.



b Kies uit: 651 805, 566 855, 980 780, 780 980, 765 800.





naam:

antwoorden

4 Vul de tijden in.

$\overset{\curvearrowright}{+}$	0.10,00
0.57,45	1.07,45
2.18,09	2.28,09
3.16,99	3.26,99
7.12,76	7.22,76
14.34,25	14.44.25



$\overset{\curvearrowright}{+}$	1.00,00
0.47,38	1.47,38
6.37,02	7.37,02
3.54,99	4.54,99
10.33,54	11.33,54
18.24,09	19.24,09


5 Lees de afstanden en vul in.

	km	hm	dam	m
	37	7	5	0
	439	8	0	0

b Over hoeveel meter verspringt de dagteller naar 40 km? **2250 m**..c Over hoeveel meter verspringt de afstandteller naar 440 km? ... **200 m**...

d Wat is het verschil in afstand tussen de dagteller en de afstandteller?

km	hm	dam	m
402	0	5	0





naam:


antwoorden

6 Reken uit.

€ 89,69	€ 48,71	€ 99,05	€ 82,80	€ 76,43
€ 45,37 -	€ 29,36 -	€ 57,68 -	€ 37,45 -	€ 38,39 -
€ 44,32	€ 19,35	€ 41,37	€ 45,35	€ 38,04

7 Schrijf de getallen van klein naar groot.

453 109	542 901	453 119	542 991
453 109	453 119	542 901	542 991
801 778	810 887	811 607	801 877
801 778	801 887	810 877	811 607
626 754	622 457	262 422	266 768
262 422	266 768	622 457	626 754
990 623	909 667	909 772	990 667
909 667	909 772	990 623	990 667
567 900	576 709	657 580	675 890
567 900	576 709	657 580	675 890



8 Reken uit.

$$\frac{1}{5} \text{ liter} + \frac{1}{5} \text{ liter} = \frac{2}{5} \text{ liter}$$

$$\frac{1}{6} \text{ liter} + \frac{2}{6} \text{ liter} = \frac{3}{6} \text{ liter}$$

$$\frac{1}{3} \text{ liter} + \frac{1}{3} \text{ liter} = \frac{2}{3} \text{ liter}$$

$$\frac{3}{8} \text{ liter} + \frac{4}{8} \text{ liter} = \frac{7}{8} \text{ liter}$$

$$\frac{1}{5} \text{ liter} + \frac{4}{5} \text{ liter} = 1 \text{ liter}$$

$$1 \text{ liter} - \frac{1}{5} \text{ liter} = \frac{4}{5} \text{ liter}$$

$$1 \text{ liter} - \frac{4}{5} \text{ liter} = \frac{1}{5} \text{ liter}$$

$$1 \text{ liter} - \frac{2}{3} \text{ liter} = \frac{1}{3} \text{ liter}$$

$$1 \text{ liter} - \frac{3}{4} \text{ liter} = \frac{1}{4} \text{ liter}$$

$$1 \text{ liter} - \frac{3}{6} \text{ liter} = \frac{3}{6} \text{ liter}$$

