



naam: _____


groep: _____

1 Reken uit.

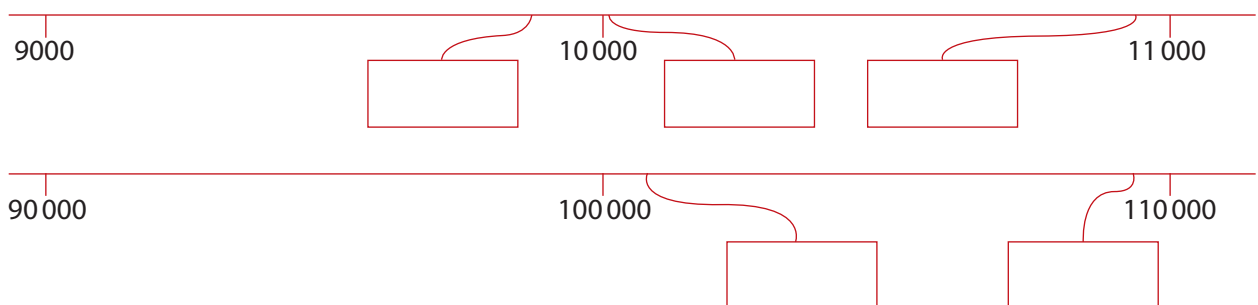
4 7 3 8	7 2 5 9	6 2 9 2	5 6 6 1	3 2 4 8
2 1 5 3 +	2 5 1 6 +	3 5 2 7 +	1 2 8 8 +	4 9 3 6 +
4 7 3 2	7 2 5 9	6 2 4 8	2 4 7 0	8 4 0 3
2 1 1 3 -	2 5 1 6 -	3 5 2 7 -	1 3 5 9 -	4 2 6 2 -

2 Zet een rondje om het grootste getal.

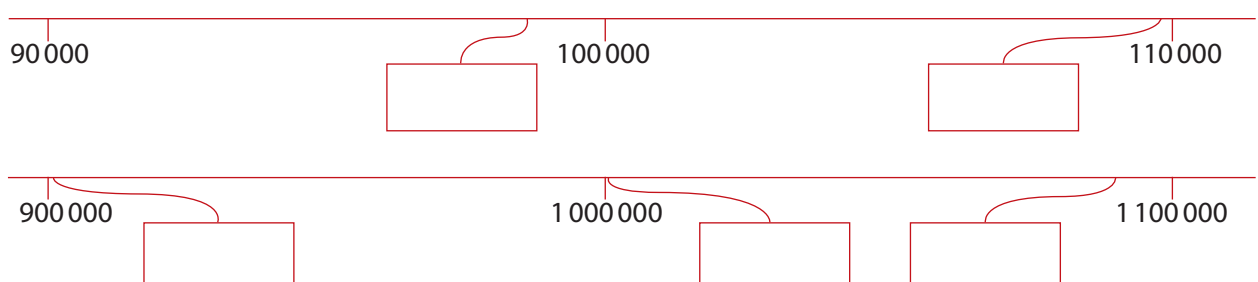
2,02 of 2,2	0,4 of 0,14	3,8 of 3,08	6,1 of 6,01	8,13 of 8,6
2,16 of 2,06	40,0 of 4,04	0,38 of 0,8	0,61 of 0,16	8,06 of 8

**3** Schrijf de getallen op de kaartjes.

a Kies uit: 9800, 10005, 100500, 109000, 10900.



b Kies uit: 98000, 109800, 900100, 1000005, 1090000.

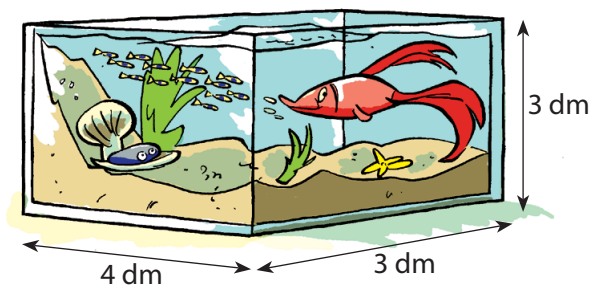




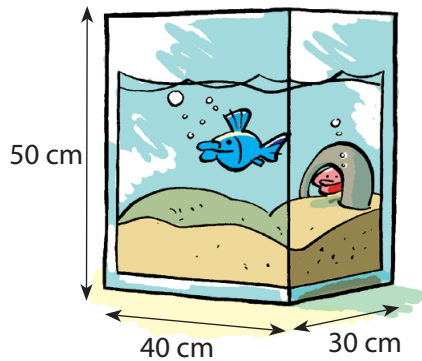
naam:

groep:

4 Reken uit.




a Hoeveel blokken van 1 dm^3 passen in dit aquarium? blokken

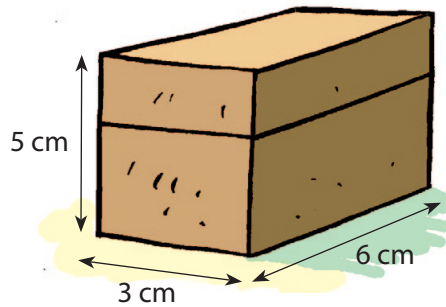


b Hoeveel blokken van 1 dm^3 passen in het aquarium? blokken

c De inhoud is dm^3 .



d Een judozaal is 7 m lang, 5 m breed en 3 m hoog. De inhoud van de zaal is m^3 .



e Een doosje is 6 cm lang, 3 cm breed en 5 cm hoog. De inhoud van het doosje is cm^3 .

5 Hoe groot zijn de campingvelden?

		bos				
					caravanterrein	
receptie		recreatie veld				
					tentenveld	
		zomerhuisje veld				
					trekkersveld	



Het bos is ha.
 Het caravanterrein is ha.
 Het tentenveld is ha.
 Het trekkersveld is ha.
 Het recreatieveld is ha.

1 dam = m
 1 hm = m
 1 km = m
 1 km = hm
 1 hm = dam



naam:

groep:

6 Reken uit.

6 5	5 7	4 6	3 4	9 3
<u> </u> 9 x	<u> </u> 5 x	<u> </u> 6 x	<u> </u> 8 x	<u> </u> 7 x

7 Welk getal?

a Omcirkel het grootste getal.

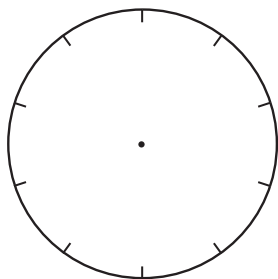
- 2,06 of 2,2
- 3,8 of 3,08
- 0,5 of 0,05
- 0,47 of 0,4
- 1,01 of 1,1



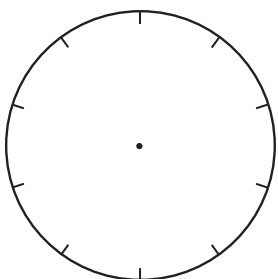
b Welk kommagetal ligt er precies tussenin?

0,6		0,8
2,4		2,8
0,3		0,4
6,9		7
23,5		24

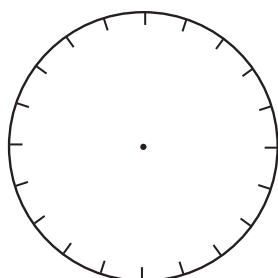
8 Maak de diagrammen af.



- 100 zwemmers
- 40 recreatiezwemmers
- 25 schoonspringers
- 20 waterpoloërs
- 15 duikers



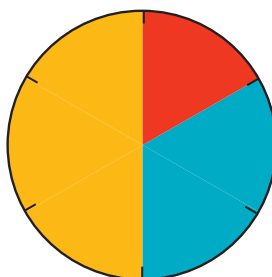
- 120 fietsers
- 36 wielrenners
- 12 mountainbikers
- 24 stunt bikers
- 48 crossfietsers



- 800 balsporters
- 400 voetballers
- 160 volleyballers
- 200 honkballers
- 40 basketballers



- 15 000 sporters
- 6 - 8 jaar: sporters
- 9 - 12 jaar: sporters
- 13 - 16 jaar: sporters
- 17 - 20 jaar: sporters



- 24 000 supporters
- volleybal: supporters
- voetbal: supporters
- schaatsen: supporters