


Procenten TIJD

Groep 7



Je naam

1

SPORTARTIKELEN NU 10% KORTING

Wat is de nieuwe prijs?



Oud € 10,-
Nieuw €



Oud € 15,-
Nieuw €



Oud € 20,-
Nieuw €



Oud € 5,-
Nieuw €



Oud € 1000,-
Nieuw €


2

In 2005 gingen 15000 Nederlanders op vakantie naar Egypte.

In 2006 gingen 10000 Nederlanders op vakantie naar Egypte.

Hoe groot is de daling?

- A ongeveer 13%**
- B ongeveer 33%**
- C ongeveer 53%**
- D ongeveer 100%**



3

Om een voldoende te halen op de Topotoets moet je 80% van de vragen goed hebben.



**De Topotoets heeft in totaal 40 vragen.
Hoeveel vragen moet je goed hebben om
een voldoende te halen ?**

Dat zijn vragen.

4

Nu of Nooit!
NU 25% KORTING

Hoeveel Euro korting krijg je?



Prijs € 20,-
Korting €



Prijs € 180,-
Korting €



Prijs € 10,-
Korting €

5


Vertrektijden naar Groningen	
	10.42
	11.02
	11.22
	11.42



**Jeroen wil met de bus naar Groningen.
Hoe lang moet hij nog wachten?
..... minuten.**



6




**Tijd in New York
is 04.05 uur.**

**In Nederland is het
dan zes uren later.**

Hoe laat is het dan in Nederland?

Dan is het

7



Begin van de volgende voorstelling.

"Het nu half zeven", zegt de meester.

Hoe lang duurt het nog voor de volgende voorstelling begint? minuten.

8

ALARM



Marco stelt het alarm in op 15 minuten over 7 's ochtends.

Wat moet het klokje dan aangeven?

..... (In 00:00 opschrijven)

9




Het is nu half vijf 's middags.

**Over hoeveel minuten vertrekt de trein
naar Tilburg?**

..... minuten.

10



Hoe laat is het op de klok?

- A 23 minuten over 9**
- B 9 minuten over 11**
- C 23 minuten voor 9**
- D 23 minuten voor 10**

11



**In oktober 2007 moest Geito naar de orthodontist.
Hij moet over een half jaar terugkomen voor controle.**

Wanneer is dat?

..... (Schrijf ook het jaar erbij).

12

1 minuut is seconden

1 $\frac{1}{2}$ minuut is seconden

5 minuten is seconden

4 $\frac{1}{2}$ minuut is seconden

13



Hoe laat is het op de klok?

- A 3 minuten voor 3**
- B 17 minuten voor 3**
- C 17 minuten over 3**
- D 3 minuten over 3**

14



Groot feest 15 mei.

In welk kwartaal valt 15 mei?

- A in het eerste kwartaal**
- B in het tweede kwartaal**
- C in het derde kwartaal**
- D in het vierde kwartaal**

15

Antwoorden

- 1 € 9,- / € 13,50 / € 18,- / € 4,50 / € 900,-
- 2 B (ongeveer 33%)
- 3 32 vragen
- 4 € 20,- / € 180,- / € 10,- / € 5,- / € 45,- / € 2,50
- 5 17 minuten
- 6 10.05 uur
- 7 40 minuten
- 8 07:15
- 9 49 minuten
- 10 A (23 minuten over 9)
- 11 april 2008
- 12 60 sec - 90 sec - 300 sec - 270 sec
- 13 C (17 minuten over 3)
- 14 B (in het tweede kwartaal)

