


VERHAAL



SOMMEN



Tafelboekje van:

Verhaaltjessommen



Lees de verhaaltjes en reken de sommen uit.
Maak een tekening bij de som of schrijf de som op.

1. Aan één fiets zitten 2 wielen.

Hoeveel wielen zitten er aan 6 fietsen? _____ wielen

2. Er zijn 9 munten van €2.

Hoeveel euro is dat in totaal? _____ euro

3. In een zakje zitten 2 knikkers.

Hoeveel knikkers zitten er in 7 zakjes? _____ knikkers

4. Ieder kind krijgt 2 papieren.

Hoeveel papieren krijgen 4 kinderen samen? _____ papieren

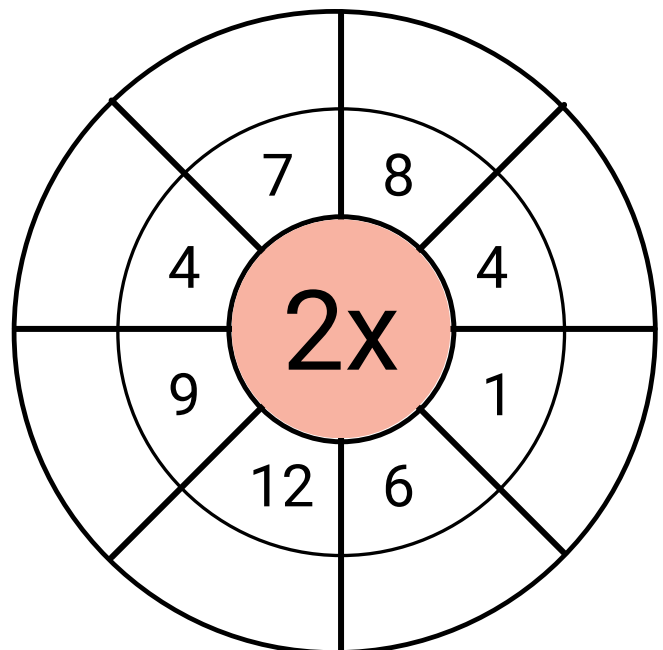
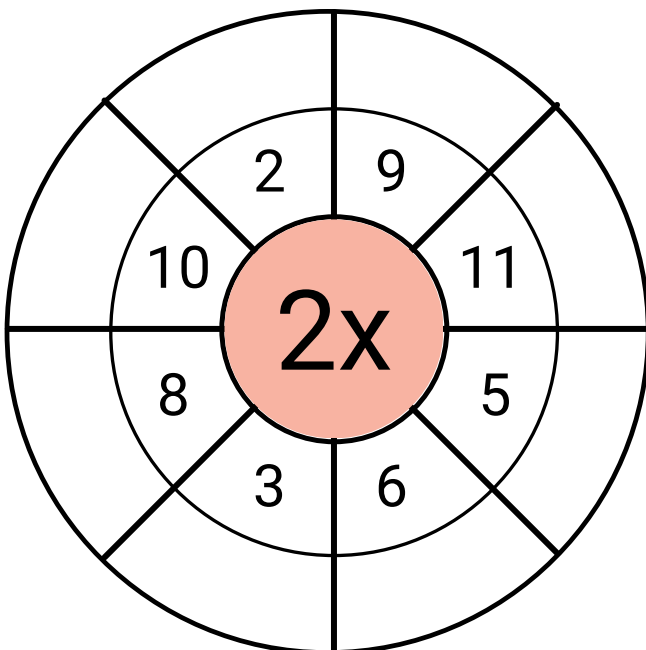
Geheime tekening

8x2	9x2	10x2	6x2	9x2	10x2	8x2
10x2	8x2	3x2	7x2	7x2	8x2	9x2
9x2	10x2	4x2	6x2	7x2	6x2	10x2
8x2	9x2	5x2	3x2	10x2	9x2	8x2
10x2	8x2	5x2	7x2	8x2	10x2	9x2
8x2	9x2	10x2	4x2	9x2	8x2	10x2
5x2	6x2	3x2	6x2	10x2	9x2	8x2
9x2	4x2	6x2	5x2	9x2	10x2	8x2
0x2	7x2	1x2	7x2	2x2	0x2	2x2
2x2	5x2	0x2	3x2	1x2	2x2	0x2

Antwoord	Kleur
0 tot en met 4	groen
5 tot en met 10	bruin
11 tot en met 15	geel
16 tot en met 20	blauw



Tafel van 2 rad



De tafel van 2

Reken de sommen uit.



$1 \times 2 =$

$2 \times 2 =$

$3 \times 2 =$

$4 \times 2 =$

$5 \times 2 =$

$6 \times 2 =$

$7 \times 2 =$

$8 \times 2 =$

$9 \times 2 =$

$10 \times 2 =$

$3 \times 2 =$

$2 \times 2 =$

$8 \times 2 =$

$7 \times 2 =$

$7 \times 2 =$

$1 \times 2 =$

$4 \times 2 =$

$10 \times 2 =$

$5 \times 2 =$

$7 \times 2 =$

$1 \times 2 =$

$9 \times 2 =$

$2 \times 2 =$

$8 \times 2 =$

$3 \times 2 =$

$7 \times 2 =$

$4 \times 2 =$

$6 \times 2 =$

$5 \times 2 =$

$5 \times 2 =$

$2 \times 2 =$

$9 \times 2 =$

$8 \times 2 =$

$8 \times 2 =$

$1 \times 2 =$

$5 \times 2 =$

$5 \times 2 =$

$7 \times 2 =$

$6 \times 2 =$

$3 \times 2 =$

$6 \times 2 =$

$3 \times 2 =$

$7 \times 2 =$

$4 \times 2 =$

$8 \times 2 =$

Rekenzoeker



Zoek en omcirkel keersommen van de tafel van 2.
Schrijf ze in de tabel.

12	2	24	6	8	3	2	6
2	15	9	8	2	2	12	10
9	1 x 2 = 2	16	4	5	21		
10	13	18	17	30	2	32	18
2	11	2	22	2	8	7	9
5	3	12	10	2	20	18	14
2	8	15	18	4	2	7	2
0	6	2	12	2	3	10	7

1 x 2 = 2	

Kleurplaat tafel van 2




Welke kleur hoort bij het antwoord?

Reken uit en kleur in. Ben je klaar?

Ga dan naar www.verhaalsommen.nl


Speel het leuke rekenspelletje **Sommen en kleuren!**



Reken uit

Hoeveel euro kost het samen?

Schrijf de keersom en het antwoord op.




Keersom: $4 \times 2 =$ _____

Antwoord: _____ euro



Keersom: _____

Antwoord: _____ euro



Keersom: _____


Antwoord: _____ euro

Vul de tabel in



Vul de tabel in.

Denk aan de tafel van 2.



Step	1	2	4	6
Wielen	2			



Bakje	1	3	5	7
Pennen	2			

Reken uit

$2 \times 2 =$

$9 \times 2 =$

$8 \times 2 =$

$7 \times 2 =$

$1 \times 2 =$

$5 \times 2 =$

$4 \times 2 =$

$7 \times 2 =$

$6 \times 2 =$

$3 \times 2 =$

$6 \times 2 =$

$3 \times 2 =$

$7 \times 2 =$

$4 \times 2 =$

$8 \times 2 =$

Doolhof



Kleur de keersommen die goed zijn.
Vind zo een weg door het doolhof.

$4 \times 2 = 6$	$3 \times 2 = 6$	$10 \times 2 = 20$	$8 \times 2 = 16$	$12 \times 2 = 24$	$10 \times 2 = 2$
$8 \times 2 = 12$	$11 \times 2 = 24$	$3 \times 2 = 5$	$1 \times 2 = 1$	$5 \times 2 = 10$	$6 \times 2 = 12$
$9 \times 2 = 16$	$6 \times 2 = 10$	$4 \times 2 = 10$	$2 \times 2 = 6$	$5 \times 2 = 12$	$7 \times 2 = 14$
$8 \times 2 = 17$	$6 \times 2 = 12$	$4 \times 2 = 8$	$2 \times 2 = 4$	$1 \times 2 = 2$	$9 \times 2 = 18$
$9 \times 2 = 19$	$9 \times 2 = 18$	$10 \times 2 = 2$	$1 \times 2 = 4$	$8 \times 2 = 12$	$2 \times 2 = 6$
$1 \times 2 = 2$	$11 \times 2 = 22$	$7 \times 2 = 13$	$3 \times 2 = 5$	$4 \times 2 = 9$	$6 \times 2 = 14$
$8 \times 2 = 16$	$5 \times 2 = 20$	$10 \times 2 = 10$	$11 \times 2 = 24$	$12 \times 2 = 22$	$3 \times 2 = 3$
$10 \times 2 = 20$	$9 \times 2 = 18$	$7 \times 2 = 14$	$7 \times 2 = 15$	$4 \times 2 = 6$	$6 \times 2 = 11$
$9 \times 2 = 19$	$2 \times 2 = 6$	$5 \times 2 = 10$	$1 \times 2 = 3$	$8 \times 2 = 15$	$8 \times 2 = 18$
$6 \times 2 = 12$	$1 \times 2 = 2$	$2 \times 2 = 4$	$10 \times 2 = 22$	$5 \times 2 = 7$	$11 \times 2 = 21$
$4 \times 2 = 8$	$4 \times 2 = 6$	$6 \times 2 = 11$	$7 \times 2 = 13$	$8 \times 2 = 18$	$9 \times 2 = 19$
$12 \times 2 = 24$	$1 \times 2 = 3$	$3 \times 2 = 5$	$5 \times 2 = 11$	$10 \times 2 = 10$	$11 \times 2 = 21$
$3 \times 2 = 6$	$2 \times 2 = 4$	$9 \times 2 = 18$	$7 \times 2 = 14$	$6 \times 2 = 12$	$8 \times 2 = 18$
$9 \times 2 = 19$	$7 \times 2 = 12$	$6 \times 2 = 14$	$5 \times 2 = 7$	$8 \times 2 = 16$	$9 \times 2 = 16$

Eind

Teken het verhaal

Bedenk een verhaal bij de som en reken de som uit.

Je mag het verhaal tekenen of schrijven.



$$6 \times 2 =$$

$$4 \times 2 =$$

$$9 \times 2 =$$

$$7 \times 2 =$$

Tafel tijd

Zet een timer op 2 minuten.
Hoeveel sommen kan jij maken?
Zet een streep tot waar je komt.



$9 \times 2 =$

$5 \times 2 =$

$9 \times 2 =$

$2 \times 2 =$

$2 \times 2 =$

$2 \times 2 =$

$8 \times 2 =$

$9 \times 2 =$

$7 \times 2 =$

$4 \times 2 =$

$8 \times 2 =$

$6 \times 2 =$

$3 \times 2 =$

$7 \times 2 =$

$3 \times 2 =$

$1 \times 2 =$

$3 \times 2 =$

$1 \times 2 =$

$10 \times 2 =$

$5 \times 2 =$

$3 \times 2 =$

$7 \times 2 =$

$10 \times 2 =$

$5 \times 2 =$

$5 \times 2 =$

$6 \times 2 =$

$7 \times 2 =$

$3 \times 2 =$

$7 \times 2 =$

$9 \times 2 =$

$7 \times 2 =$

$2 \times 2 =$

$2 \times 2 =$

$9 \times 2 =$

$3 \times 2 =$

$4 \times 2 =$

$6 \times 2 =$

$4 \times 2 =$

$6 \times 2 =$

$4 \times 2 =$

$5 \times 2 =$

$8 \times 2 =$

$2 \times 2 =$


$6 \times 2 =$


$10 \times 2 =$


Vleksommen


Flip heeft inkt geknoeid.


Reken de sommen uit.





 $x 2 = 20$


 $x 2 = 16$


 $x 2 = 16$


 $x 2 = 2$


 $x 2 = 6$


 $x 2 = 10$


 $x 2 = 18$

 $x 2 = 14$

 $x 2 = 22$

 $x 2 = 4$

 $x 2 = 24$

 $x 2 = 8$

Tel met sprongen van 2



6



18



22



40

Verhaaltjessommen



Lees de verhaaltjes en reken de sommen uit.

Maak een tekening bij de som of schrijf de som op.

1. Aan één fiets zitten 2 wielen.

Hoeveel wielen zitten er aan 6 fietsen? 12 wielen



2. Er zijn 9 munten van €2.

Hoeveel euro is dat in totaal? 18 euro



3. In een zakje zitten 2 knikkers.

Hoeveel knikkers zitten er in 7 zakjes? 14 knikkers



4. Ieder kind krijgt 2 papieren.

Hoeveel papieren krijgen 4 kinderen samen? 8 papieren



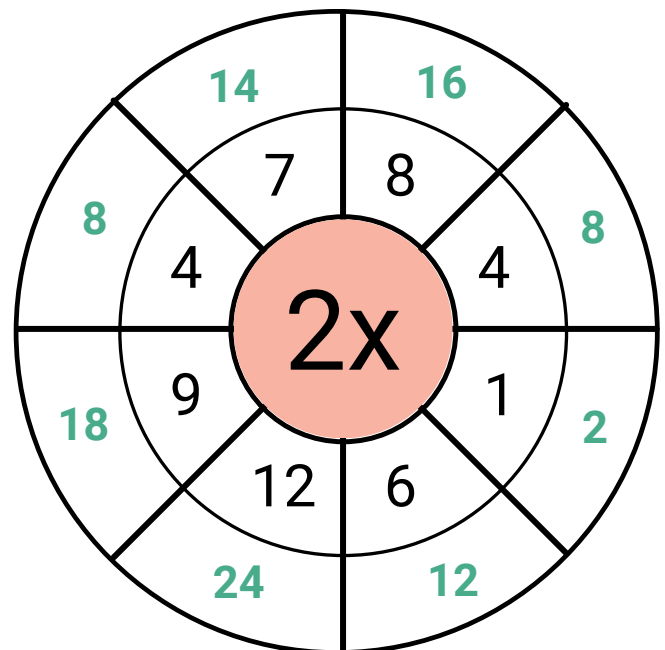
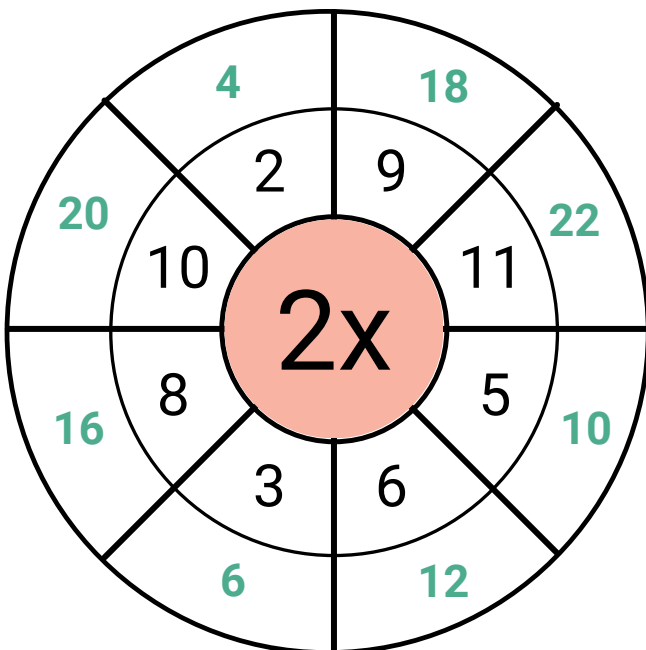
Geheime tekening

8x2	9x2	10x2	6x2	9x2	10x2	8x2
10x2	8x2	3x2	7x2	7x2	8x2	9x2
9x2	10x2	4x2	6x2	7x2	6x2	10x2
8x2	9x2	5x2	3x2	10x2	9x2	8x2
10x2	8x2	5x2	7x2	8x2	10x2	9x2
8x2	9x2	10x2	4x2	9x2	8x2	10x2
5x2	6x2	3x2	6x2	10x2	9x2	8x2
9x2	4x2	6x2	5x2	9x2	10x2	8x2
0x2	7x2	1x2	7x2	2x2	0x2	2x2
2x2	5x2	0x2	3x2	1x2	2x2	0x2

Antwoord	Kleur
0 tot en met 4	groen
5 tot en met 10	bruin
11 tot en met 15	geel
16 tot en met 20	blauw



Tafel van 2 rad



De tafel van 2

Reken de sommen uit.



$1 \times 2 = 2$

$2 \times 2 = 4$

$3 \times 2 = 6$

$4 \times 2 = 8$

$5 \times 2 = 10$

$6 \times 2 = 12$

$7 \times 2 = 14$

$8 \times 2 = 16$

$9 \times 2 = 18$

$10 \times 2 = 20$

$3 \times 2 = 6$

$2 \times 2 = 4$

$8 \times 2 = 16$

$7 \times 2 = 14$

$7 \times 2 = 14$

$1 \times 2 = 2$

$4 \times 2 = 8$

$10 \times 2 = 20$

$5 \times 2 = 10$

$7 \times 2 = 14$

$5 \times 2 = 10$

$5 \times 2 = 10$

$7 \times 2 = 14$

$6 \times 2 = 12$

$3 \times 2 = 6$

$1 \times 2 = 2$

$9 \times 2 = 18$

$2 \times 2 = 4$

$8 \times 2 = 16$

$3 \times 2 = 6$

$7 \times 2 = 14$

$4 \times 2 = 8$

$6 \times 2 = 12$

$5 \times 2 = 10$

$5 \times 2 = 10$

$6 \times 2 = 12$

$3 \times 2 = 6$

$7 \times 2 = 14$

$4 \times 2 = 8$

$8 \times 2 = 16$

Rekenzoeker



Zoek en omcirkel keersommen van de tafel van 2.
Schrijf ze in de tabel.

$12 \times 2 = 24$	6	$8 \times 2 = 16$	$3 \times 2 = 6$
2	15	9	8
9	$1 \times 2 = 2$	2	2
10	13	18	17
$2 \times 5 = 10$	$11 \times 2 = 22$	30	4
5	3	12	2
2	8	15	18
0	$6 \times 2 = 12$	18	7
		2	3
		4	10
		2	7
		2	14

$1 \times 2 = 2$	$7 \times 2 = 14$
$2 \times 2 = 4$	$8 \times 2 = 16$
$3 \times 2 = 6$	$9 \times 2 = 18$
$4 \times 2 = 8$	$10 \times 2 = 20$
$5 \times 2 = 10$	$11 \times 2 = 22$
$6 \times 2 = 12$	$12 \times 2 = 24$

Kleurplaat tafel van 2




Welke kleur hoort bij het antwoord?

Reken uit en kleur in. Ben je klaar?

Ga dan naar www.verhaalsommen.nl

Speel het leuke rekenspelletje **Sommen en kleuren!**



Reken uit

Hoeveel euro kost het samen?

Schrijf de keersom en het antwoord op.



Keersom: $4 \times 2 =$ _____

Antwoord: **8** _____ euro



Keersom: $5 \times 2 =$ _____

Antwoord: **10** _____ euro



Keersom: $6 \times 2 =$ _____

Antwoord: **12** _____ euro

Vul de tabel in



Vul de tabel in.

Denk aan de tafel van 2.



Step	1	2	4	6
Wielen	2	4	8	12



Bakje	1	3	5	7
Pennen	2	6	10	14

Reken uit

$2 \times 2 = 4$

$9 \times 2 = 18$

$8 \times 2 = 16$

$7 \times 2 = 14$

$1 \times 2 = 2$

$5 \times 2 = 10$

$4 \times 2 = 8$

$7 \times 2 = 14$

$6 \times 2 = 12$

$3 \times 2 = 6$

$6 \times 2 = 12$

$3 \times 2 = 6$

$7 \times 2 = 14$

$4 \times 2 = 8$

$8 \times 2 = 16$

Doolhof



Kleur de keersommen die goed zijn.
Vind zo een weg door het doolhof.

start					
$4 \times 2 = 6$	$3 \times 2 = 6$	$10 \times 2 = 20$	$8 \times 2 = 16$	$12 \times 2 = 24$	$10 \times 2 = 2$
$8 \times 2 = 12$	$11 \times 2 = 24$	$3 \times 2 = 5$	$1 \times 2 = 1$	$5 \times 2 = 10$	$6 \times 2 = 12$
$9 \times 2 = 16$	$6 \times 2 = 10$	$4 \times 2 = 10$	$2 \times 2 = 6$	$5 \times 2 = 12$	$7 \times 2 = 14$
$8 \times 2 = 17$	$6 \times 2 = 12$	$4 \times 2 = 8$	$2 \times 2 = 4$	$1 \times 2 = 2$	$9 \times 2 = 18$
$9 \times 2 = 19$	$9 \times 2 = 18$	$10 \times 2 = 2$	$1 \times 2 = 4$	$8 \times 2 = 12$	$2 \times 2 = 6$
$1 \times 2 = 2$	$11 \times 2 = 22$	$7 \times 2 = 13$	$3 \times 2 = 5$	$4 \times 2 = 9$	$6 \times 2 = 14$
$8 \times 2 = 16$	$5 \times 2 = 20$	$10 \times 2 = 10$	$11 \times 2 = 24$	$12 \times 2 = 22$	$3 \times 2 = 3$
$10 \times 2 = 20$	$9 \times 2 = 18$	$7 \times 2 = 14$	$7 \times 2 = 15$	$4 \times 2 = 6$	$6 \times 2 = 11$
$9 \times 2 = 19$	$2 \times 2 = 6$	$5 \times 2 = 10$	$1 \times 2 = 3$	$8 \times 2 = 15$	$8 \times 2 = 18$
$6 \times 2 = 12$	$1 \times 2 = 2$	$2 \times 2 = 4$	$10 \times 2 = 22$	$5 \times 2 = 7$	$11 \times 2 = 21$
$4 \times 2 = 8$	$4 \times 2 = 6$	$6 \times 2 = 11$	$7 \times 2 = 13$	$8 \times 2 = 18$	$9 \times 2 = 19$
$12 \times 2 = 24$	$1 \times 2 = 3$	$3 \times 2 = 5$	$5 \times 2 = 11$	$10 \times 2 = 10$	$11 \times 2 = 21$
$3 \times 2 = 6$	$2 \times 2 = 4$	$9 \times 2 = 18$	$7 \times 2 = 14$	$6 \times 2 = 12$	$8 \times 2 = 18$
$9 \times 2 = 19$	$7 \times 2 = 12$	$6 \times 2 = 14$	$5 \times 2 = 7$	$8 \times 2 = 16$	$9 \times 2 = 16$

Eind

Teken het verhaal

Bedenk een verhaal bij de som en reken de som uit.

Je mag het verhaal tekenen of schrijven.



$$6 \times 2 = 12$$



$$4 \times 2 = 8$$



$$9 \times 2 = 18$$



$$7 \times 2 = 14$$



Tafel tijd

Zet een timer op 2 minuten.
Hoeveel sommen kan jij maken?
Zet een streep tot waar je komt.



$9 \times 2 = 18$

$2 \times 2 = 4$

$8 \times 2 = 16$

$4 \times 2 = 8$

$3 \times 2 = 6$

$1 \times 2 = 2$

$10 \times 2 = 20$

$7 \times 2 = 14$

$5 \times 2 = 10$

$3 \times 2 = 6$

$7 \times 2 = 14$

$9 \times 2 = 18$

$6 \times 2 = 12$

$4 \times 2 = 8$

$2 \times 2 = 4$

$5 \times 2 = 10$

$2 \times 2 = 4$

$9 \times 2 = 18$

$8 \times 2 = 16$

$7 \times 2 = 14$

$3 \times 2 = 6$

$5 \times 2 = 10$

$10 \times 2 = 20$

$6 \times 2 = 12$

$7 \times 2 = 14$

$2 \times 2 = 4$

$3 \times 2 = 6$

$4 \times 2 = 8$

$5 \times 2 = 10$

$6 \times 2 = 12$

$9 \times 2 = 18$

$2 \times 2 = 4$

$7 \times 2 = 14$

$6 \times 2 = 12$

$3 \times 2 = 6$

$1 \times 2 = 2$

$3 \times 2 = 6$

$5 \times 2 = 10$

$7 \times 2 = 14$

$9 \times 2 = 18$

$2 \times 2 = 4$

$4 \times 2 = 8$

$6 \times 2 = 12$


$8 \times 2 = 16$


$10 \times 2 = 20$


Vleksommen


Flip heeft inkt geknoeid.


Reken de sommen uit.

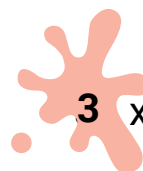



 $10 \times 2 = 20$


 $8 \times 2 = 16$


 $8 \times 2 = 16$


 $1 \times 2 = 2$


 $3 \times 2 = 6$


 $5 \times 2 = 10$


 $9 \times 2 = 18$

 $7 \times 2 = 14$

 $11 \times 2 = 22$

 $2 \times 2 = 4$

 $12 \times 2 = 24$

 $4 \times 2 = 8$

Tel met sprongen van 2



2



4



6



8



10



12



14



16



18



20



22



24



26



28



30



32



34



36



38



40