

Getallenlijn

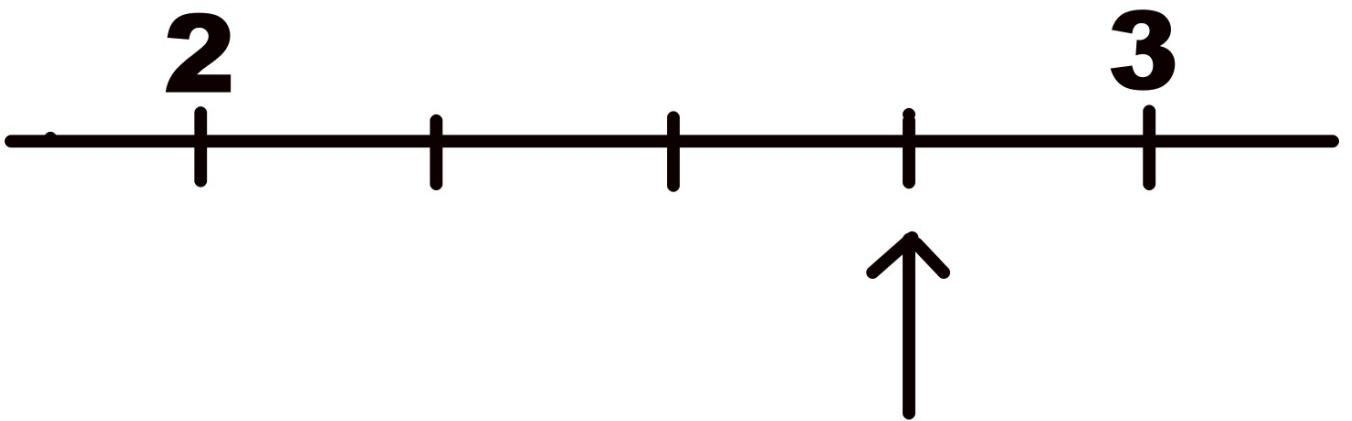
Groep 8

Van



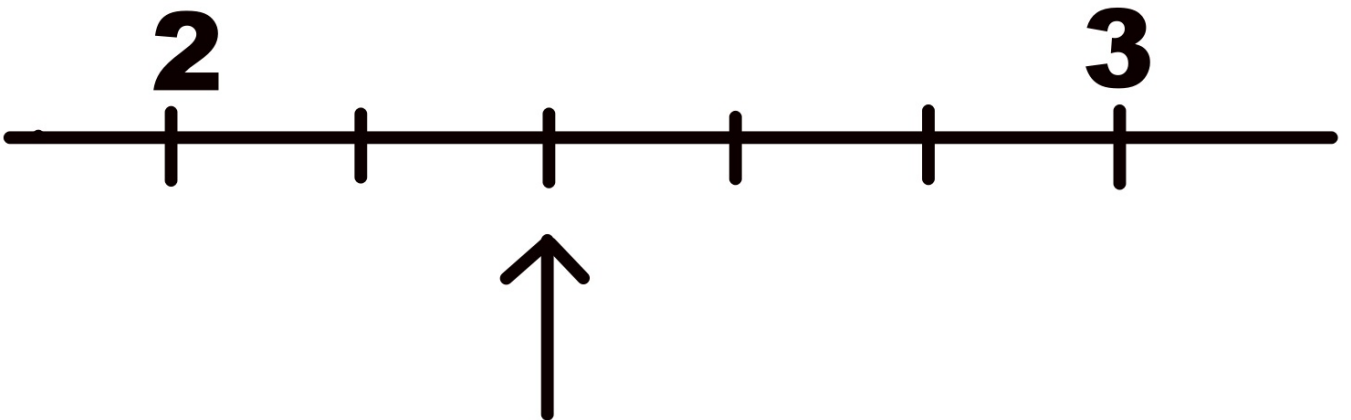
1

Welk kommagetal hoort bij de pijl?



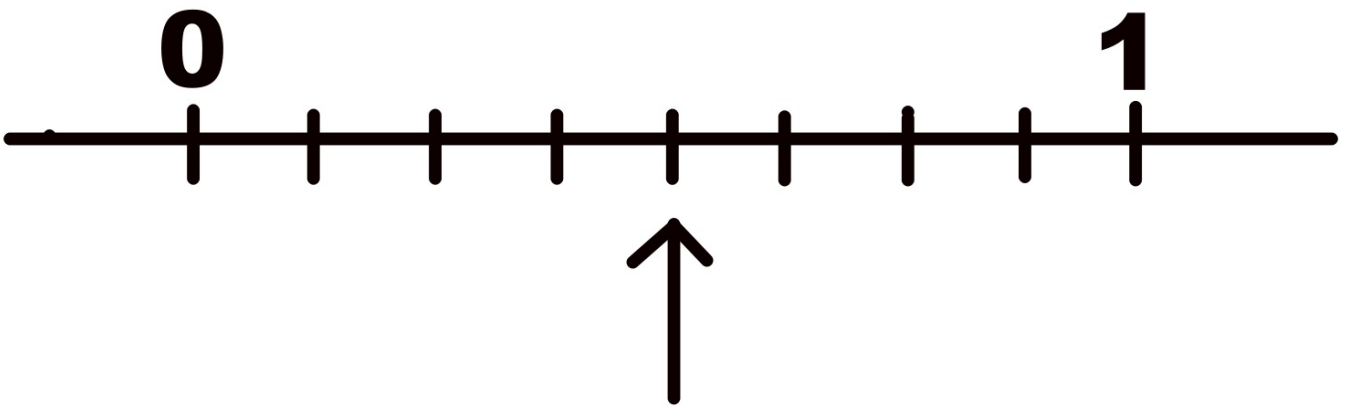
2

Welk kommagetal hoort bij de pijl?



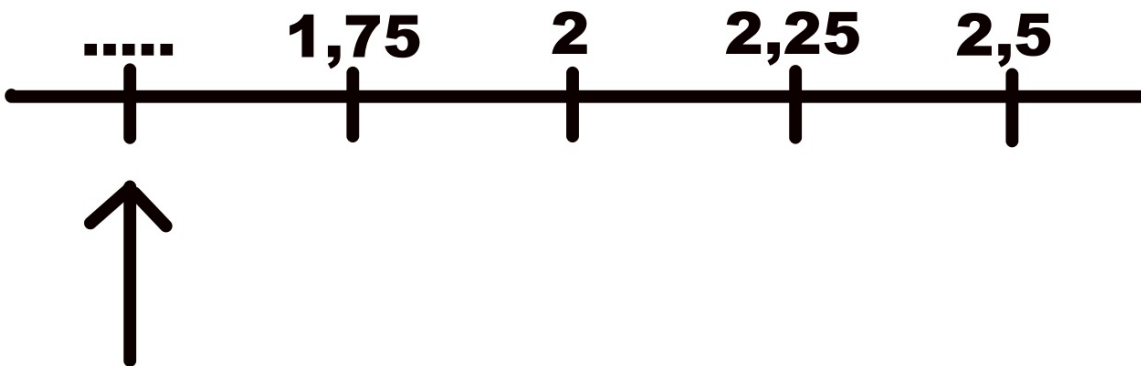
3

Welk kommagetal hoort bij de pijl?



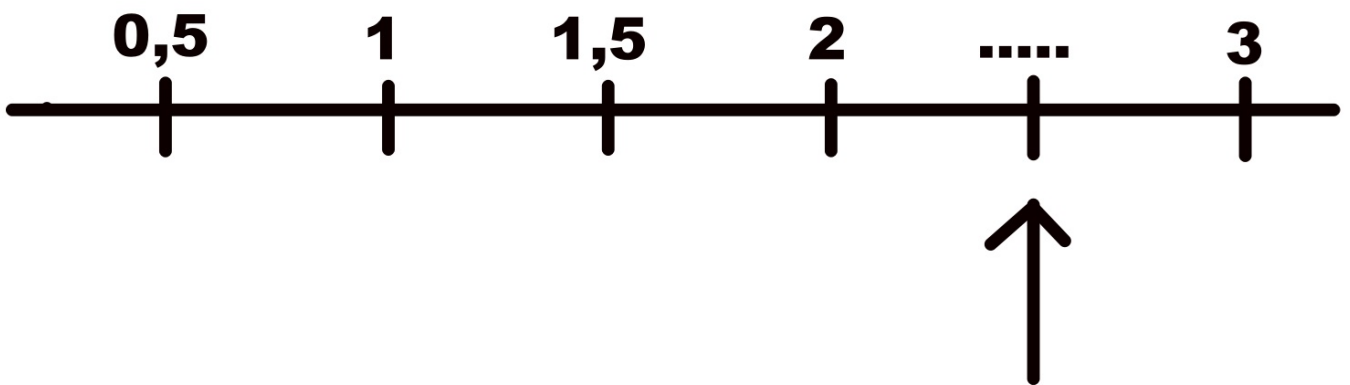
4

Welk getal hoort bij de pijl?



5

Welk getal hoort bij de pijl?



6 Reken de sommen uit in het schema

D	H	T	E	t	h	d

$$5,4 - 3,2 =$$

$$3,2 - 1,04 =$$

$$2,3 - 0,09 =$$

$$14,5 - 2,007 =$$

7

Zet de getallen in het schema

D	H	T	E	t	h	d

0,1 - 0,008 - 0,08 - 0,3

Welk getal heeft de kleinste waarde?

8 Zet de getallen in het schema.
Tel ze op.

D	H	T	E	t	h	d

0,03 **75** **0,005**

3,5 **2**

9

**Zet de getallen in het schema.
Tel ze op.**

D	H	T	E	t	h	d

25,301

12,34

1345,56

10

Zet de getallen in het schema.

Trek ze af.

D	H	T	E	t	h	d

$$756,2 - 14,56$$
$$1012,24 - 56,3$$

11

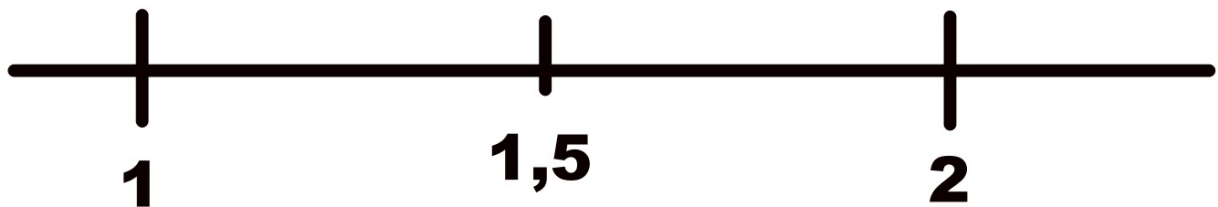
**Welk getal ligt
het dichtste bij 1,5 ?**

A - 1,2

B - 1,45

C - 1,51

D - 1,6



12

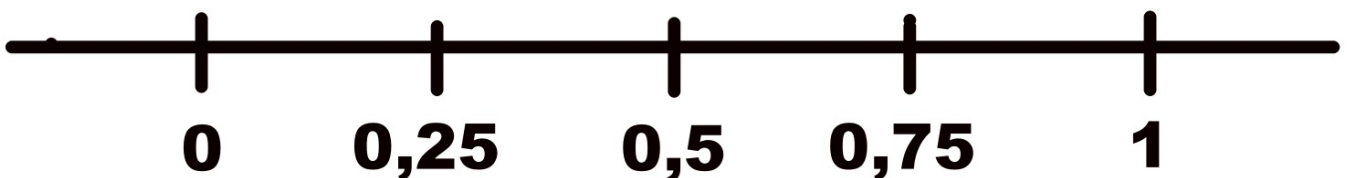
Waar ligt $\frac{2}{4}$ op de getallenlijn?



Waar ligt $\frac{2}{5}$ op de getallenlijn?



Waar ligt $\frac{5}{8}$ op de getallenlijn?



Bijlage: - Extra schema's

D	H	T	E	t	h	d

D	H	T	E	t	h	d

D	H	T	E	t	h	d

D	H	T	E	t	h	d

Bijlage: - Extra schema's

D	H	T	E	t	h	d

D	H	T	E	t	h	d

D	H	T	E	t	h	d

D	H	T	E	t	h	d

Antwoorden:

- | | |
|--------------------------------------|-------------------------------|
| 1. 2,75 | 9. 1383,201 |
| 2. 2,4 | 10. 741,64 |
| 3. 0,5 | 11. 1,51 |
| 4. 1,5 of 1,50 | 12. volgende bladzijde |
| 5. 2,5 | |
| 6. 2,2 - 2,16 - 2,21 - 12,493 | |
| 7. 0,008 | |
| 8. 80,535 | |

Antwoorden:

Waar ligt $\frac{2}{4}$ op de getallenlijn?

Waar ligt $\frac{2}{5}$ op de getallenlijn?

Waar ligt $\frac{5}{8}$ op de getallenlijn?

