

VERHAAL SOMMEN




Werkboekje van:

Geheime tekening

Reken de verhaaltjessommen uit.

Omcirkel eerst het goede antwoord.

Geef daarna de letter van de vraag de goede kleur.



A	B	G	G	J	J	B	A	J	A	G	J	J	B	A	G	J	G
C	H	G	G	J	G	B	G	J	J	B	A	J	B	G	B	G	J
H	C	H	J	I	F	J	O	F	B	G	G	B	G	C	H	G	A
C	H	B	A	O	C	O	H	C	O	J	A	G	H	H	C	C	J
G	J	B	J	F	H	H	F	H	C	O	G	A	J	C	H	J	B
B	A	J	A	B	O	C	H	O	C	H	F	J	B	B	B	B	A
J	G	A	G	G	J	O	O	O	I	I	I	O	A	A	G	J	G
A	J	B	G	J	O	I	M	O	K	I	M	M	O	B	G	B	B
B	A	A	J	O	D	O	M	F	D	O	K	M	M	O	A	G	J
B	J	J	O	I	K	O	D	F	K	O	M	O	D	F	G	J	G
J	A	B	A	I	M	O	K	I	M	F	M	M	K	O	A	G	B
A	B	J	G	A	I	O	K	I	M	I	D	D	I	J	G	A	J
N	A	G	J	B	G	O	O	O	I	O	O	I	J	B	J	G	N
D	N	B	G	B	G	B	B	A	J	A	G	G	J	B	G	N	K
N	J	G	A	G	A	G	A	B	A	B	G	J	B	N	B	B	N
E	J	N	J	J	J	J	G	J	A	N	A	E	N	K	N	B	E
L	N	K	N	A	N	A	E	A	N	D	N	L	E	N	L	E	L
E	L	N	E	N	D	N	L	E	E	N	E	L	L	L	E	L	E
L	L	L	L	E	N	L	E	L	L	E	L	L	E	L	L	L	E
E	E	L	E	L	L	E	L	L	E	L	E	L	L	E	L	E	L

Verhaaltjessommen

A. In het dorp wonen 1.703 mensen. Vorig jaar woonden er 452 mensen meer. Hoeveel mensen woonden er vorig jaar in het dorp?

1.155 mensen

2.155 mensen

2.145 mensen

2.356 mensen

B. In de pan zit 800 ml soep. Hoeveel koppen van 125 ml kun je vullen?

5 koppen

8 koppen

6 koppen

7 koppen

C. 30% van de 40 mannen en 40% van de 35 vrouwen draagt een bril. Hoeveel mannen en vrouwen dragen in totaal een bril?

25

26

27

28

D. Van de 232 deelnemers aan het verkeersexamen heeft 75% het gehaald. Hoeveel deelnemers hebben het verkeersexamen gehaald?

48 deelnemers

174 deelnemers

58 deelnemers

54 deelnemers

E. In de woonkamer liggen nieuwe vloertegels. De woonkamer is 12m lang en 7m breed. Een vloertegel kost van 1m bij 1m kost €24,- Hoeveel euro kosten alle vloertegels samen?

€2.016,-

€2.000,-

€1.936,-

€1.916,-

F. Tygo fietst 25 kilometer. Als hij 10 kilometer heeft gefietst, neemt hij een kwartier pauze. Welk deel van de totale afstand heeft Tygo gefietst als hij pauze neemt?

$\frac{2}{7}$

$\frac{2}{5}$

$\frac{1}{5}$

$\frac{1}{4}$

Verhaaltjessommen

G. Sophie gaat om 12.13 uur met de trein naar Amsterdam.

Max gaat 67 minuten eerder met dezelfde trein. Hoe laat gaat Max met de trein?

11.07 uur

11.13 uur

11.20 uur

11.06 uur

H. Elias maakt brownies voor zijn feestje. Om 8 brownies te bakken, heeft hij 2 schepjes suiker nodig. Hoeveel schepjes suiker heeft Elias nodig om 44 brownies te bakken?

8 schepjes

9 schepjes

10 schepjes

11 schepjes

I. Joris verdeelt 2 liter limonade over flessen van 250 milliliter.

Hoeveel flessen kan hij vullen?

2 flessen

6 flessen

8 flessen

10 flessen

J. Het veld van het sportevenement is 3.700 cm lang en 800 cm breed.

Wat is de oppervlakte van het veld in vierkante meters?

2.960 m²

800 m²

296 m²

80 m²

K. Een groot aquarium van 200 cm bij 400 cm is gevuld met water.

De waterdiepte is 40 cm. Hoeveel liter water zit er in het aquarium?

3,2 liter

3.200 liter

80.000 liter

3.200.000 liter

L. Cato heeft 3 pizza's. Elke pizza heeft 6 stukken.

Ze verkoopt $\frac{1}{3}$ van de stukken pizza. Hoeveel stukken heeft Cato niet verkocht?

18 stukken

12 stukken

6 stukken

10 stukken

Verhaaltjessommen

M. Een boek kost normaal €20,-. Vandaag is het boek 15% afgeprijsd.
Hoeveel euro kost het boek vandaag?

€18,50

€15,-

€17,-

€19,70

N. Emma heeft 3,5 kg druiven. Ze doet de druiven in bakjes van 0,25 kg.
Hoeveel bakjes kan Emma vullen?

11 bakjes

12 bakjes

13 bakjes

14 bakjes


O. Bas maakt 24 muffins. Het recept voor 6 muffins vraagt om 125 gram bloem.
Hoeveel gram bloem heeft Bas nodig om 24 muffins te maken?

250 gram


375 gram

450 gram

500 gram



Antwoorden



Reken de verhaaltjessommen uit.

Omcirkel eerst het goede antwoord.

Geef daarna de letter van de vraag de goede kleur.

Klaar? Oefen 10 sommen op www.verhaalsommen.nl.

Daarna mag je een rekenspelletje spelen!

A	B	G	G	J	J	B	A	J	A	G	J	J	B	A	G	J	G
C	H	G	G	J	G	B	G	J	J	B	A	J	B	G	B	G	J
H	C	H	J	I	F	J	O	F	B	G	G	B	G	C	H	G	A
C	H	B	A	O	C	O	H	C	O	J	A	G	H	H	C	C	J
G	J	B	J	F	H	H	F	H	C	O	G	A	J	C	H	J	B
B	A	J	A	B	O	C	H	O	C	H	F	J	B	B	B	B	A
J	G	A	G	G	J	O	O	O	I	I	I	O	A	A	G	J	G
A	J	B	G	J	O	I	M	O	K	I	M	M	O	B	G	B	B
B	A	A	J	O	D	O	M	F	D	O	K	M	M	O	A	G	J
B	J	J	O	I	K	O	D	F	K	O	M	O	D	F	G	J	G
J	A	B	A	I	M	O	K	I	M	F	M	M	K	O	A	G	B
A	B	J	G	A	I	O	K	I	M	I	D	D	I	J	G	A	J
N	A	G	J	B	G	O	O	O	I	O	O	I	J	B	J	G	N
D	N	B	G	B	G	B	B	A	J	A	G	G	J	B	G	N	K
N	J	G	A	G	A	G	A	B	A	B	G	J	B	N	B	B	N
E	J	N	J	J	J	J	G	J	A	N	A	E	N	K	N	B	E
L	N	K	N	A	N	A	E	A	N	D	N	L	E	N	L	E	L
E	L	N	E	N	D	N	L	E	E	N	E	L	L	L	E	L	E
L	L	L	L	E	N	L	E	L	L	E	L	L	E	L	L	L	E
E	E	L	E	L	L	E	L	L	E	L	E	L	L	E	L	E	L