


Grote Getallen

Geldsommen

2

Groep 8

Je naam



1



De schade na de grote brand in de stad bedroeg € 9900000,-

Dat is ongeveer ...

A 9 miljoen euro

B 10 miljoen euro

C 90 miljoen euro

D 100 miljoen euro

2

Het digitale schoolbord kost € 3490,-



Welk getal ligt er het dichtste bij?

A € 3400,-

C € 3500,-

B € 3450,-

D € 3550,-

**3 De hoofdprijs in de Staatsloterij
bedraagt € 11,8 miljoen!**



€ 11,8 miljoen

Hoe schrijf je dat in cijfers?

- A € 11800,-**
- B € 118000,-**
- C € 1180000,-**
- D € 11800000,-**

**4 In 2007 waren er in Nederland
430 duizend caravans.**



Hoe schrijf je dat in cijfers?


A 430000

B 403000

C 43000

D 40300

5 Voor het optreden van DJ Tiësto zijn 72000 kaarten beschikbaar.
In de voorverkoop zijn er al 53000 kaarten verkocht.



Er zijn nog kaarten te koop.

6

HONDENSHOW



Voor het weekend

**69975
bezoekers**

Na het weekend

**78000
bezoekers**

**Hoeveel bezoekers trok de hondenshow
in het weekend?**

..... bezoekers

**7 In 1999 kocht mijn buurman deze oude auto.
De auto is gemaakt in 1973.**



**Hoe oud was de auto toen mijn buurman hem kocht?
..... jaar**

8



In 1996 waren er in Nederland 5664408 auto's.


In 2007 waren er in Nederland 7690540 auto's.

In 11 jaar tijd kwamen er in Nederland ongeveer auto's bij.


9 Voor de verjaardag van haar buurmeisje kocht Sila speelgoed.




€ 4,50



€ 1,50



€ 3,60



€ 3,40

Hoeveel moet Sila betalen?

€

10



**11 briefjes van 5 euro.
Hoeveel euro is dat in totaal?**

..... euro

11



**16 briefjes van 50 euro.
Hoeveel euro is dat totaal?**

..... euro

12



In 2007 steeg er op Schiphol bijna 240000 keer een vliegtuig op.

Hoeveel zijn dat er gemiddeld per maand?

..... vliegtuigen.

13



De Bank		
1 maart	VORIG TEGOED	€ 3000,-
10 maart	NIEUW TEGOED	€ 2499,60

Op 10 maart staat er minder op de rekening dan op 1 maart.

Hoeveel minder? €

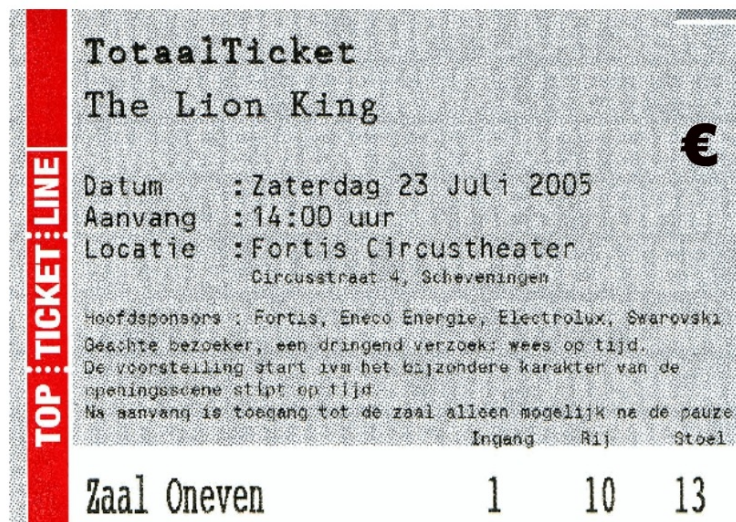
14



10 boeken voor € 3,25 per stuk.

Hoeveel kost het totaal? €

15




€ 45,-

**Toegangsk kaartje voor The Lion King.
Er werden 1000 kaartjes verkocht.**

Hoeveel brengt dat op? €

16



**Thijs mag voor € 30,- cd's uitzoeken.
De tweedehands cd's kosten € 2,50 per
stuk.**

**Hoeveel cd's kan Thijs kopen?
..... cd's.**

Antwoorden

1 B

2 C

3 D

4 A

5 19000

6 8025

7 26 jaar

8 2 miljoen

9 € 13,-

10 € 55,-

11 € 800,-

12 20000

13 € 500,40

14 € 32,50

15 € 45000,-

16 12 cd's

