

# KERSTREKENQUIZ



GROEP 7



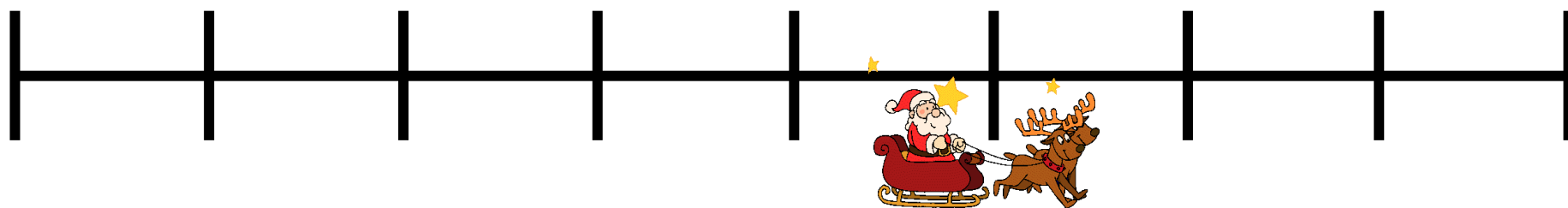
# VRAAG 1

De kerstman moet dit pakje bezorgen.  
Wat is de inhoud van dit pakje?



# VRAAG 2

Welk deel van de route heeft de kerstman al afgelegd?





# VRAAG 3

3 op de 8 rendieren hebben een rode neus.  
De kerstman heeft 320 rendieren.  
Hoeveel rendieren hebben een rode neus?



# VRAAG 4

In deze kan zit 6 liter warme chocolademelk.

In een mok gaat 200 ml.

Hoeveel mokken kan ik vullen met chocolademelk?





# VRAAG 5

De kerstman heeft 3880 km afgelegd in 8 dagen.  
Hoeveel km heeft hij gemiddeld per dag afgelegd?





# VRAAG 6

Deze prijs van deze kunstkerstboom is € 280,-.  
Je krijgt nu 30% korting.  
Wat moet je nu nog betalen voor deze boom?





## VRAAG 7

Ik heb **40 kerstballen** gekocht.  
**40%** van de ballen is rood.  
**1/4 deel** van de ballen is zilver.  
De rest is wit.

Hoeveel witte ballen heb ik gekocht?

*Tip: reken eerst uit hoeveel rode en zilveren ballen je hebt.*





# VRAAG 8

Ik wil 240 lampjes in de boom hangen. Welke lampjes kan ik het beste kopen?  
Je mag combineren.



**A:**  
Doos met  
100 lampjes  
voor € 7,25




**B:**  
Doos met  
120 lampjes  
Voor € 8,50



**C:**  
Doos met  
80 lampjes  
voor € 5,50

# VRAAG 9

Ik wil 200 lampjes in de boom hangen. Welke lampjes kan ik het beste kopen?  
Je mag combineren.



**A:**  
Doos met  
100 lampjes  
voor € 7,25



**B:**  
Doos met  
120 lampjes  
Voor € 8,50



**C:**  
Doos met  
80 lampjes  
voor € 5,50

# VRAAG 10

Deze kerstfilm duurt 102 minuten.  
Om 20:50 uur starten we de film.  
We stoppen de film 2 keer voor een  
pauze van 15 minuten.  
Hoe laat is de film afgelopen?



# VRAAG 11

Bekijk het boodschappenlijstje.  
Hoeveel moet ik betalen?



€ 1,20



€ 0,85



€ 6,69



€ 1,65



€ 2,99



€ 3,49



€ 1,80



€ 1,59



# VRAAG 12

Bekijk het boodschappenlijstje.  
Hoeveel moet ik betalen?



€ 1,20



€ 0,85



€ 6,69



€ 1,65



€ 2,99



€ 3,49



€ 1,80



€ 1,59



# VRAAG 13

Bekijk het boodschappenlijstje.  
Hoeveel krijg ik terug van € 20,-?



€ 1,20



€ 0,85



€ 6,69



€ 1,65



€ 2,99



€ 3,49




€ 1,80



€ 1,59

# VRAAG 14

359 kinderen maken iets voor het kerstdiner.  
Gemiddeld maakt elk kind 23 hapjes.  
Hoeveel hapjes zijn er in totaal gemaakt?



# VRAAG 15

Deze 4 pakjes wegen bij elkaar 7,6 kg.  
Hoeveel gram is dat?  
Wat weegt gemiddeld 1 pakje?







# VRAAG 16

Koen zegt: 'Over 4 weken en 3 dagen is het Eerste Kerstdag (25 december).  
Welke dag is het dan vandaag?'

	Ma	Di	Wo	Do	Vr	Za	Zo
44					1	2	3
45	4	5	6	7	8	9	10
46	11	12	13	14	15	16	17
47	18	19	20	21	22	23	24
48	25	26	27	28	29	30	

	Ma	Di	Wo	Do	Vr	Za	Zo
48							1
49	2	3	4	5	6	7	8
50	9	10	11	12	13	14	15
51	16	17	18	19	20	21	22
52	23	24	25	26	27	28	29
1	30	31					

# VRAAG 17

Nienke koopt voor het versturen van de kerstkaarten 30 postzegels.  
Een postzegel kost € 0,87. Wat moet Nienke betalen?



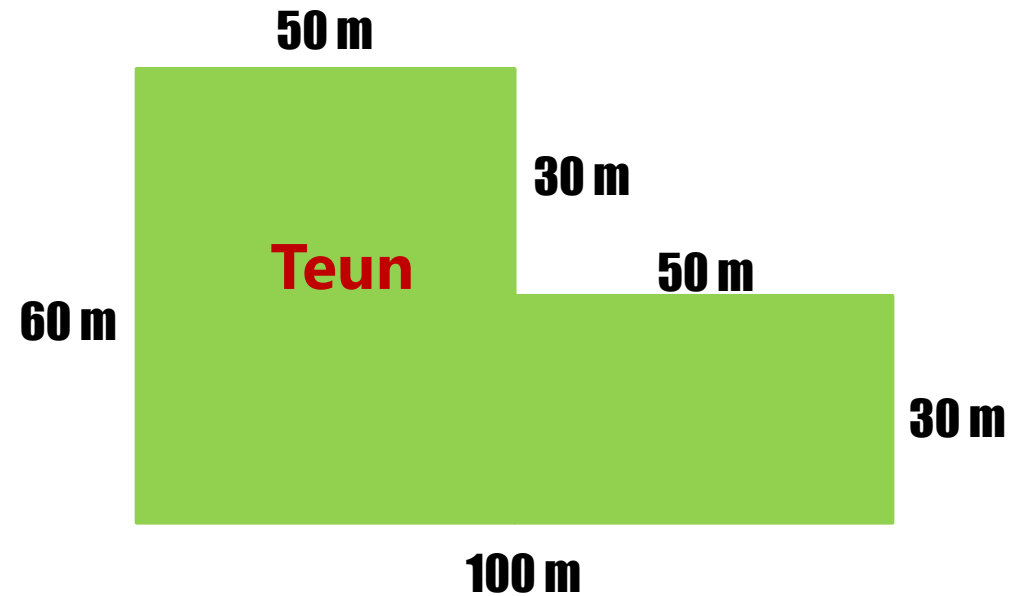
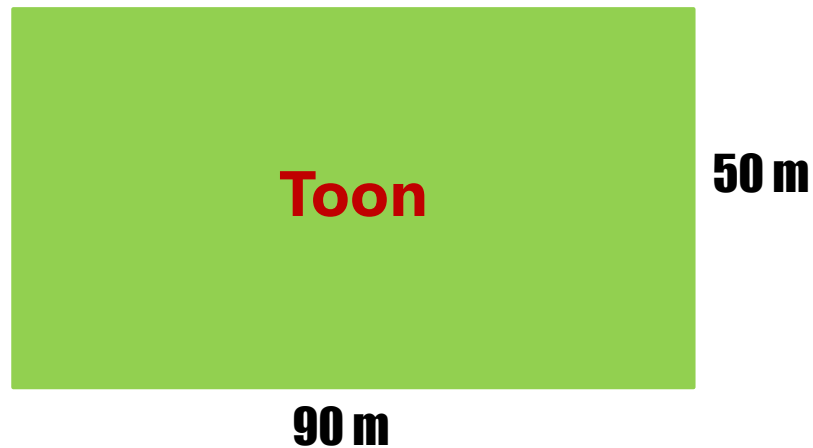
# VRAAG 18

De kerstman brengt in totaal 6846 pakjes weg.  
In een zak gaan gemiddeld 14 pakjes.  
Hoeveel zakken met pakjes brengt de kerstman weg?



# VRAAG 19

Kerstmannen Toon en Teun beweren allebei het grootste stuk land te hebben. Reken uit wie het grootste stuk land heeft.



# VRAAG 20

Eind 2019 stond de kilometerstand van de arrenslee op: 269.748 km.

Eind 2020 was de stand: 312.439 km.

Hoeveel kilometer heeft de kerstman in 2020 met de arrenslee gereisd?



**2 6 9 7 4 8** ← december 2019

**3 1 2 4 3 9** ← december 2020