



naam:


antwoorden

1 Reken uit.

$\begin{array}{r} 4738 \\ 2153 \\ \hline 6891 \end{array}$	$\begin{array}{r} 7259 \\ 2516 \\ \hline 9775 \end{array}$	$\begin{array}{r} 6292 \\ 3527 \\ \hline 9819 \end{array}$	$\begin{array}{r} 5661 \\ 1288 \\ \hline 6949 \end{array}$	$\begin{array}{r} 3248 \\ 4936 \\ \hline 8184 \end{array}$
$\begin{array}{r} 4732 \\ 2113 \\ \hline 2819 \end{array}$	$\begin{array}{r} 7259 \\ 2516 \\ \hline 4743 \end{array}$	$\begin{array}{r} 6248 \\ 3527 \\ \hline 2721 \end{array}$	$\begin{array}{r} 2470 \\ 1359 \\ \hline 1111 \end{array}$	$\begin{array}{r} 8403 \\ 4262 \\ \hline 4141 \end{array}$

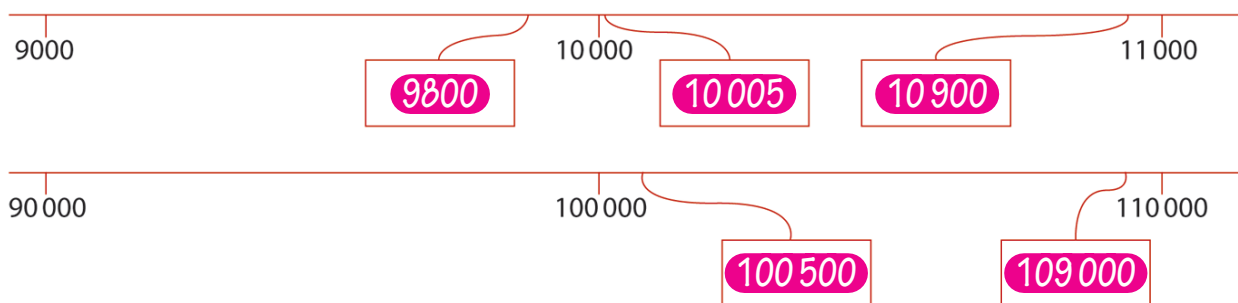
2 Zet een rondje om het grootste getal.

$2,02$ of $2,2$ $0,4$ of $0,14$ $3,8$ of $3,08$ $6,1$ of $6,01$ $8,13$ of $8,6$
 $2,16$ of $2,06$ $40,0$ of $4,04$ $0,38$ of $0,8$ $0,61$ of $0,16$ $8,06$ of 8

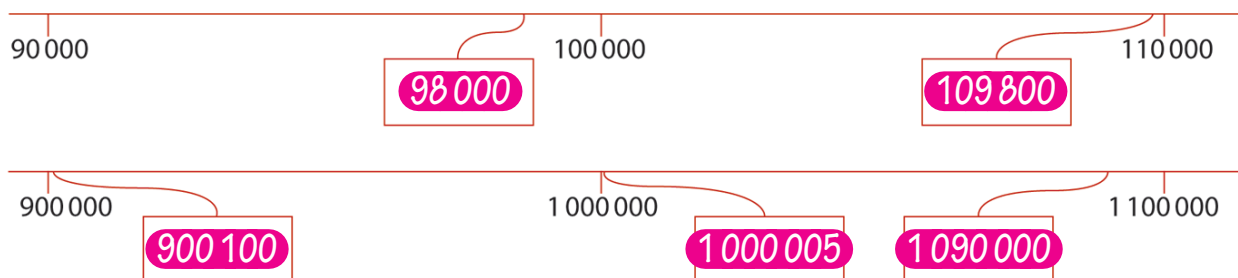


3 Schrijf de getallen op de kaartjes.

a Kies uit: 9800, 10005, 100500, 109000, 10900.



b Kies uit: 98000, 109800, 900100, 1000005, 1090000.

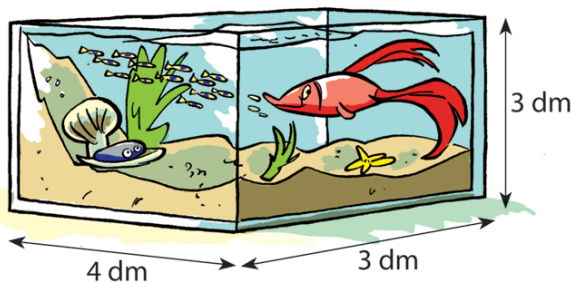




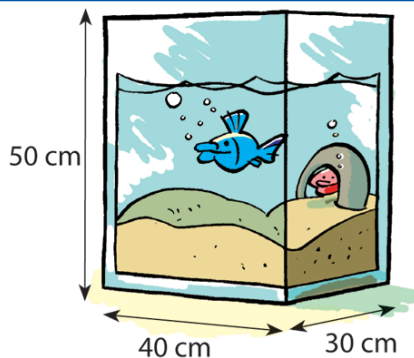
naam:

antwoorden


4 Reken uit.



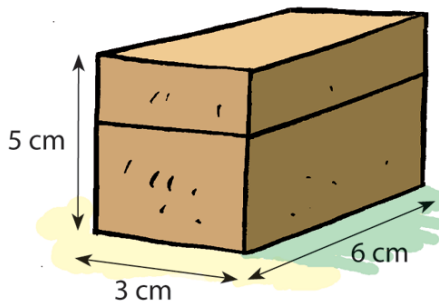
a Hoeveel blokken van 1 dm^3 passen in dit aquarium? **36** .blokken



b Hoeveel blokken van 1 dm^3 passen in het aquarium? **60** .blokken
 c De inhoud is **60** dm^3 .



d Een judozaal is 7 m lang, 5 m breed en 3 m hoog. De inhoud van de zaal is **105** m^3 .



e Een doosje is 6 cm lang, 3 cm breed en 5 cm hoog. De inhoud van het doosje is **90** cm^3 .

5 Hoe groot zijn de campingvelden?

bos					
		caravanterrein			
receptie	recreatie veld				
		tentenveld			
zomerhuisje veld					
		trekkersveld			

1 hm

Het bos is **10** .ha.

Het caravanterrein is **25** .ha.

Het tentenveld is **18** .ha.

Het trekkersveld is **12** .ha.

Het recreatieveld is **9** .ha.

1 dam = **10** m

1 hm = **100** m

1 km **1000** m

1 km = **10** hm

1 hm = **10** dam



naam:

antwoorden

6 Reken uit.

6 5	5 7	4 6	3 4	9 3
<u> </u> 9 x	<u> </u> 5 x	<u> </u> 6 x	<u> </u> 8 x	<u> </u> 7 x
5 8 5	2 8 5	2 7 6	2 7 2	6 5 1

7 Welk getal?

a Omcirkel het grootste getal.

- 2,06 of **2,2**
- 3,8** of 3,08
- 0,5** of 0,05
- 0,47** of 0,4
- 1,01 of **1,1**



b Welk kommagetal ligt er precies tussenin?

0,6	0,7	0,8
2,4	2,6	2,8
0,3	0,35	0,4
6,9	6,95	7
23,5	23,75	24

8 Maak de diagrammen af.



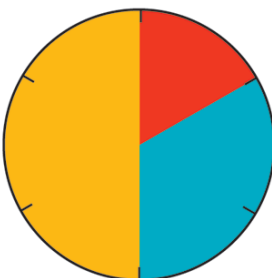
- 100 zwemmers
- 40 recreatiezwemmers
 - 25 schoonspringers
 - 20 waterpoloërs
 - 15 duikers




- 15000 sporters
- 6 - 8 jaar **4500** sporters
 - 9 - 12 jaar **6000** sporters
 - 13 - 16 jaar **3000** sporters
 - 17 - 20 jaar **1500** sporters



- 120 fietsers
- 36 wielrenners
 - 12 mountainbikers
 - 24 stunt bikers
 - 48 crossfietsers



- 24000 supporters
- volleybal **4000** supporters
 - voetbal **12000** supporters
 - schaatsen **8000** supporters



- 800 balsporters
- 400 voetballers
 - 160 volleyballers
 - 200 honkballers
 - 40 basketballers