


Meten

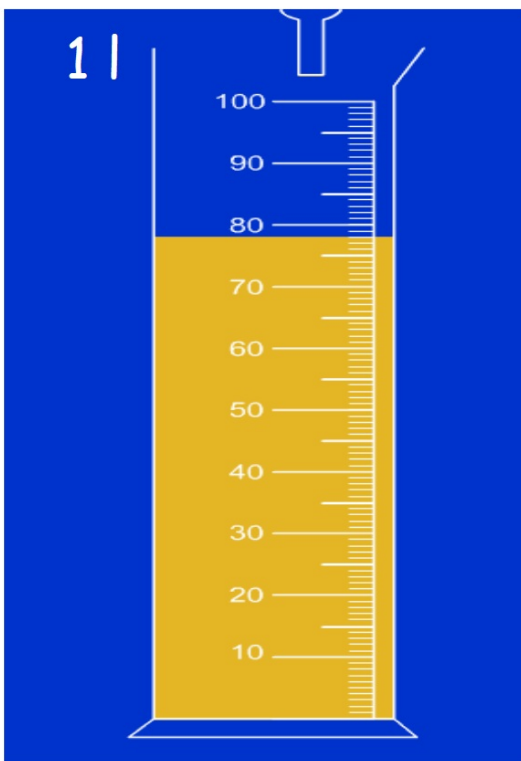


Groep 8
2



Je naam

1



Hoeveel liter water zit er in de kan?

- A 0,78 liter**
- B 0,85 liter**
- C 0,74 liter**
- D 0,68 liter**

2



**In een pak zit 0,75 liter melk.
Jeroen haalt er 0,6 liter uit.**

Hoeveel liter melk zit er dan nog in het pak?

..... liter.

3



**In een glas past
0,2 liter sap.**

**Hoeveel glazen kun je vullen met de inhoud
van dit pak? Dat zijn glazen.**

4

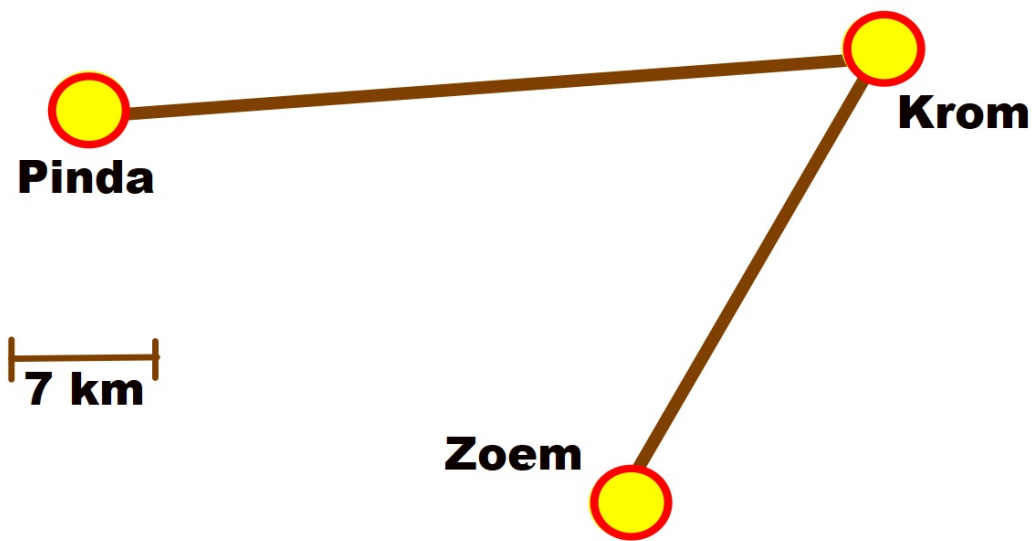


Dropveter
Lengte 104 centimeter

Verdeel de dropveter in vier stukken die even lang zijn.

Ieder stuk is dan centimeter lang.

5



Hoeveel km is het ongeveer van Pinda naar Zoem?

..... km

6

1 stap is ongeveer 1 meter



Meester Fred heeft een eiland gekocht. De lengte is 20 grote stappen en de breedte 15 grote stappen.

Hoe groot zal dan de oppervlakte ongeveer zijn?

- A 300 m**
- B 300 m²**
- C 300 m³**


7



Hoeveel meter is het vanaf hier naar OIRSCHOT?

Dat is meter.

8

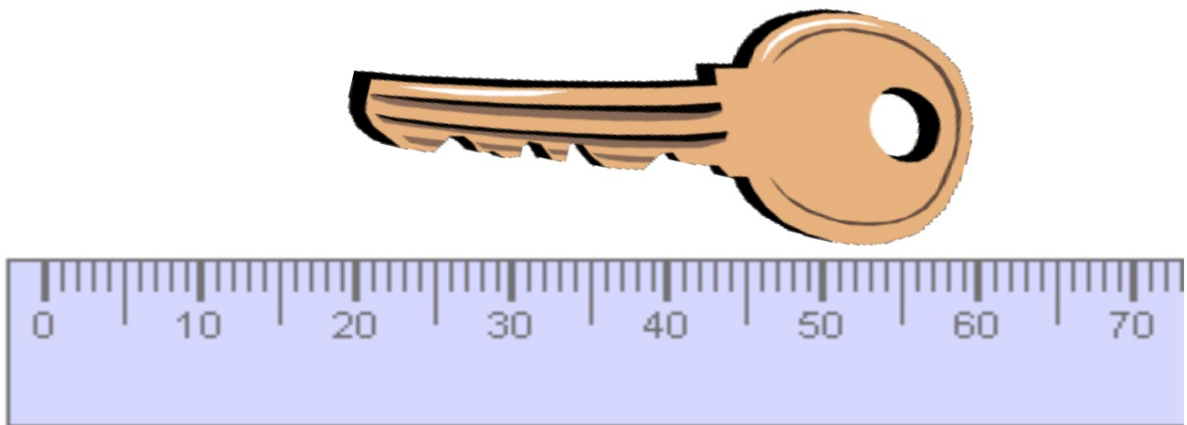


Hoeveel m^2 is de oppervlakte van de kamer?

Tip! Gebruik de liniaal op deze bladzijde

Dat is m^2


9



Hoe lang is de sleutel ongeveer?

- A 3 cm**
- B 4 cm**
- C 5 cm**

10



Meester Fred verft de schutting aan de voorkant. De schutting is 13 m lang en 2 m hoog.

Hoeveel m^2 is dat in totaal? m^2

Afstandstabel

	Võru	Viljandi	Valga	Tartu	Tallinn	Rapla	Rakvere	Pärnu	Põlva	Petseri	Paide	Otepää	Narva	Kärdla	Kuressaare	Jõhvi	Jõgeva
Haapsalu	308	193	255	268	102	99	200	111	312	343	164	269	314	36	157	266	222
Jõgeva	124	77	142	53	153	132	76	156	101	159	74	95	159	258	299	110	
Jõhvi	201	189	219	133	164	220	69	253	178	236	164	173	49	301	385		
Kuressaare	355	253	301	331	220	194	316	163	359	390	244	316	433	192			
Kärdla	344	229	281	305	137	134	235	146	349	379	199	305	349				
Narva	251	238	268	180	212	268	117	300	235	285	202	221					
Otepää	48	81	50	42	220	189	167	159	43	83	134						
Paide	173	77	160	102	92	65	82	99	151	208							
Petseri	35	164	107	104	291	271	231	233	60								
Põlva	25	124	86	48	234	231	173	201									
Pärnu	198	98	139	183	129	91	184										
Rakvere	196	143	214	126	98	150											
Rapla	236	116	198	170	56												
Tallinn	257	163	245	188													
Tartu	71	76	86														
Valga	72	82															
Viljandi	129																

Tussen welke plaatsen is de langste afstand?

Tussen en

De afstand is km

12


**1 mm pijlbreedte is
15000 zwaluwen.**



**De pijl geeft aan hoeveel zwaluwen
er in Nederland leven.**

**Hoeveel zwaluwen waren dat?
..... zwaluwen.**

13



Hoeveel cm^2 is de oppervlakte van de driehoek?
..... cm^2

14



De inhoud van een literpak melk is

- A 70 ml**
- B 700 ml**
- C 750 ml**
- D 75 ml**

De inhoud van twee blikjes cola is

- A 1 l**
- B 1,73 l**
- C 0,66 l**
- D 0,10 l**



15



Container

Lengte 10 m

Breedte 2 m

Hoogte 2,5 m

Wat is de inhoud van deze container?

Dat is m³

16



Drie peren wegen iets meer dan ...

- A 0,3 kg**
- B 0,4 kg**
- C 3 kg**
- D 4 kg**

17



**Kies uit:
kilogram of gram**



**De bus
goudvissenvoer
weegt ongeveer 200**

.....

**De zak paardenvoer
weegt ongeveer 7**

.....

18



In het verfblik zit ...

- A 10 liter**
- B 2 liter**
- C 1 liter**
- D 0,75 liter**



In het verfblik zit ...

- A 1 liter**
- B 1,5 liter**
- C 2 liter**
- D dat weet je niet**

19



Nico maakte een mooie foto op Tenerife.

Welke verhouding past het beste bij de foto?


A 10 : 10

B 25 : 30

C 15 : 10

20

**Jonge Kaas
€ 8,- per kilo**

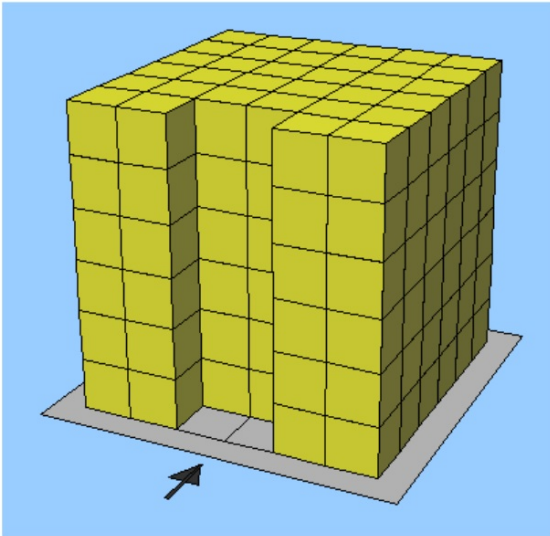


498 gram

**Judith koopt 498 gram jonge kaas.
Hoeveel moet zij ongeveer betalen?**

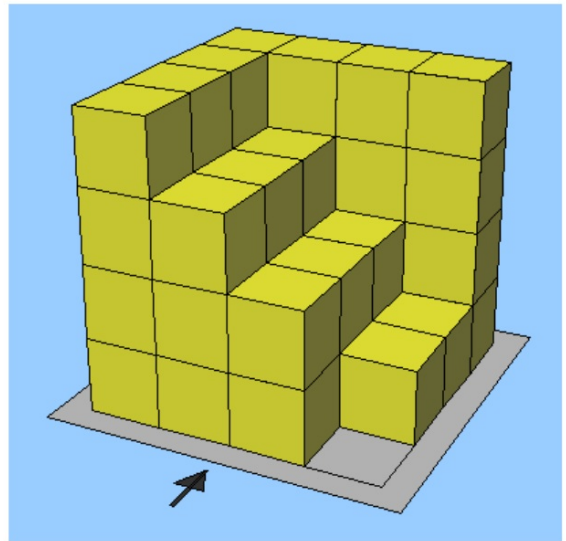
- A € 3,-**
- B € 3,50**
- C € 4,-**
- D € 4,50**

21



A.
Hoeveel blokken
zijn er?

..... blokken



B.
Hoeveel blokken
zijn er?

..... blokken

22



Huzarensalade

**Bakje van $\frac{1}{6}$ kg
voor € 0,29**

Jari bestelt 24 bakjes huzarensalade.

Hoeveel kg is dat in totaal? kg

23

Waspoeder



A

8 kg

€ 16,-



B

2 kg

€ 4,-



C

2 kg

€ 3,50

Welk wasmiddel is per kg het goedkoopst?

Wasmiddel

24

Antwoorden

- | | |
|--|-------------------------------------|
| 1 - A (0,78 liter) | 15 - 50 m³ |
| 2 - 0,15 liter | 16 - C (3 kg) |
| 3 - 5 glazen | 17 - gram en kilogram |
| 4 - 26 cm | 18 - D (0,75 l) en B (1,5 l) |
| 5 - 63 km (ca 9 x 7) | 19 - C (15:10) |
| 6 - B 300m² | 20 - C (€ 4,-) |
| 7 - 9200 meter | 21 - A 204 en B 45 |
| 8 - 77 m² | 22 - 4 kg |
| 9 - B (4 cm) | 23 - C |
| 10 - 26 m² | |
| 11 - Kuressaare naar Narva (433 km) | |
| 12 - 225000 | |
| 13 - 10 cm² | |
| 14 - C (750 ml) en C (0,66 l) | |

