



Hele perentaart: €20



Welk deel is 1 stuk? \_\_\_\_\_ deel

Wat kost 1 stuk? \_\_\_\_\_ euro

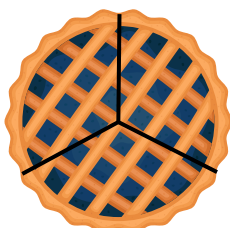
Hele speculaastaart: €25



Welk deel is 4 stukken? \_\_\_\_\_ deel

Wat kosten 4 stukken? \_\_\_\_\_ euro

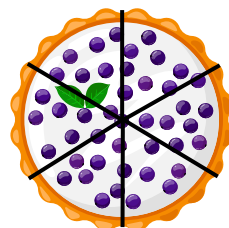
Hele pruimentartaart: €15



Welk deel is 2 stukken? \_\_\_\_\_ deel

Wat kosten 2 stukken? \_\_\_\_\_ euro


Hele bessentaart: €18



Welk deel is 5 stukken? \_\_\_\_\_ deel

Wat kosten 5 stukken? \_\_\_\_\_ euro


Hele citroentaart: €16



Welk deel is 3 stukken? \_\_\_\_\_ deel


Wat kosten 3 stukken? \_\_\_\_\_ euro

Hele aardbeientaart: €24




Welk deel is 6 stukken? \_\_\_\_\_ deel

Wat kosten 6 stukken? \_\_\_\_\_ euro




Hele perentaart: €20



Welk deel is 1 stuk?  $\frac{1}{4}$  deel

Wat kost 1 stuk? 5 euro

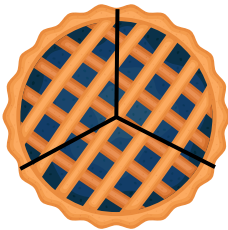
Hele speculaastaart: €25



Welk deel is 4 stukken?  $\frac{4}{5}$  deel

Wat kosten 4 stukken? 20 euro

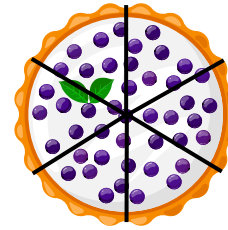
Hele pruimentartaart: €15



Welk deel is 2 stukken?  $\frac{2}{3}$  deel

Wat kosten 2 stukken? 10 euro

Hele bessentaart: €18



Welk deel is 5 stukken?  $\frac{5}{6}$  deel

Wat kosten 5 stukken? 15 euro


Hele citroentaart: €16



Welk deel is 3 stukken?  $\frac{3}{4}$  deel

Wat kosten 3 stukken? 12 euro

Hele aardbeientaart: €24



Welk deel is 6 stukken?  $\frac{6}{8}$  deel

Wat kosten 6 stukken? 18 euro

