



naam: \_\_\_\_\_

antwoorden

**1 Breuken, kommagetallen en procenten.**

Schrijf het steeds op 3 manieren op.

a		$\frac{1}{10}$ en 0,1 en 10%
b		$\frac{1}{2}$ en 0,5 en 50%
c		$\frac{3}{4}$ en 0,75 en 75%
d		$\frac{1}{5}$ en 0,2 en 20%
e		$\frac{7}{10}$ en 0,7 en 70%
f		$\frac{3}{5}$ en 0,6 en 60%

**2 Maak de deelsommen.**

$576 : 8 = 72$ 	$412 : 7 = 58 \text{ r. } 6$ 	$488 : 12 = 40 \text{ r. } 8$ 
$832 : 16 = 52$ 	$512 : 13 = 39 \text{ r. } 5$ 	

**3 Zet een rondje om het goede antwoord.**

a De Mont Blanc is 4807 m hoog. Dat is ongeveer:

- 50 km
- 48 km
- 4,8 km



b 1 bagel kost € 0,97.

6 bagels kosten:

- ongeveer € 6,50
- ongeveer € 6,00
- ongeveer € 7,00



c In Londen wonen 7,3 miljoen mensen. 7,3 miljoen is:

- 7 300 000
- 73 000 000
- 73 000



d Van de 200 campinggasten zijn 40% Nederlanders. Dat zijn:

- 40 Nederlanders
- 60 Nederlanders
- 80 Nederlanders



e Wandeltochten: maandag 25 km, dinsdag 16 km, woensdag 28 km en donderdag 31 km. Hoeveel kilometer wandelt Jos gemiddeld?

- 26 km per dag
- 24 km per dag
- 25 km per dag






naam:

antwoorden

4 Wat is de prijs van de grastapjten?

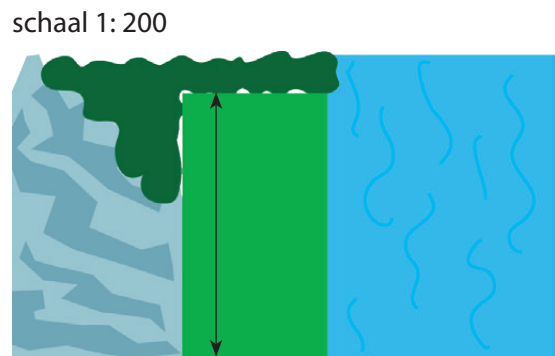
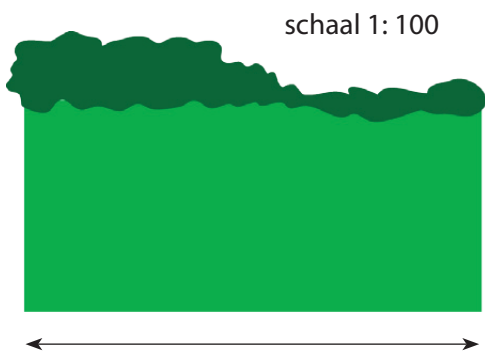
- a  $3\text{ m} \times 5\text{ m}$  kost € 3,95
- b  $8\text{ m} \times 2\text{ m}$  kost € 6,75
- c  $2\text{ m} \times 5\text{ m}$  kost € 5,90
- $3\text{ m} \times 10\text{ m}$  kost € **7,90**.....
- $8\text{ m} \times 4\text{ m}$  kost € **13,50**.....
- $4\text{ m} \times 10\text{ m}$  kost € **23,60**.....



- d  $16\text{ m} \times 20\text{ m}$  kost € 30
- e  $8\text{ m} \times 4\text{ m}$  kost € 8,90
- $16\text{ m} \times 10\text{ m}$  kost € **15,-**.....
- $4\text{ m} \times 4\text{ m}$  kost € **4,45**.....

5 Hoe groot is het?

- a De breedte van het kampeerveld is ...**6**... m
- b De lengte van het kampeerveld is ...**7**... m



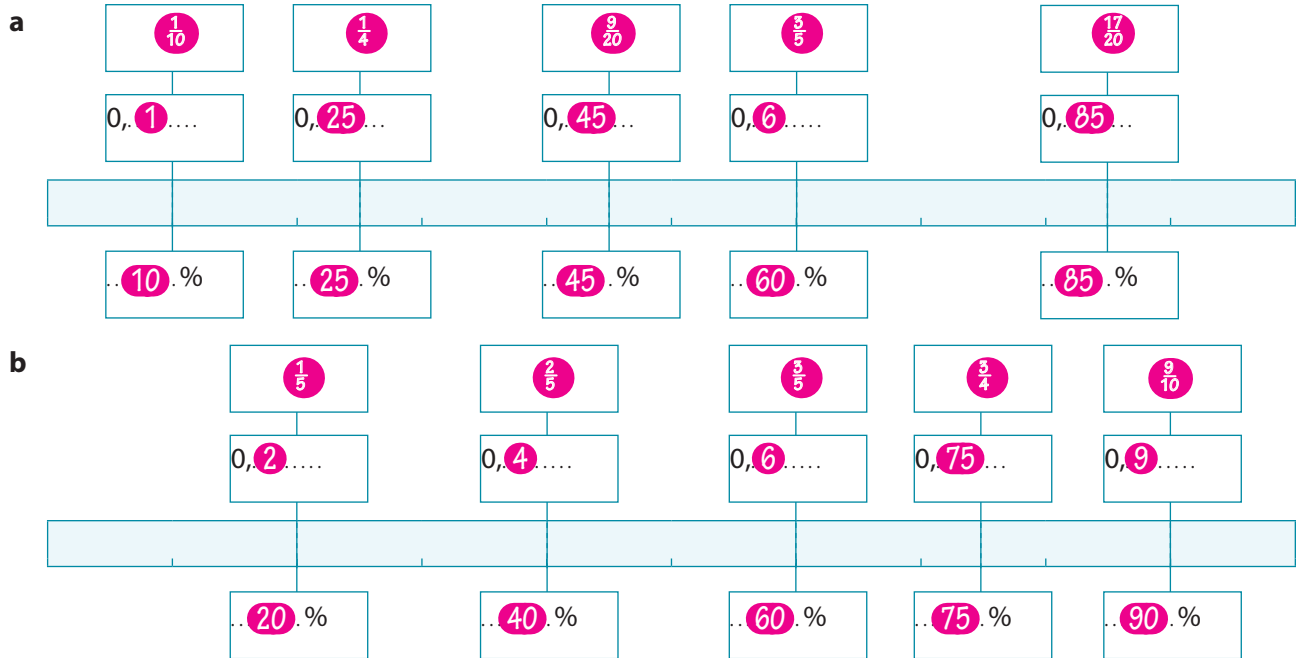
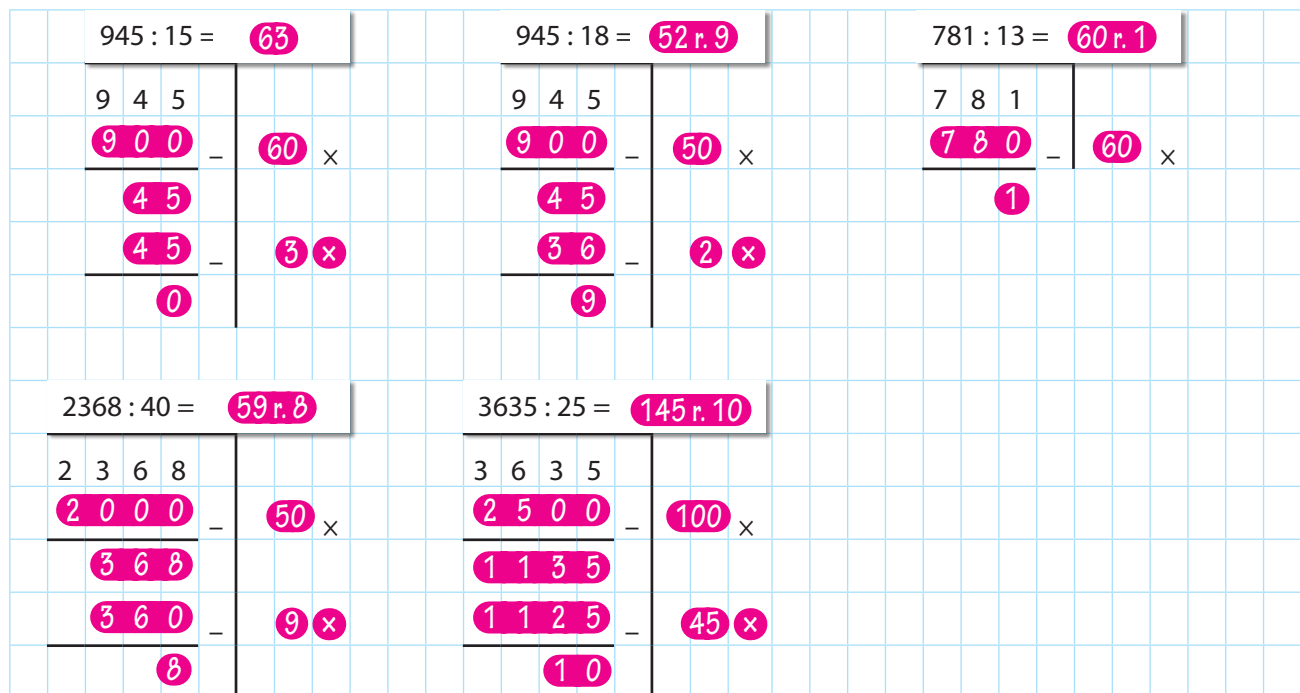
	in het echt:	schaalmodel:	schaal:
c partytent	7 m	7 cm	1: <b>100</b> .....
d speeltent	100 cm	20 cm	1: <b>5</b> .....
e koepeltent	3 m	15 cm	1: <b>20</b> .....





naam:

antwoorden

**6 Vul de kaartjes in: breuken, kommagetallen en procenten.**

**7 Maak de deelsommen.**

**8 Zet een rondje om het goede antwoord.**

- a** De omtrek van het rechthoekige speelterreintje is 24 m. Wat kan de oppervlakte zijn?
- 350 m<sup>2</sup>
  - **35 m<sup>2</sup>**
  - 24 m<sup>2</sup>
- b** Snorkelset € 29,90. Vandaag 10% korting. De snorkelset kost vandaag ongeveer:
- **€ 27,-**
  - € 29,-
  - € 19,-
- c** De opbrengst voor 'World Child' is € 1.487.390,-. Rond het af op een honderdduizendtal.
- 1 400 000
  - **1 500 000**
  - 1 490 000
- d** 4 van de 5 campinggasten maken gebruik van aansluiting elektriciteit. Hoeveel procent is dat?
- 40%
  - 50%
  - **80%**
- e** De rivier Le Loue steeg na veel regen van 0,85 m naar 3,01 m. Het verschil is:
- 3,84 m
  - **2,16 m**
  - 2,86 m