

# Niveau A

1. Zet het aantal munten eronder!

68 eurocent


42 eurocent


€ 1,23


€ 5,66







€ 6,82


€ 3,92


€ 4,21


€ 0,21


2.

Het kost	Ik geef	Ik krijg terug
€ 0,43		.....eurocent
€ 0,22		.....eurocent
€ 0,68		.....eurocent
€ 0,97		.....eurocent
€ 0,04		.....eurocent
€ 0,16		.....eurocent
€ 0,89		.....eurocent

Wat koop ik ?	Wat geef ik ?	Wat krijg ik terug ?
---------------	---------------	----------------------

€ 0,73	€ 1,00	€
€ 0,48	€ 1,00	€
€ 0,26	€ 1,00	€
€ 0,87	€ 1,00	€
€ 0,35	€ 1,00	€
€ 1,39	€ 2,00	€
€ 1,67	€ 2,00	€
€ 0,52	€ 2,00	€
€ 1,11	€ 2,00	€
€ 0,94	€ 2,00	€

Wat koop ik ?	Wat geef ik ?	Wat krijg ik terug ?
---------------	---------------	----------------------

€ 2,93	€ 5,00	€
€ 0,28	€ 5,00	€
€ 3,36	€ 5,00	€
€ 1,47	€ 5,00	€
€ 4,15	€ 5,00	€
€ 8,29	€ 10,00	€
€ 4,57	€ 10,00	€
€ 1,82	€ 10,00	€
€ 6,41	€ 10,00	€
€ 5,64	€ 10,00	€

Wat koop ik ?	Wat geef ik ?	Wat krijg ik terug ?
---------------	---------------	----------------------

€ 15,38	€ 20,00	€
€ 4,87	€ 20,00	€
€ 10,06	€ 20,00	€
€ 23,92	€ 20,00	€
€ 7,43	€ 20,00	€
€ 34,92	€ 50,00	€
€ 23,69	€ 50,00	€
€ 4,01	€ 50,00	€
€ 40,74	€ 50,00	€
€ 13,65	€ 50,00	€

4.

Raap in het plaatje: € 23,04



--	--	--	--	--	--	--	--



--	--	--	--	--

Raap in het plaatje: € 5,13



--	--	--	--	--	--	--	--



--	--	--	--	--

**Raap in het plaatje: € 16,22**



--	--	--	--	--	--	--	--



--	--	--	--	--

**Raap in het plaatje: € 84,17**



--	--	--	--	--	--	--	--



--	--	--	--	--

## B niveau

1.

► Welke euromunt hoort **NIET** in het rijtje thuis?

- een munt van 2 eurocent
- een munt van 1 eurocent
- een munt van 25 eurocent
- een munt van 10 eurocent

2.

► Vijfentwintig EURO en vier cent, schrijf je meestal niet voluit. Dat zou veel te lang zijn. Je noteert zo'n bedrag in de **euronotatie**. Dat doe je dan zo: € 25,04.

Hieronder zie je bedragen voluit geschreven. Zet ze in de euronotatie. Let goed op waar je de komma zet en denk aan de plaats van de nul!

- a. Vijfentachtig euro en vijfendertig cent .....
- b. Tien euro en drie cent .....
- c. Honderdenvijf euro en één cent .....
- d. Achtenvijftig euro en tien cent .....

3.

► Geld wisselen betekent:

- Je betaalt met gepast geld
- Je betaalt, je geeft geld en je krijgt terug wat je teveel geeft
- Je ruilt muntstukken of biljetten. Je krijgt net zoveel terug als je geeft. De waarde blijft gelijk.



4.

Raap in het plaatje: € 23,04



--	--	--	--	--	--	--	--



--	--	--	--	--

Raap in het plaatje: € 5,13



--	--	--	--	--	--	--	--



--	--	--	--	--

Raap in het plaatje: € 16,22



--	--	--	--	--	--	--	--



--	--	--	--	--

Raap in het plaatje: € 84,17



--	--	--	--	--	--	--	--



--	--	--	--	--

## 5. In de snackbar

				
<b>RUNDEVLEESKROKET € 1,00</b>	<b>BAMI € 1,00</b>	<b>GEHAKTBAL € 1,25</b>	<b>KIPSATÉ € 3,00</b>	<b>SPECIAALTJE € 1,00</b>
Bouillon getrokken van rundvlees, bloem, uien, margarine, groenten, peterselie, kruiden, eieren, Nederlands rundvlees, eiwit.	Kip, margarine, kruiden, mie, verse uien, verse witte kool, verse prei, gedroogde bami groenten, gedroogde paprika, knoflook, sambal en eiwit.	50% rundergehakt, 50% varkensgehakt, kruiden, gedroogde groenten, aardappelvlokken en geweld in de bouillon.	Kippenvlees, sambal, ketchup, ketjap, zout, gemengde kruiden.	50% rundergehakt, 50% varkensgehakt, kruiden, groenten, uien en eiwit.
				
<b>GRILLBURGER € 1,50</b>	<b>SATÉKROKET € 1,00</b>	<b>KAASSOUFFLÉ € 1,00</b>	<b>KIPBURGER € 1,50</b>	<b>FRIKADEL € 1,00</b>
Nederlands rundvlees, groenten en kruiden.	Bouillon getrokken van rundvlees, bloem, uien, margarine, groenten, peterselie, kruiden, eieren, Nederlands rundvlees, eiwit, maggi, tomatenketchup, sambal, ketjap, satekruiden, knoflookpoeder en pindakaas.	Deeg van meel en boter, kaas en eiwit.	Kippenvlees, water, bloem, plantaardige olie, zout, kruiden, dextrose, magere melkpoeder, zetmeel, rijstmiddel.	50% rundergehakt, 50% varkensgehakt, kruiden, gedroogde groenten, aardappelvlokken en geweld in de bouillon.

Prijzlijst FEBO

Hier zie je een overzicht van de prijzen van een bekende snackbar: FEBO. Let goed op **hoeveel** er besteld wordt, want dat moet je natuurlijk ook in rekening brengen! Reken ook steeds uit, hoeveel geld je moet teruggeven. Let goed op dat je de komma op de goede plaats zet.

### Bestelling 1

2 BAMI-ballen € .....

1 Grill-burger € .....

1 Kipsaté € .....

Totaal € .....

De klant geeft



Jij geeft terug € .....

## Bestelling 2

3 Rundvleeskroketten € .....

1 Kipburger € .....

2 Satékroketten € .....

1 Speciaaltje € .....

Totaal € .....

De klant betaalt met



Jij geeft terug € .....

## Bestelling 3

4 Kipburgers € .....


1 Grillburger € .....

2 Rundvleeskroketten € .....

1 Frikadel € .....

Totaal € .....

De klant betaalt met



Jij geeft terug € .....



## Bestelling 4

2 Speciaaltjes	€ .....
1 Kipburger	€ .....
3 Gehaktballen	€ .....
2 Kaassoufflés	€ .....
Totaal	€ .....

De klant betaalt met



Jij geeft terug € .....

6.

- Tijdens de lessen, heb je een keer een fooienpot geteld. Hieronder is er weer een. Tel het bedrag aan munten bij elkaar op. Hoe doe je dat het meest snel én goed?



€ .....

7.

► Je staat in de winkel en je moet geld teruggeven aan de klanten.

Geef aan met welke munten en biljetten je dat doet. Zorg dat je optelt van het bedrag dat betaald moet worden, naar het bedrag dat wordt gegeven. Als je een muntje 1x gebruikt, zet je een 1, als je een muntje 2x gebruikt een 2, enz.

Het kost	De klant geeft								
€ 8,04	€ 10,00	1		1		2	1	1	
€ 4,45	€ 6,00								
€ 8,13	€ 10,00								
€ 2,33	€ 5,00								
€ 3,40	€ 5,00								
€ 7,38	€ 10,00								

► Je staat in een kledingzaak.

De bedragen die betaald worden zijn nu wat groter. Zorg dat je optelt van het bedrag dat betaald moet worden, naar het bedrag dat wordt gegeven. Als je een biljet 1x gebruikt, zet je een 1, als je een biljet 2x gebruikt een 2, enz. Doe hetzelfde als bij de vorige opdracht, maar nu met biljetten.

Het kost	De klant geeft				
€ 10	€ 40		1	2	
€ 125	€ 200				
€ 80	€ 100				
€ 5	€ 20				
€ 10	€ 50				
€ 75	€ 100				

► En nu biljetten teruggeven én munten:

Het kost	De klant geeft	schrijf op hoe je teruggeeft
Het kost € 14,03	€ 15,00	Hoeveel geef je in totaal terug? ____ euro
Het kost € 70,23	€ 100,00	Hoeveel in totaal? ____ euro
Het kost € 101,80	€ 110,00	Hoeveel geef je in totaal terug? ____ euro
Het kost € 40,10	€ 50,00	Hoeveel geef je in totaal terug? ____ euro
Het kost € 80,14	€ 85,00	Hoeveel in totaal? ____ euro

Proefwerk Hoge B/C niveau

1. Je gaat naar de supermarkt  
Er zijn volop aanbiedingen.

In je portemonnee zit



Hoeveel euro heb je bij je ..... Euro

Zie de volgende bladzijde en beantwoordt onderstaande vragen

Hoeveel Maggi basis voor soep kun je kopen?

..... stuks

Hoeveel bolletje eindeloos kun je kopen?

..... stuks

Hoeveel geld houd je dan over?

..... Eurocent

Wat kun je daarvan nog kopen?

.....



### Bolletje Eindeloos

kaneel, zachte hazelnoot of melkchocolade

pak



Win je favoriete Bolletje moment bij C1000

0.99

### Remia Snacksauzen

curry, tomatenketchup,  
mayonaise of fritessaus

flacon 500 ml

actieprijs per liter 1.58



0.79



### Maggi Basis voor soep

tomaten

fles 255 ml

actieprijs per liter 5.06



1.29



### Lay's Chips

diverse smaken

zak 225 gram

actieprijs per kilo 3.07



0.68

2. Je besluit van alles iets te kopen.  
Maak hieronder de prijslijst af:

#### Boodschappenlijst

2 zakken Lays € .....

1 maggi basis € .....






1 remia curry € .....

2 bolletje € .....

-----

In totaal: € .....

3. Wat geef je terug? Probeer steeds zo weinig mogelijk munten terug te geven.

Prijs	Jij krijgt	Wat geef je terug
€ 0,31	€ 0,50	 2      1      1
€ 0,53	€ 0,70	
€ 0,73	€ 0,80	
€ 0,25	€ 0,80	
€ 0,52	€ 0,94	

Zelfbruinende melk



1,99

Choco Crossies



1,59

Rolo



1,59

Choco drink



1,49

Paté Gala



3,29

Braadharing



1,59

4. Kijk naar de advertenties

Je koopt 1 flesje zelfbruinende melk en 1 chocodrink.  
Je betaalt met 5 euro. Wat krijg je terug?

.....







Je koopt 1 braadharing en 2 choco crossies. Je betaalt met 10 euro.  
Wat krijg je terug?

.....

Je koopt 2 Pate Gala en 5 keer braadharing. Je betaalt met 50 euro.  
Wat krijg je terug?

.....

5

Het kost	Je geeft						
€ 0,33	€ 1,00		1	1	1		1
€ 0,73	€ 1,00						
€ 0,58	€ 1,00						
€ 0,42	€ 1,00						

€ 0,14	€ 1,00						
€ 0,09	€ 1,00						

6.

Nicole spaart munten van 5 eurocent.  
Hoeveel munten van 5 eurocent kan ze inwisselen



..... munten van 5 eurocent

Jan spaart munten van 2 eurocent.  
Hoeveel munten van 2 eurocent kan hij inwisselen



..... munten van 2 eurocent


Marieke spaart munten van 20 eurocent  
Hoeveel munten van 2 eurocent kan ze inwisselen



..... munten van 20 eurocent

Betaald parkeren  
 Maandag t/m zaterdag  
 Van 09.00 – 18.00 uur  
 Bovendien op donderdagavond en  
 overige koopavonden van  
 18.00 – 21.00 uur  
 Max. 2 uur

Tarief  
 € 0,20 per 6 min.  
 € 1,00 per 30 min.

Parkeertijd	Wat moet je betalen				
Maandag 17.30 – 18.30	€ 1,00		1		
Dinsdag 16.30 – 19.30					
Donderdag 20.54 – 23.00					
Woensdag 16.00 – 20.00					
Vrijdag 19.42 – 21.34					