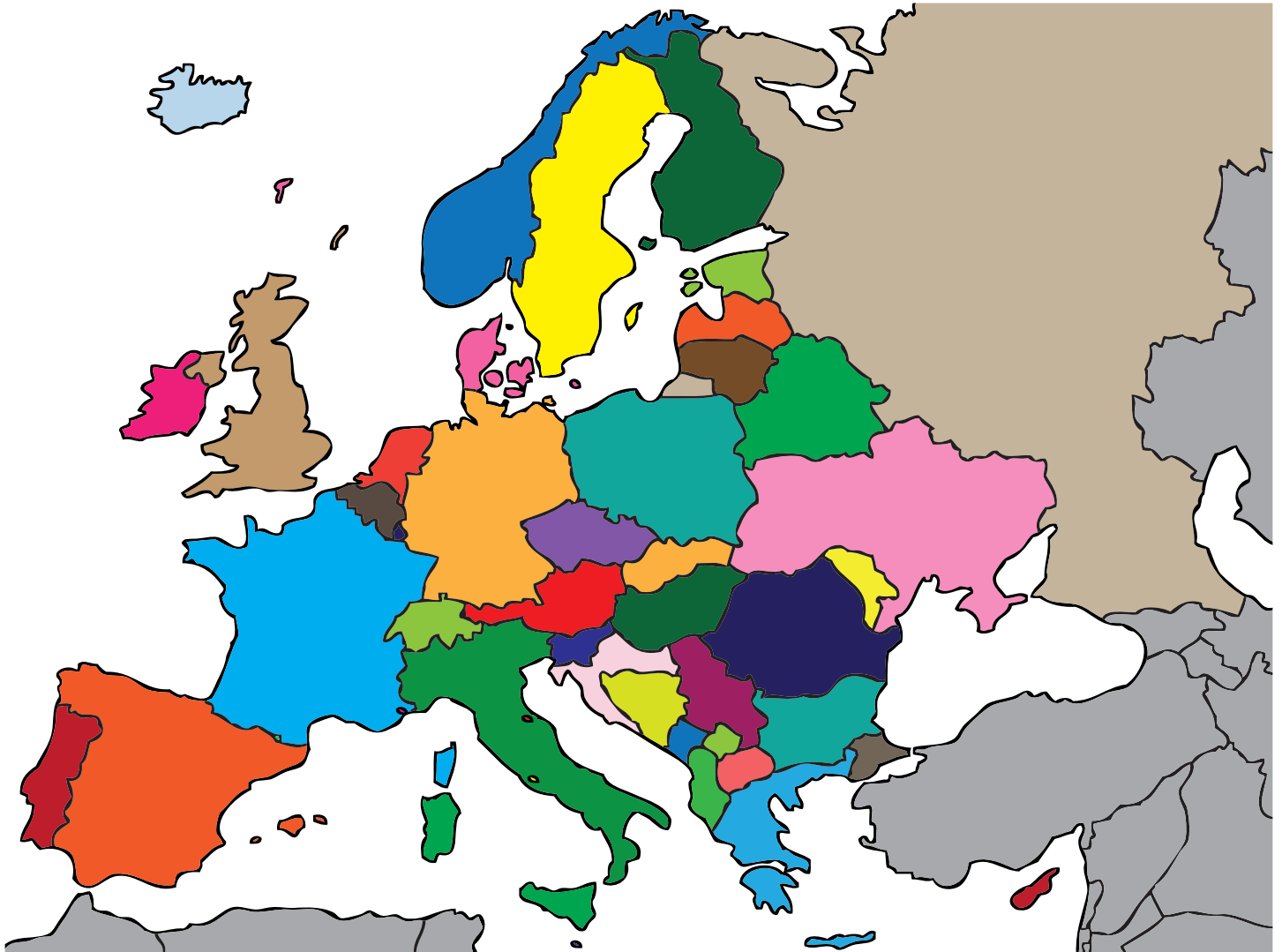


Geografie









ONS CONTINENT - EUROPA











Hier zie je een tabel met alle landen van Europa. Tussen haakjes staan hun autokentekens. Vul de kentekens in de kaart in. Als hulpmiddel kun je een atlas gebruiken.

Land	Hoofdstad	Land	Hoofdstad	Land	Hoofdstad
Albanië (AA)	Tirana	Kosovo (RKS)	Pristina	Roemenië (RO)	Boekarest
Andorra (AND)	Andorra la Vella	Kroatië (HR)	Zagreb	Rusland (RUS)	Moskou
België (B)	Brussel	Letland (LV)	Riga	San Marino (SM)	San Marino
Bosnië en Herzegovina (BIH)	Sarajevo	Liechtenstein (FL)	Vaduz	Zweden (S)	Stockholm
Bulgarije (BG)	Sofia	Litouwen (LT)	Vilnius	Zwitserland (CH)	Bern
Denemarken (DK)	Kopenhagen	Luxemburg (L)	Luxemburg	Servië (SRB)	Belgrado
Duitsland (D)	Berlijn	Malta (M)	Valletta	Slowakije (SK)	Bratislava
Estland (EST)	Tallinn	Macedonië (MK)	Skopje	Slovenië (SLO)	Ljubljana
Finland (FIN)	Helsinki	Moldavië (MD)	Chisinau	Spanje (E)	Madrid
Frankrijk (F)	Parijs	Monaco (MC)	Monaco	Tsjechische Republiek (CZ)	Praag
Griekenland (GR)	Athene	Montenegro (MNE)	Podgorica	Turkije (TR)	Ankara
Groot-Brittannië (GB)	Londen	Nederland (NL)	Amsterdam	Oekraïne (UA)	Kiev
Ierland (IRL)	Dublin	Noorwegen (N)	Oslo	Hongarije (H)	Boedapest
IJsland (IS)	Reykjavík	Oostenrijk (A)	Wenen	Vaticaanstad (SCV)	—
Italië (I)	Rome	Polen (PL)	Warschau	Wit-Rusland (BY)	Minsk
Kazachstan (KZ)	Astana	Portugal (P)	Lissabon	Cyprus (CY)	Nicosia

Geografie

		<p>Controleer met een economische kaart:</p> <p>In de omgeving van Berlijn wordt rijst verbouwd.</p> <p>Berlijn is geen wereld stad.</p> <p>Ten westen van Berlijn wordt olie gewonnen.</p> <p>Belangrijkste uitvalswegen in alle richtingen.</p>
<p>Land: Duitsland</p>	<p>Hoofdstad: Berlijn</p>	
		<p>Controleer met een kaart van Oostenrijk:</p> <p>Wenen ligt aan de Donau.</p> <p>Graz ligt ten noorden van Wenen.</p> <p>Wenen grenst aan de zee.</p>
<p>Land: Oostenrijk</p>	<p>Hoofdstad: Wenen</p>	
		<p>Gebruik nu een kaart naar eigen keus.</p> <p>Welke informatie kun je vinden over Bern?</p>
<p>Land: Zwitserland</p>	<p>Hoofdstad: Bern</p>	
		<p>Gebruik een economische kaart.</p> <p>Wat ben je te weten gekomen over Rome?</p>
<p>Land:</p>	<p>Hoofdstad: Rome</p>	

Geografie

		<p>Gebruik een kaart naar eigen keus.</p> <p>Wat ben je te weten gekomen over Amsterdam?</p> <hr/> <hr/> <hr/> <hr/> <hr/> <hr/> <hr/> <hr/>
<p>Land:</p>	<p>Hoofdstad: Amsterdam</p>	
		<p>Gebruik een economische kaart.</p> <p>Wat ben je te weten gekomen over Brussel?</p> <hr/> <hr/> <hr/> <hr/> <hr/> <hr/> <hr/> <hr/>
<p>Land:</p>	<p>Hoofdstad: Brussel</p>	
		<p>Gebruik een kaart naar eigen keus.</p> <p>Wat ben je te weten gekomen over Luxemburg?</p> <hr/> <hr/> <hr/> <hr/> <hr/> <hr/> <hr/> <hr/>
<p>Land:</p>	<p>Hoofdstad: Luxemburg</p>	
		<p>Gebruik een economische kaart.</p> <p>Wat ben je te weten gekomen over Parijs?</p> <hr/> <hr/> <hr/> <hr/> <hr/> <hr/> <hr/> <hr/>
<p>Land:</p>	<p>Hoofdstad: Parijs</p>	