



naam:

antwoorden

1 Reken uit.



5	8		3	9		5	3		6	4		4	2	
1	2	x	1	3	x	1	4	x	1	5	x	1	7	x
6 9 6			5 0 7			7 4 2			9 6 0			7 1 4		

2 Kleur de korting in de strook en schrijf de korting op.



a Het kost € 80,-. Je krijgt 50% korting.



De korting is € 40,-

b Het kost € 80,-. Je krijgt 25% korting.



De korting is € 20,-

c Het kost € 100,-. Je krijgt 20% korting.



De korting is € 20,-

d Het kost € 120,-. Je krijgt 25% korting.



De korting is € 30,-

e Het kost € 200,-. Je krijgt 20% korting.



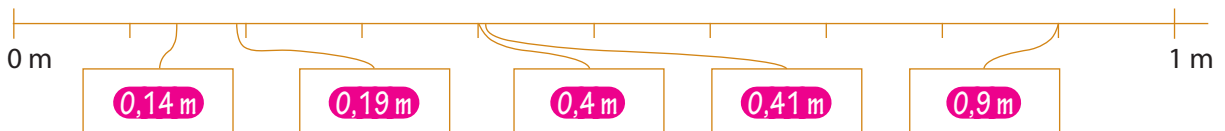
De korting is € 40,-

3 Schrijf de getallen in de kaartjes.

a Kies uit: 0,25 m 0,5 m 0,12 m 0,2 m 0,75 m



b Kies uit: 0,14 m 0,41 m 0,4 m 0,19 m 0,9 m





naam:

antwoorden

4 Kies de juiste maat.

Zet een rondje om de juiste maat.



500 g
0,05 kg
50 mg

250 mg
250 ml
2,5 cl

800 cm
0,8 m
80 dl

75 cm
75 g
75 cl

1,5 l
1,5 g
1,5 dm

5 Zet in de andere maat.

1 m = 100 cm

1 l = 100 cl

1 g = 100 cg

1 m = 1000 mm

1 l = 1000 ml

2 m = 20 dm

5 l = 50 dl

2 g = 20 dg

7 m = 700 cm

7 l = 700 cl



6 Welke oppervlaktemaat kies je?

Kies uit:

b Vul in:

a De oppervlakte van een klaslokaal is ongeveer 50

300 cm² = dm²

De oppervlakte van twee voetbalvelden is ongeveer een 1

6000 dm² = m²

De provincie Limburg heeft een oppervlakte van ongeveer 2 200


50 m² = dm²

De oppervlakte van een beeldscherm is ongeveer 8

80 dm² = cm²

Een papieren zakdoek heeft een oppervlakte van ongeveer 400

25 cm² = mm²





naam:

antwoorden

7 Reken uit.

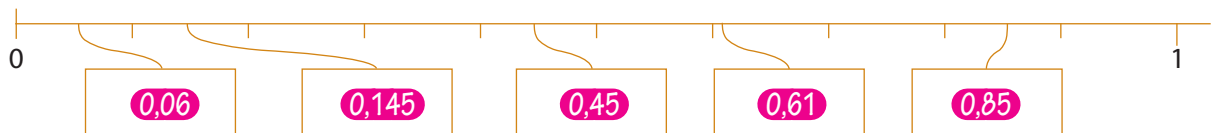
	€ 3 0 8,2 5	€ 2 6 5,7 5	€ 1 4 6,3 9
€ 1 6 6,7 8	€ 1 5 3,0 9	€ 8,1 7	€ 2 1 5,4 0
€ 7,4 5	€ 1 8,3 7	€ 3 4,5 6	€ 7 8,6 7
€ 2 5 3,9 5 +	€ 7,4 8 +	€ 3 8 7,0 9 +	€ 5,3 5 +
€ 4 2 8,1 8	€ 4 8 7,1 9	€ 6 9 5,5 7	€ 4 4 5,8 1
€ 2 3 3,6 5			
€ 1 8 7,5 3			
€ 5 9,8 7 +			
€ 4 8 1,0 5			

8 Reken de nieuwe prijs uit.

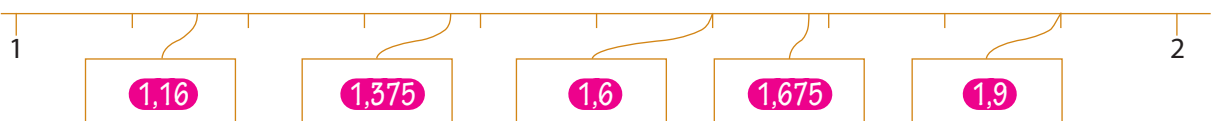
prijs:	korting:	nieuwe prijs:	prijs:	korting:	nieuwe prijs:
€ 160	50%	€ 160 - € 80 = € 80,-	€ 200	25%	€ 200 - € 50 = € 150,-
€ 400	20%	€ 400 - € 80 = € 320,-	€ 800	10%	€ 800 - € 80 = € 720,-
€ 1000	20%	€ 1000 - € 200 = € 800,-	€ 350	10%	€ 350 - € 35 = € 315,-
€ 300	10%	€ 300 - € 30 = € 270,-	€ 600	5%	€ 600 - € 30 = € 570,-
€ 60	10%	€ 60 - € 6 = € 54,-	€ 40	5%	€ 40 - € 2 = € 38,-

9 Zet de kommagetallen op de goede plaats.

a Kies uit: 0,45 0,145 0,06 0,61 0,85



b Kies uit: 1,9 1,375 1,6 1,16 1,675



c Kies uit: 2,05 2,5 2,82 2,2; 2,125

