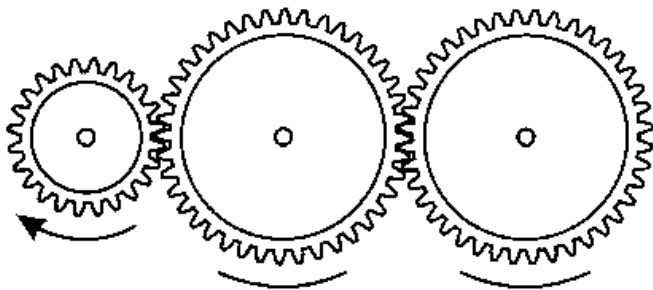


1. Op welk nummer staat de auto geparkeerd?



2. Op de boerderij zijn een heleboel dieren. Er lopen 156 koeien, 43 schapen, 32 varkens, 136 kippen en 4 paarden. Hoeveel dieren zijn er in totaal?

3. Naar welke kant draait het laatste tandwiel? Teken de pijlen.



4. Welk woord hoort niet thuis in het rijtje?

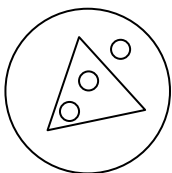
Deense Dog

Siamees

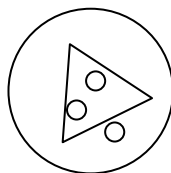
Poedel

Chihuahua

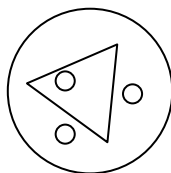
5. Welk figuur past niet in de reeks?



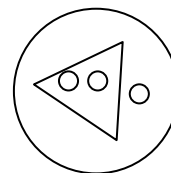
a



b



c



d

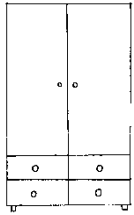
6. In de volgende zin staan allemaal getallen verborgen. Wat is de som van al die getallen?

Martiene rijdt in de nacht met een vrachtwagen langs de rivier.

7. Welk getal is de volgende in de reeks?

52 46 40 34 28 _____

8. Los de rebus op.



k=d - s



k = d

j+



- s

+!



g = h

9. Wat kun je niet eten?

appelbeignet

noga

bitterballen

appelwangen

10. Hoeveel is het sterretje waard? En hoeveel het zonnetje?

$$\star + \star = \odot$$

$$\star \times \star = \odot$$

$$\star \quad \underline{\quad\quad} \quad \odot \quad \underline{\quad\quad}$$

11. Waarop zit een fakir?

a. goudpoeder

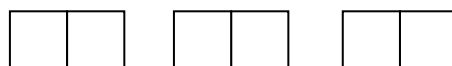
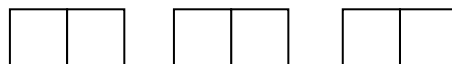
b. rozenblaadjes

c. een spijkerbed

12. Welke beroep lees je hier als je voor elk getal de juiste letter uit het alfabet gebruikt?

2 1 11 11 5 18 _____

13. Hier liggen 2 rijtjes dominostenen. Het aantal punten is verschillend. Leg met dezelfde blokjes nu 2 nieuwe rijtjes die beide evenveel punten hebben.

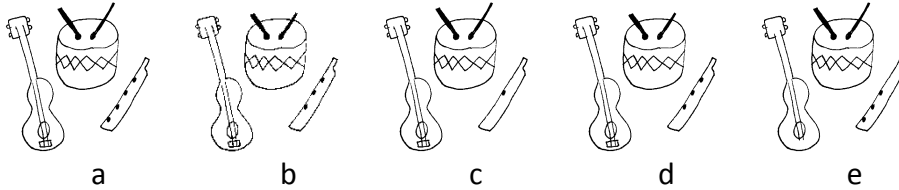


14. Hoeveel letters van het alfabet zijn ook leesbaar als je ze in spiegelbeeld leest?

A B C D E F G H I J K L M
N O P Q R S T U V W X Y Z

_____ letters

15. Welke twee figuren zijn hetzelfde?



16. Uit hoeveel lettergrepen bestaat het volgende woord?

Hottentottententententoonstelling _____ lettergrepen

17. Vul het spreekwoord verder aan. *Zoals het klokje thuis tikt, ...*

- a. ... tikt het nergens.
- b. ... tikt het als ik thuis ben.
- c. ... tikt het overal.

18. Hoeveel keer wordt er hieronder PAP gevormd? Schuin telt ook!

P	P	P	A
P	A	A	P
P	A	P	A
A	P	A	P



= _____

19. Als het 1 april een donderdag is, welke dag is het dan op 1 mei?

20. Welk woord is hetzelfde als krijgen?

geven nemen versturen vragen ontvangen

Antwoorden

1. 87 (draai je blad maar eens om)
2. 371 dieren
3. pijl naar links
4. Siamees (geen hond)
5. c
6. 31
7. 22
8. Dat doe jij goed!
9. appelwangen
10.  2  4
11. c
12. bakker
13. rij 1 = 0-1 / 0-2 / 1-2
rij2 = 0-0 / 1-1 / 2-2
14. 11
15. b en d
16. 10 lettergrepen
17. a
18. 6 keer
19. zaterdag
20. ontvangen