

## Oefenwerkblad door Sylvia – basisschool Maria Goretti

Deze lessuggestie is gemaakt door Sylvia Gerrits van Basisschool Maria Goretti te Gennepe. Het oefenwerkblad hoort bij blok 2 van De wereld in getallen 4.

Naam:
-------

<b>1</b>	3 5 6 4	5 6 4 2	3 6 3 6	2 2 4 7	6 2 4 6
	1 2 5 4 +	2 2 3 8 +	1 5 1 5 +	3 5 1 9 +	4 5 2 6 +
	6 2 5 3	6 2 4 8	7 3 0 3	3 6 3 2	2 4 8 3
	1 2 2 5 -	3 5 2 7 -	3 1 5 1 -	2 1 2 4 -	1 5 4 6 -
<b>2</b>	6 4	5 7	8 9	3 8	9 2
	8 x	4 x	6 x	4 x	7 x
	1 2 3	2 5 6	3 4 7	2 4 8	1 8 3
	7 x	4 x	3 x	4 x	6 x

Naam:

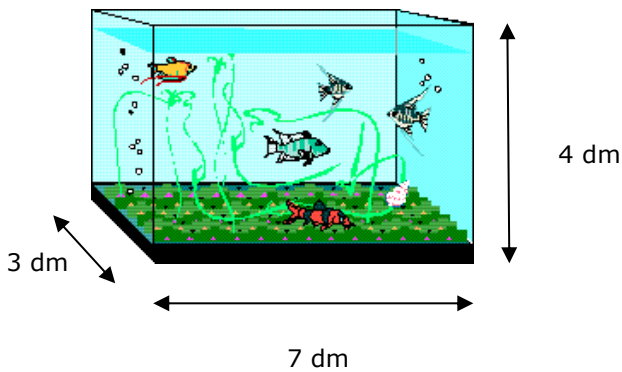
3 Kleur het grootste getal?

2,35	of	2,4
0,47	of	0,4
0,5	of	0,05
1,02	of	1,1
4,67	of	4,6

Welk kommagetal ligt er precies tussenin?

0,5		0,7
5,5		5,6
3,4		3,8
22,5		24
0,42		0,46

4

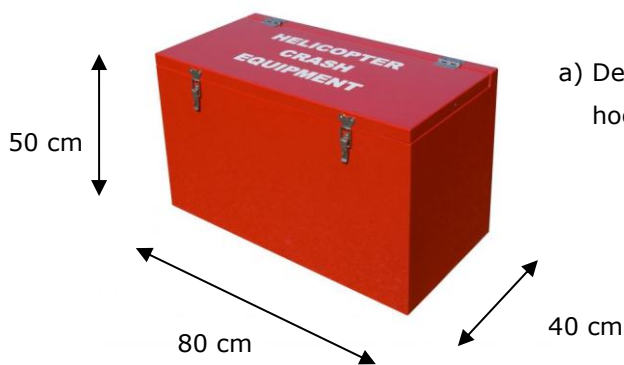
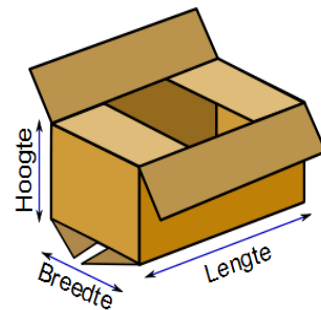


a) Wat is de inhoud van dit aquarium?

..... dm<sup>3</sup>

a) Deze doos is 8 cm lang, 4 cm breed en 3 cm hoog. Wat is de inhoud van deze doos?

..... cm<sup>3</sup>

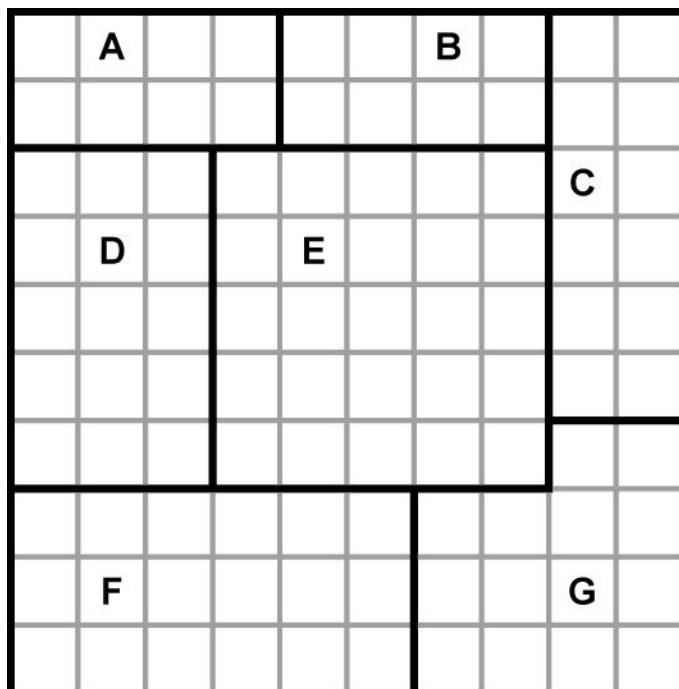


a) Deze kist is 80 cm lang, 40 cm breed en 50 cm hoog. Wat is de inhoud van deze kist?

..... dm<sup>3</sup>

Naam:
-------

5 Hoe groot zijn de campingvelden?



┌──┐ = 1 hm

**1 ha = 1 hm x 1 hm = 100 m x 100 m**

Veld A is ..... ha.

Veld B is ..... ha.

Veld C is ..... ha.

Veld D is ..... ha.

Veld E is ..... ha.

Veld F is ..... ha.

1 dam = ..... m

1 hm = ..... m

1 km = ..... m