


Procenten

Deel 2 & **TIJD**

Groep 8



Je naam

1

SPORTARTIKELEN NU 25% KORTING

Wat is de nieuwe prijs?



Oud € 10,-
Nieuw €



Oud € 20,-
Nieuw €



Oud € 30,-
Nieuw €



Oud € 6,-
Nieuw €



Oud € 1200,-
Nieuw €

2

In 2006 gingen 25104 Nederlanders op vakantie naar Turkije.

In 2007 gingen 30124 Nederlanders op vakantie naar Egypte.

Hoe groot is de stijging?

- A ongeveer 15%**
- B ongeveer 20%**
- C ongeveer 25%**
- D ongeveer 50%**



3

Om een voldoende te halen op de Topotoets moet je 80% van de vragen goed hebben.



**De Topotoets heeft in totaal 50 vragen.
Hoeveel vragen moet je goed hebben om
een voldoende te halen ?**

Dat zijn vragen.

4

Nu of Nooit!
NU 30% KORTING

Hoeveel Euro korting krijg je?



Prijs € 30,-
Korting €



Prijs € 200,-
Korting €



Prijs € 15,-
Korting €

5

Vertrektijden naar Leeuwarden	
	13.55
	14.25
	14.55
	15.25

Het is nu:



**Ashwin wil met de bus naar Leeuwarden.
Hoe lang moet hij nog wachten?
..... minuten.**



6




**Tijd in Tokyo is
05.09 uur.**

**In Nederland is het
dan 7 uren vroeger.**

Hoe laat is het dan in Nederland?

Dan is het

7

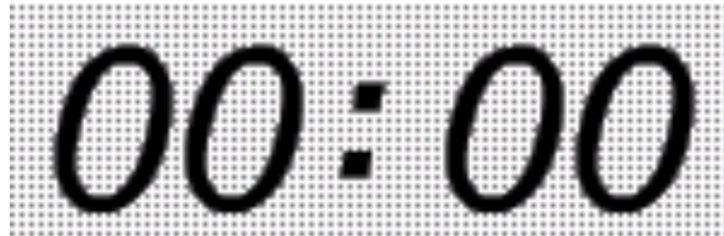


Begin van de volgende voorstelling.

**"Het nu kwart voor zeven", zegt Sila.
Hoe lang duurt het nog voor de volgende voorstelling
begint? minuten.**

8

ALARM



**Nynke stelt het alarm in op 13 minuten
over 7 's ochtends.**

Wat moet het klokje dan aangeven?

..... (In 00:00 opschrijven)

9

11:10	Munich	<u>UA</u>	9103	■
11:15	Frankfurt	<u>LH</u>	4573	■
11:15	Frankfurt	<u>NZ</u>	4509	■
11:15	Frankfurt	<u>TG</u>	7697	■
11:15	Istanbul	<u>TK</u>	1938	■
11:15	Vienna	<u>OS</u>	451	■
11:25	Banjul	<u>AA</u>	7805	■



Het is nu kwart voor tien.

**Over hoeveel minuten vertrekt vlucht
TK 1938 naar Istanbul?**

..... minuten.

10



Hoe laat is het op de klok?

- A 38 minuten voor 12**
- B 38 minuten voor 1**
- C 38 minuten over 12**
- D 38 minuten over 1**

11



**In april 2008 moest Brilsmurf naar de oogarts.
Hij moet over een half jaar terugkomen voor controle.**

In welke maand is dat?

..... **(Schrijf ook het jaar erbij).**

12

Schrijf de tijd op in woorden.



Voorbeeld:
Het is kwart voor tien



A. Het is ongeveer

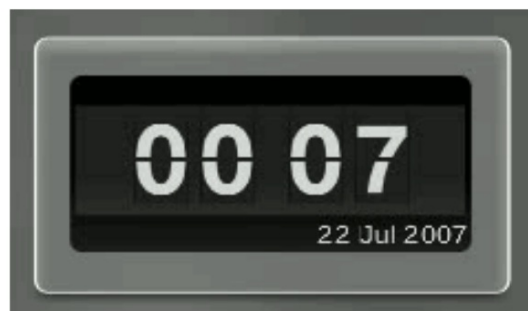


B. Het is ongeveer



C. Het is ongeveer

13



Hoe laat is het op de klok?

- A 7 minuten over 12**
- B 7 minuten over 1**
- C 7 minuten voor 12**
- D 7 minuten voor 1**

14



Zomervakantie in juli.

In welk kwartaal valt juli?

- A in het eerste kwartaal**
- B in het tweede kwartaal**
- C in het derde kwartaal**
- D in het vierde kwartaal**

15

Antwoorden

- 1 € 7,50 / € 15,- / € 22,50 / € 4,50 / € 900,-**
- 2 B - Ongeveer 20%**
- 3 40 vragen**
- 4 € 30,- / € 9,- / € 200,- / € 60,- / € 15,- / € 4,50**
- 5 3 minuten**
- 6 10.09 of 22.09 uur**
- 7 25 minuten**
- 8 07:13**
- 9 90 minuten**
- 10 C**
- 11 oktober 2008**
- 12 A. Twee-en-twintig minuten over acht / B. Tien minuten over tien / C. Eén uur**
- 13 A**
- 14 C**

